




# سنجش ۷

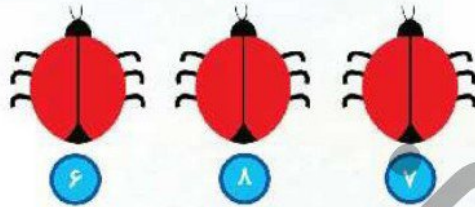


جدول زیر را کامل کن و در جاهای خالی اعداد مناسب بنویس.



۱			۴	۵		۷
---	--	--	---	---	--	---

به تعداد عددی که زیر هر کفشدوزک هست روی بال آن خال بکش.

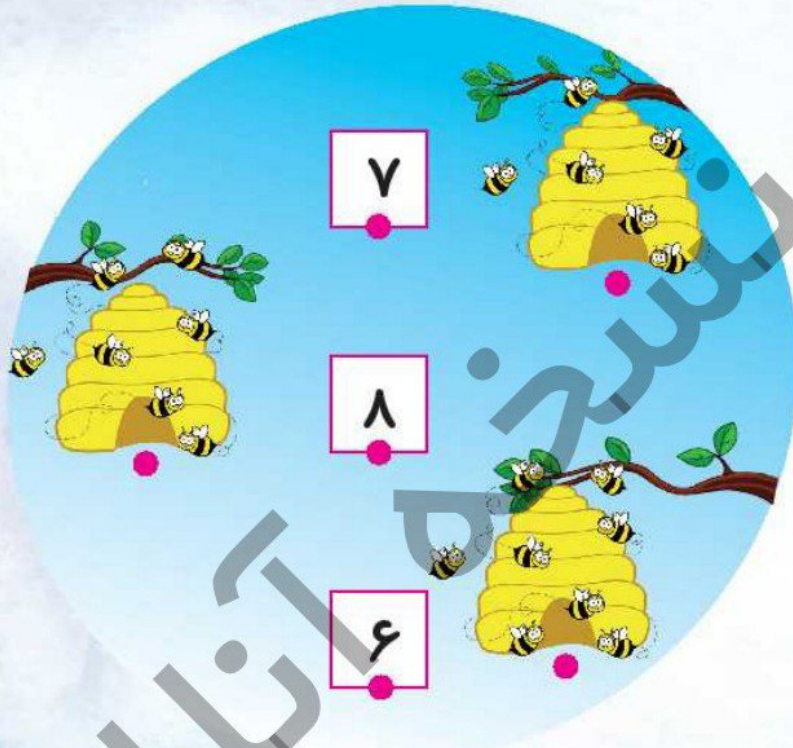


درنا به برنا گفت: آیا می توانی دسته هایی که تعداد شکل هایشان مثل هم است را به هم وصل کنی؟  
و به تعداد هر دسته در زیرش چوب خط بکش.






**?** برنا سه کندوی زنبور عسل دید. زنبورها به دور کندوها جمع شده بودند. دور هر کندو چند زنبور می‌بینی؟ بشمار و با انگشتان دست نشان بده. زنبورهای هر دسته را به عدد آن وصل کن و برای هر زنبور در ردیف خود یک گل بکش.




**?** برنا با توپ‌هایش بازی می‌کرد، ناگهان پایش به سبد توپ‌ها خورد و تعدادی توپ روی زمین ریخت. چند عدد توپ داخل سبد و چند عدد توپ بیرون سبد است؟ توپ‌های روی زمین را رنگ کن و به تعداد توپ‌های داخل سبد چوب خط بکش.



به دسته‌ی خرگوش‌های زیر نگاه کن. به تعداد هر خرگوش در دسته‌ی سمت راست یک هویج بکش. چند خرگوش و چند تا هویج در دسته می‌بینی؟ بشمار و بگو.



به تعداد اعداد داده شده در هر ردیف دایره بکش.



به الگوها نگاه کن و ادامه‌ی آن را از آخر کتاب جدا کن و در جای مناسب بچسبان.




جداول زیر را کامل کن.



۳	۵	۷	۴
۷		۵	۳
	۷	۳	۵
۵	۳	۴	

۶	۲		۲		۶
۸		۲	۸	۶	
	۸	۶		۲	۸
	۶	۲	۸	۶	
۶		۸		۲	۸
۲	۸		۲		۶

هر دسته از تصاویر را بشمار و به اعداد وسط تصاویر وصل کن.



۶



۴



۸



۷

الگورا ادلمه بده.

۱ ۲ ۳ ۴ ۵ ۶ ۷ ۸

