
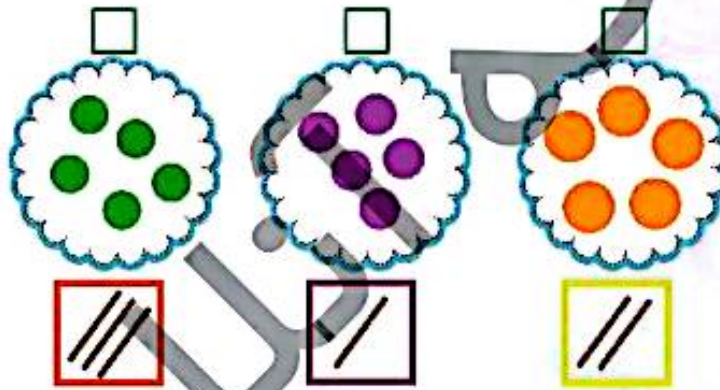


به دسته‌های زیر با دقت نگاه کن. از هر دسته روی دو شکل خط بکش. حالا هر دسته چند شکل دارد؟ عدد جدید را در زیر هر شکل بنویس.



به تعداد چوب‌خط‌ها روی شکل‌ها خط بکش. حالا در هر دسته چند شکل وجود دارد؟ عدد جدید را بالای هر شکل بنویس.



در هر دسته به تعداد دایره‌ها از اشکال رنگی بزن و به تعداد اشکال رنگی نشده چوب خط بکش.

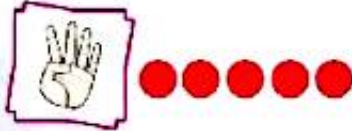
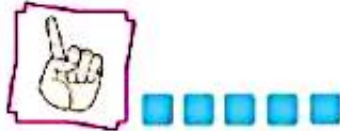


آشایی با مفهوم کم کردن از دسته

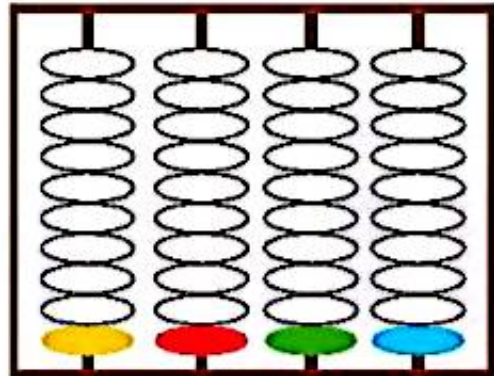
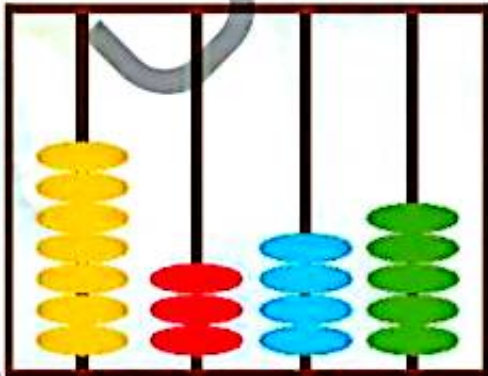
سنجش؟



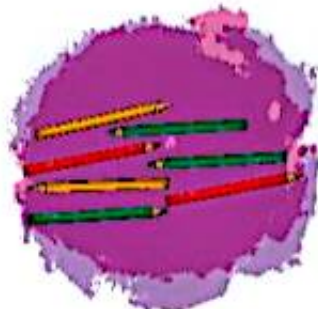
به تعداد انگشت‌های سمت چپ به هر دسته اضافه کن. حالا هر دسته چند شکل دارد؟ در سمت راست عدد آن دسته را بنویس.



به تمامی مهره‌های سمت چپ دو مهره اضافه کن. به تعداد آن از مهره‌های سمت راست رنگ کن.



به تعداد شکل‌های هر دسته ۲ تا اضافه کن. حالا هر دسته چند شکل دارد؟ زیر آن بنویس.



انگشت‌های سمت چپ چه عددی را نشان می‌دهد؟ به تعداد انگشت‌های سمت چپ روی شکل خط بکش. حالا چه تعداد شکل می‌ماند؟ عدد هر دسته را در سمت راست بنویس.



