

سنجش ۱۳



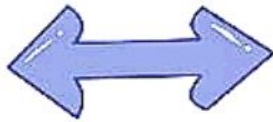

در هر ردیف، نیمه‌ی درست تصویر سمت چپ را پیدا کن و علامت بزنی.

نیمه‌ی تصاویر را به هم وصل کن.

●	●	●	●	●
●	●	●	●	●



خط تقارن اشکال زیر را بکش.




جدول را کامل کن.

۱	۴		۶	۵	۴	۳		۵
۲	۵	۳	۷		۲	۸	۴	۷
۹		۶	۸	۳	۴	۴	۳	
۴	۵	۸	۶		۷	۷	۶	۲



درنا یک نقاشی کشید و از برنا خواست که آن را مانند نمونه‌ی داده شده رنگ کند.



در هر ردیف کدام مورد نیمه‌ی تصویر سمت چپ است؟




آشنایی با مفهوم هارن



سنجش ۱۳



نیمه تصاویر را بکش.




کدام یک از ستون یا ردیف‌های زیر تنها با کشیدن یک خط همه تصاویر به دو نیم تقسیم می‌شوند؟ (به



نمونه دقت کن). خط تقارن آن را بکش.



الگوها را ادامه بده.



نسخه آنلاین

