
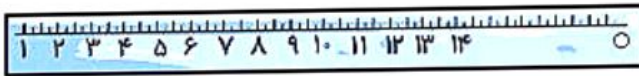






## سنجش II



اندازه‌ی مداد زیر را روی خط کش علامت بزن. 




به تصاویر زیر نگاه کن. برای این که اندازه‌ی آن‌ها مشخص شود چند خانه باید رنگ شود؟ 



بلندی قد خرگوش را اندازه بگیر و روی متر علامت بزن. 



کتاب ریاضی تو چند وجب است؟ 




مفاهیم اندازه‌گیری و آشنایی با ابزارهای اندازه‌گیری ▶ فصل هشتم

درنا خط‌کش را برداشت و یک مداد با کمک خط‌کش کشید.



حالا یک مداد بدون خط‌کش بکش. این دو مداد چه فرقی دارند؟ فکر می‌کنی کدام بهتر شده؟ چرا؟ دوست داری از کدام روش استفاده کنی؟



الگوی زیر را ادامه بده.



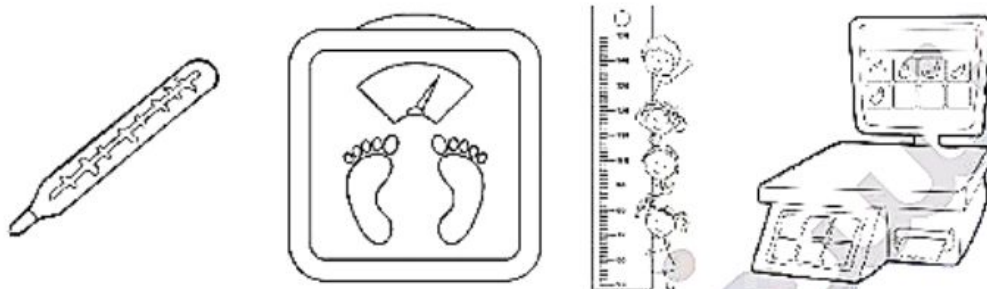
جدول زیر را با کمک برجسبهای آماده شده مرتب کن.




کدام یک از لوازم اندازه‌گیری زیر برای انجام تکالیف بچه‌ها در مدرسه و خانه کاربرد دارد؟




تصویر ترازوی خانگی را زرد و ترازوی میوه فروشی را قهوه‌ای کن.










درنا به برنا گفت: باید بدانی که خط‌کش نیز ابزار اندازه‌گیری است خط‌کش کاربردهای دیگری هم دارد مثلاً کار با **شابلون** از آن استفاده کنی. حالا یک **شابلون** بردار و همه‌ی شکل‌های آن را بکش.




درنا به پرنایک شاپلون داد و به او گفت: در هر ردیف مانند نمونه چند شکل بکش. 

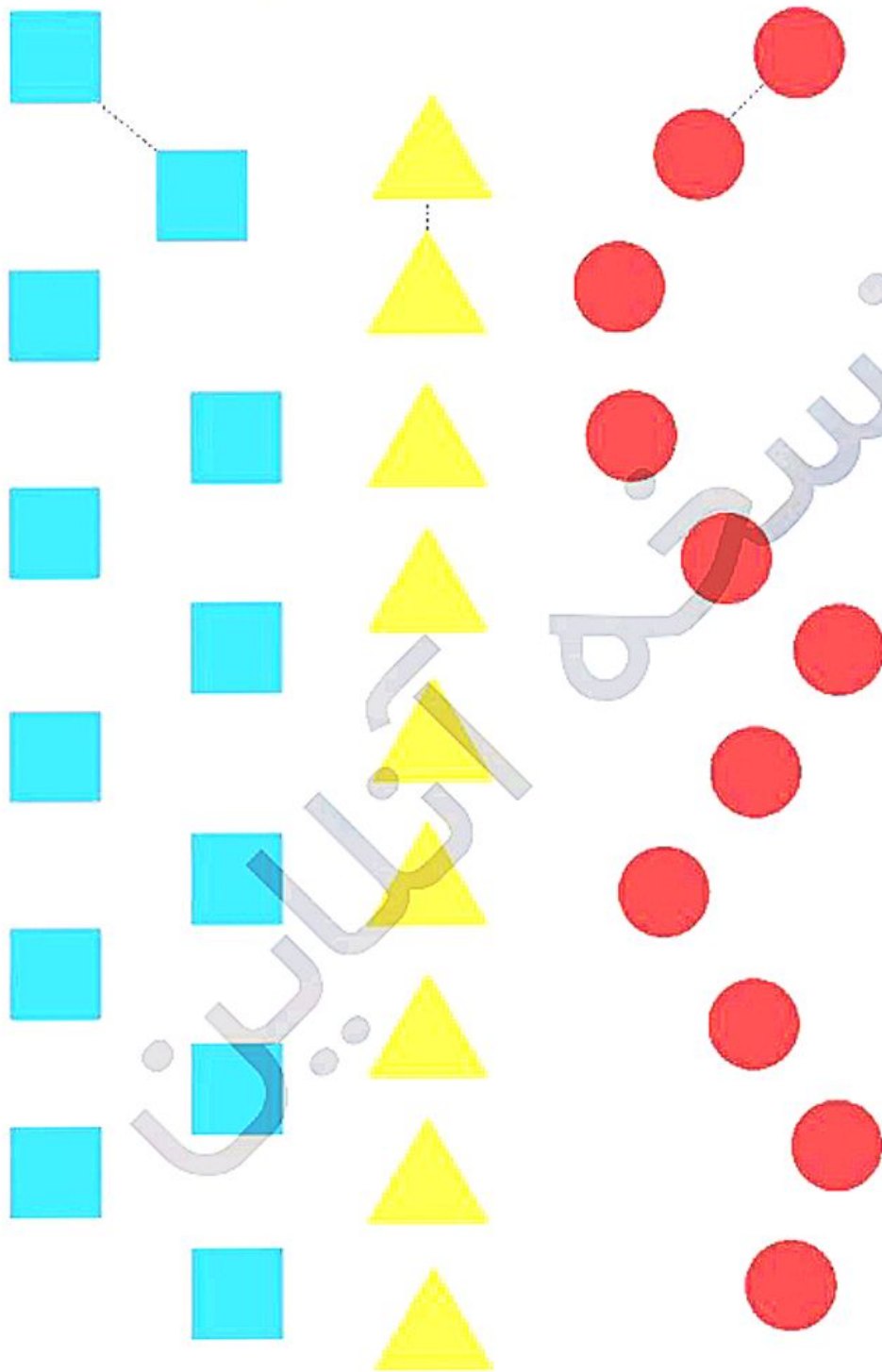


درنا به پرنایک خط‌کش داد. به او گفت: به راحتی می‌توانی با این خط‌کش، خط‌های راست و شکسته بکشی. حالا خط‌کش را بردار و یک خط راست و یک خط شکسته بکش. 



خطکش را بردار و شکل‌های شبیه به هم را با خطکش به هم وصل کن.



آشنایی با خطکش و کاربرد آن

