

اول دبستان ارمغان هفته

شماره
۱۰



نام و نام خانوادگی:

تاریخ:

پایه:

نام آموزگار:

تم ۸: صفحه ۵۰ تا ۵۶

ریاضی

درس ۴: دنیای جانوران ۲




علوم

درس ۳، ۲، ۱


فارسی

ریاضی

۱ عدد مناسب هر شکل را بنویسید.



۲ اندازه‌ی هر شکل چند پاک‌کن است؟



اندازه‌ی مداد است.




اندازه‌ی شانه است.

۳ جدول شگفت‌انگیز زیر را با عددهای مناسب کامل کنید.


۳		۱	۲
۲	۱		۳
			۱
۱	۲	۳	۴

در هر دسته، آنقدر شکل بکشید تا تعداد آن‌ها با عدد نوشته شده پایین هر دسته برابر شود.

۴



۳



۴

علوم

جانورانی را که مثل هم حرکت می‌کنند به هم وصل کنید.

۱



۱.۱




۱.۲



۱.۳




۱.۴




۱.۵



۱.۶



۱.۷



۱.۸






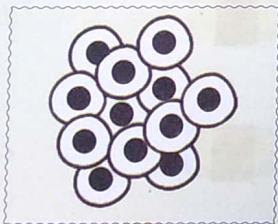
۱.۹



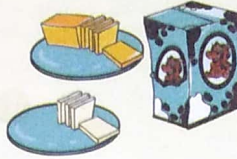



۱.۱۰

مراحل رشد قورباغه را شماره گذاری کنید.


۲



هر جانور چه فایده‌ای برای ما دارد؟ به هم وصل کنید.



با مشورت گرفتن از بزرگ‌ترهائیتان تصویر دو جانور که برای ما انسان‌ها مشکلات به وجود می‌آورند را در زیر بکشید.



فارسی

کلمه‌ها را مرتب کنید و جمله بسازید.

بامداد

آسب

با

آمد


آسد

توت

تارا

داد











با آدب



از کلمه‌های داخل بادکنک‌ها برای کامل کردن جمله‌ها استفاده کنید.

- الف) بابا داد.
 ب) سما بست.
 پ) داماد با آمد.

در نام هر تصویر کدام ترکیب به کار رفته است؟

	<input type="radio"/>	رو	<input type="radio"/>		<input type="radio"/>
	<input type="radio"/>	بو	<input type="radio"/>		<input type="radio"/>
	<input type="radio"/>	دو	<input type="radio"/>		<input type="radio"/>
	<input type="radio"/>	سو	<input type="radio"/>		<input type="radio"/>
	<input type="radio"/>	مو	<input type="radio"/>		<input type="radio"/>
		سد			

شاخص‌ها				شاخص‌ها			
نیاز به تلاش	قابل قبول	خوب	خیلی خوب	نیاز به تلاش	قابل قبول	خوب	خیلی خوب
							