



نام و نام خانوادگی: \_\_\_\_\_ تاریخ: \_\_\_\_\_ موضوع: ریاضی


هدف: \_\_\_\_\_

۱- قشنگم در جاهای خالی به حروف و یا عدد بنویسید .

۱	۳	۶	۲۰	۳۰
<input type="text"/>	<input type="text"/>	<input type="text"/>	<input type="text"/>	<input type="text"/>
شش	یک	بیست	سی	سه
<input type="text"/>	<input type="text"/>	<input type="text"/>	<input type="text"/>	<input type="text"/>

۲- قبل و یا بعد هر عدد را بنویس .

۱۰ - _____	_____ - ۱۱ - _____
_____ - ۱۷ - _____	_____ - ۱۲ - _____
_____ - ۱۹ - _____	۱۶ - _____
۱۳ - _____	_____ - ۱۴ - _____
_____ - ۱۹ - _____	_____ - ۱۹ - _____
_____ - ۱۸ - _____	_____ - ۱۵ - _____
۱۸ - _____	_____ - ۲۰ - _____





نام و نام خانوادگی: \_\_\_\_\_ تاریخ: \_\_\_\_\_ موضوع: \_\_\_\_\_ هدف: \_\_\_\_\_

۳- برای شکل های زیر جمع و برای جمع های زیر شکل بکشید .

----- + ----- = -----

----- + ----- = -----

----- + ----- = -----

----- + ----- = -----

۶+۲=

۴+۵=

۱+۹=

۳+۳=

۴- جمع های زیر را با رنگ زدن به دست بیاور . (با دو رنگ)

--	--	--	--	--	--	--	--	--	--

--	--	--	--	--	--	--	--	--	--

۱+۵=

۴+۴=

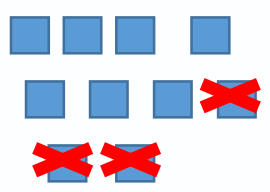
۵- برای شکل ها ، عملیات تفریق و جواب عملیات را با

استفاده از شکل به دست بیاور .

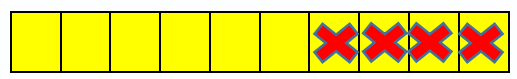




نام و نام خانوادگی: \_\_\_\_\_ تاریخ: \_\_\_\_\_ موضوع: \_\_\_\_\_ هدف: \_\_\_\_\_




----- = -----



----- = -----

9-3=

7-5=



----- = -----

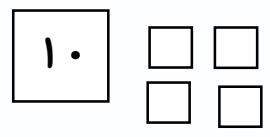


----- = -----

4-4=

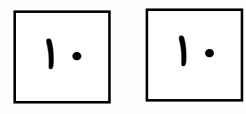
10-6=

۶- جدول ارزش مکانی را کامل کن .




ده تایی	یکی

-----



ده تایی	یکی

-----





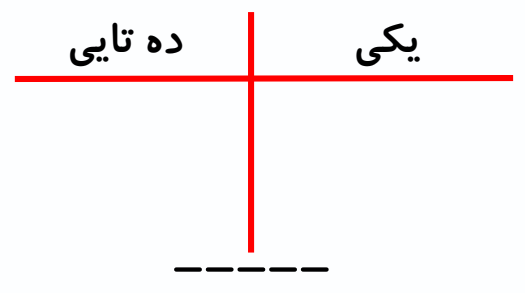
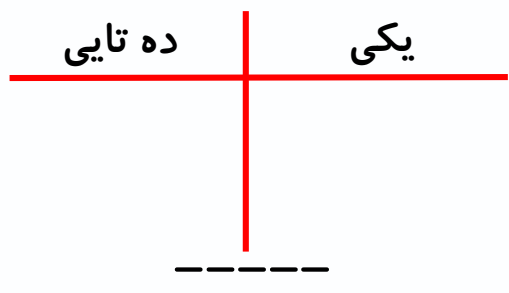
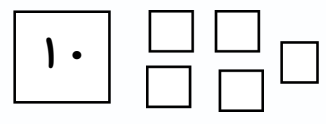
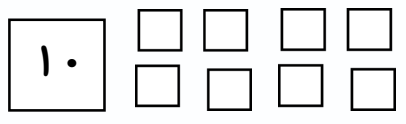


نام و نام خانوادگی: \_\_\_\_\_

تاریخ: \_\_\_\_\_

موضوع: \_\_\_\_\_

هدف: \_\_\_\_\_



تا ۲۰ و بالعکس ادامه بده .

۱۰ - ۱۱ - ...

..... - ۱۹ - ۲۰

خانواده ی ۱۰ هم به صورت رو به جلو و هم به صورت رو به عقب حفظ شود .