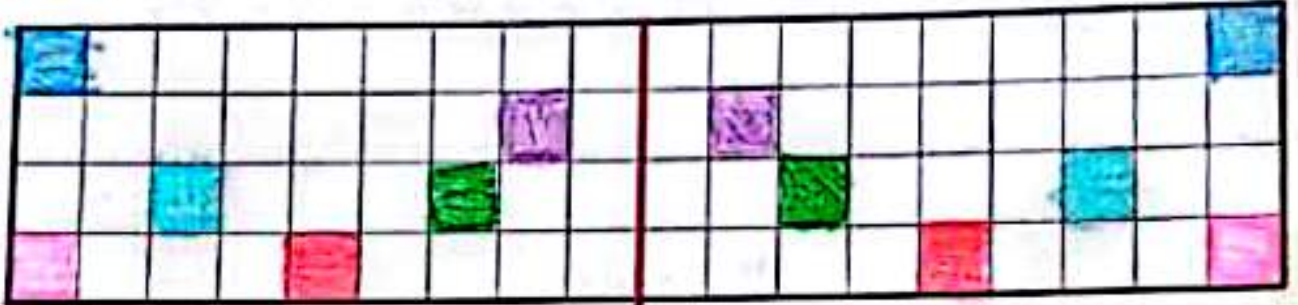
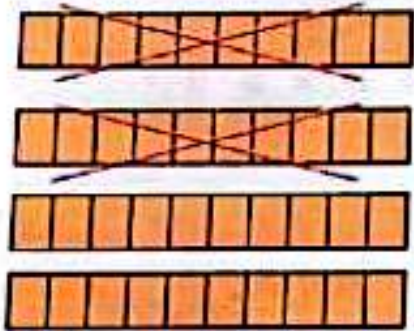



در سمت راست ۶ خانه را به دلخواه رنگ بزن! سپس نیمی دیگر را با توجه به خط تقارن کامل کن.



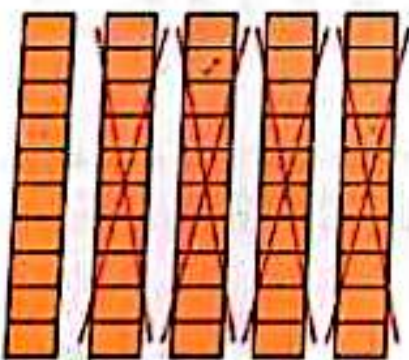
برای هر شکل یک عبارت تفریق بنویس.




$$۴۰ - ۲۰ = ۲۰$$



$$۵۰ - ۳۰ = ۲۰$$



$$۵۰ - ۳۰ = ۲۰$$



$$۳۰ - ۱۰ = ۲۰$$

دانش آموز بتواند الگوی عددی را ادامه دهد.

نمایش آموز بتواند یک شکل شعاعی رسم و فریب آن را بکشد.

دانش آموز بتواند تطبیق های ضرب را با کمک شکل انجام دهد.

۲ مسئله‌ها را به کمک محور حل کن.




الف) کتاب لریا ۱۸ صفحه دارد. او دیروز ۳ صفحه و امروز ۵ صفحه دیگر خواند. او چند صفحه از کتابش را نخوانده است؟


$$18 - 3 - 5 = 9$$



ب) در یک لانه ۱۷ پرنده بودند. ۱۳ تا از پرنده‌ها پرواز کردند و رفتند. ۸ پرنده‌ی دیگر به لانه برگشتند. حالا چند پرنده در لانه است؟



$$17 - 13 + 8 = 12$$



ب) یک اتوبوس با ۱۴ مسافر از میدان آزادی حرکت کرد. در ایستگاه اول ۷ نفر پیاده شدند. در ایستگاه دوم ۵ نفر سوار شدند. حالا اتوبوس چند مسافر دارد؟



$$14 - 7 + 5 = 12$$



ت) ژاله در مدرسه ۳ کارت امتیاز، ۵ امتیازی از آموزگارش گرفته بود. او دیروز یک جامدادی از کمد جایزه برداشت. ۱۲ امتیاز را به ناظم داد. حالا برای ژاله چند امتیاز باقی مانده است؟



$$5 + 5 + 5 - 12 = 3$$



علوی

۵ عدد هر دسته را بنویس



۷...



۱۴...



۲۱...



۲۸...

✓ روز

۶ آیا می‌دانی یک هفته چند روز است؟ تقویم زیر را کامل کن و تاریخ روزهای جمعه را رنگ بزن.

شنبه	یکشنبه	دوشنبه	سه‌شنبه	چهارشنبه	پنجشنبه	جمعه
۱	۲	۳	۴	۵	۶	۷
۸	۹	۱۰	۱۱	۱۲	۱۳	۱۴
۱۵	۱۶	۱۷	۱۸	۱۹	۲۰	۲۱
۲۲	۲۳	۲۴	۲۵	۲۶	۲۷	۲۸
۲۹	۳۰	۳۱	۳۲	۳۳	۳۴	۳۵

۷ جاهای خالی را با اعداد و حروف مناسب کامل کن.

یکی	ده‌تایی
۰	۲

عدد: ۲۰۰...
حروف: بیست و ...

یکی	ده‌تایی
۳۰۰	۴۰۰

عدد: ۴۳۰...
حروف: چهل و سه و ...

یکی	ده‌تایی
۸۰	۵۰

عدد: ۵۸۰...
حروف: پنجاه و هشت

یکی	ده‌تایی
۷	۹

عدد: ۹۷۰...
حروف: نود و هفت

یکی	ده‌تایی
۲۰۰	۶۰

عدد: ۶۲۰...
حروف: شصت و دو

یکی	ده‌تایی
۱۰۰	۷۰

عدد: ۷۱۰...
حروف: هفتاد و یک

$۳۷ - ۳۸ - ۳۹ \dots ۱۰$ $۴۱ \dots ۴۲ \dots ۴۳ \dots ۴۴ \dots ۴۵$
 $۵۵ - ۶۰ - ۶۵ \dots ۷۰$ $۷۵ \dots ۸۰ \dots ۸۵ \dots ۹۰$
 $۷۲ - ۷۴ - ۷۶ \dots ۸۰$ $۸۲ \dots ۸۴ \dots ۸۶$
 $۱۰ - ۲۰ - ۳۰ \dots ۴۰$ $۵۰ \dots ۶۰ \dots ۷۰ \dots ۸۰ \dots ۹۰$
 $۲۴ - ۲۴ - ۲۴ \dots ۳۴$ $۴۴ \dots ۵۴ \dots ۶۴ \dots ۷۴ \dots ۸۴ \dots ۹۴$
 $۴۲ - ۴۷ - ۵۲ \dots ۶۲$ $۷۷ \dots ۸۲ \dots ۸۷$
 $۱۹ \dots ۲۰ \dots ۲۱ \dots ۲۲ \dots ۲۳ \dots ۲۴ - ۲۵ - ۲۶$
 $\dots ۳۰ \dots ۳۵ \dots ۴۰ \dots ۵۰ \dots ۶۰ \dots ۷۰ - ۸۰ - ۹۰$
 $\dots ۴۰ \dots ۴۵ \dots ۵۰ \dots ۵۵ \dots ۶۰ \dots ۶۵ - ۷۰ - ۷۵$

از زیر را ذهنی حساب کن

$$۴۰ - ۱۰ = ۳۰$$

$$۳۰ - ۳۰ = ۰$$

$$۷۸ - ۸ = ۷۰$$

$$۹۰ - ۷۰ = ۲۰$$

$$۷۰ - ۳۰ = ۴۰$$

$$۹۵ - ۵ = ۹۰$$

$$۵۰ - ۴۰ = ۱۰$$

$$۸۰ - ۲۰ = ۶۰$$

$$۵۶ - ۶ = ۵۰$$

