

به نام خدا


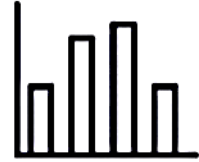
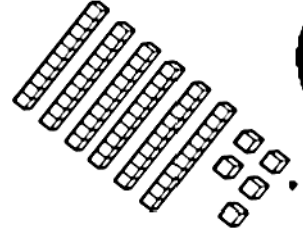
علوی



پایه دوم دبستان

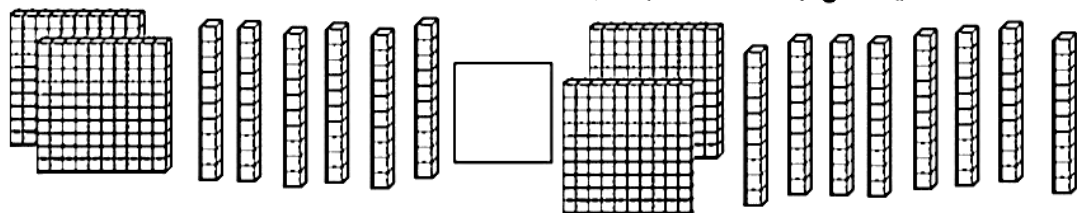
نام و نام خانوادگی

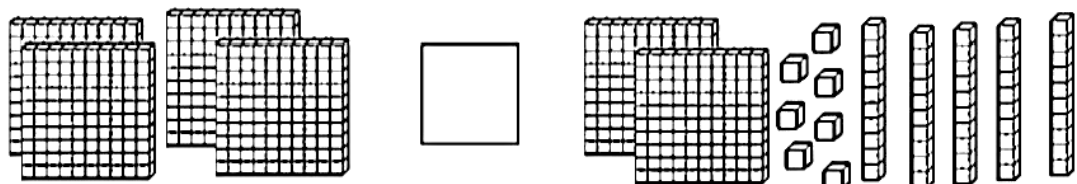
ریاضی دوره ای فصل ششم

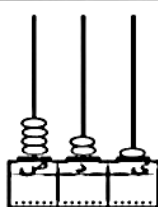


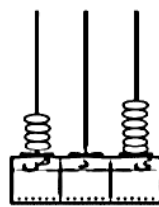
به نام خدا
نمونه سوالات فصل نهم ریاضی پایه دوم دبستان

۱- مقایسه کن و علامت $<=>$ بگذار.









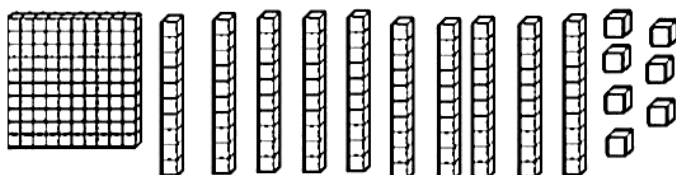
صدگان	دهگان	یکان
۷	۳	۵

صدگان	دهگان	یکان
۷	۴	۹

صدگان	دهگان	یکان
۴	۹	۹

صدگان	دهگان	یکان
۶	۰	۸

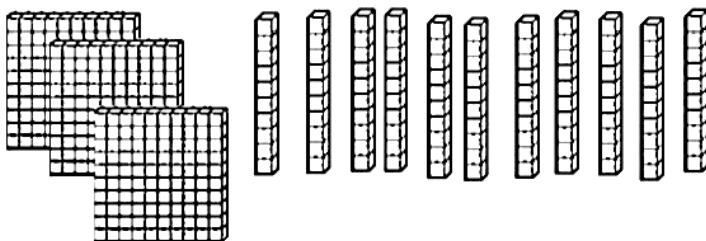
۲- ابتدا دسته های ده تایی و صدتایی درست کن و سپس جدول را کامل کن و به عدد و حروف بنویس.



صدگان	دهگان	یکان

به عدد:

به حروف:



صدگان	دهگان	یکان

به عدد:

به حروف:



۶۹	○	۴۵
۷۰۵	○	۷۱۵
۴۹۹	○	۴۰۹
۵۰۰	○	۳۷۸
۳۸۱	○	۵۹۶

$۳۰۰ + ۴۰۰ = \dots$ $۹۰۰ - ۲۰۰ = \dots$

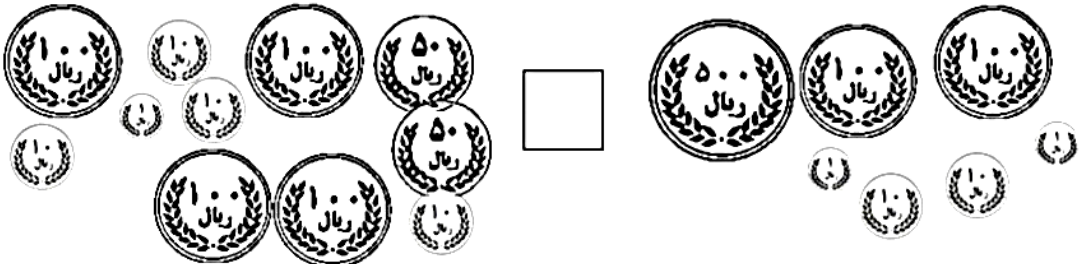
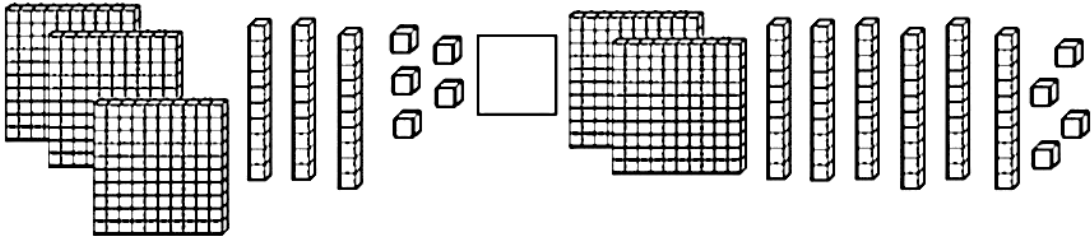
$۲۰۰ + ۵۰۰ = \dots$ $۶۰۰ + ۳۰۰ = \dots$

$۲۰۰ + ۳۰۰ + ۷ = \dots$ $۴۰۰ + ۲۰۰ + ۵ = \dots$

$۵۰۰ - ۱۰۰ = \dots$ $۸۰۰ - ۴۰۰ = \dots$



۴- با خط زدن قسمت های مساوی از ۲ طرف مشخص کن که کدام طرف بزرگتر است؟



$۴۰۰ + ۲۰۰ + ۱۰۰ + ۷ + ۱۰ + ۵۰ = \dots$

$۳۰۰ + ۲۰۰ + ۱۰۰ + ۱۰ + ۵۰ + ۹ = \dots$

$۱۰۰ + ۶۰۰ + ۱۰ + ۲۰ + ۳۰ + ۲ + ۶ = \dots$

$۱۰۰ + ۵۰۰ + ۳۰ + ۱۰ + ۱ + ۸ = \dots$

۵- سه دوست به نام های علی، محمد و مهدی قدشان را اندازه گرفتند. قد علی ۱۲۷ سانتی متر بود و قد مهدی ۹ سانتی متر از او کوتاه تر و قد محمد ۸ سانتی متر از او بلند تر بود. قد مهدی و محمد چند سانتی متر است؟ (نامشان را روی تصویر بنویس).



۶- حسین ۲۵۰ ریال پول داشت. با ۱۳۰ ریال دفتر و پاکن خرید. چقدر از پولش باقی مانده است؟



اگر مادرش ۶۵ ریال به او پول بدهد، الان چقدر پول دارد؟

۷- سپهر امسال ۱۱۵ روز به سرکار رفته است: ۲۵ روز از ماه مهر، ۳۰ روز از ماه آبان و چند روز از ماه آذر و دی. تعداد روزهایی که سپهر در ماه آذر و دی به سرکار رفته است چقدر است؟



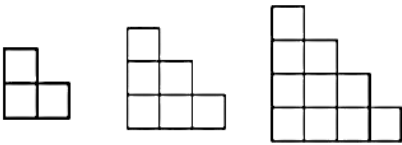
۸- با توجه به الگو، عقربه های بعدی را خودت رسم کن.



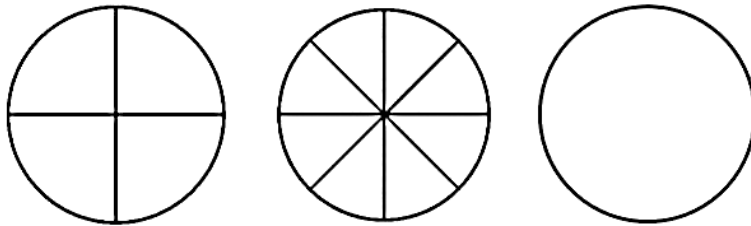
۹- هادی یک سکه ی ۵۰۰ ریالی، دو سکه ی ۵۰ ریالی و ۴ سکه ی ۱۰ ریالی دارد. اگر ۲۷۵ ریال را برای کمک به دانش آموزان نیازمند خرج کند، حالا چقدر پول دارد؟



۱۰- الگوها را ادامه بده.



۳، ۶، ۱۰،،،،



۵، ۷، ۱۰،،،،

۲۷، ۲۹، ۳۳،،،،

۱۱- پارسا الان ۱۴ ساله است و خواهرش ۵ سال از او کوچکتر

است. ۲ سال پیش روی هم چند سال سن داشتند؟



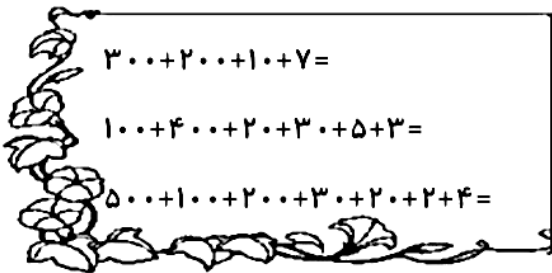


۱۲- با رسم دسته های ۱۰۰ تایی و ۱۰ تایی و یکی حل کن (هر جا لازم بود دسته های ۱۰ تایی و ۱۰۰

تایی درست کن).

$$\begin{array}{r} + 325 \\ + 217 \\ \hline \end{array}$$

$$\begin{array}{r} + 115 \\ + 277 \\ \hline \end{array}$$

۱۳- جمع های زیر را انجام بده.



۱۴- طرف دوم تساوی های زیر را بنویس.

۱۵- سکه های زیر چند ریال می شود؟


ریال

ریال

ریال

۱۶- ساناز ۲۷۰ ریال عیدی جمع کرد. از قبل هم در قلکش ۳۶۰ ریال داشت. او الان چند ریال پول

دارد؟



۱۷- پریسا ۹۷ دقیقه از یک فیلم سینمایی را نگاه کرد و بعد رفت تا کمی خوراکی بخورد. وقتی برگشت ۲۱ دقیقه دیگر از این فیلم را نگاه کرد تا تمام شد. این فیلم سینمایی چند دقیقه است؟

۱۸- با رسم دسته های ده تایی و صدتایی و یکی، تفریق های زیر را انجام بده.

$$\begin{array}{r} 500 \\ - 378 \\ \hline \end{array}$$
$$\begin{array}{r} 457 \\ - 148 \\ \hline \end{array}$$

$$\begin{array}{r} 559 \\ - 377 \\ \hline \end{array}$$
$$\begin{array}{r} 462 \\ - 259 \\ \hline \end{array}$$

۱۹- تفریق های زیر را انجام بده.

$$\begin{array}{r} 710 \\ - 456 \\ \hline \end{array}$$

$$\begin{array}{r} 908 \\ - 557 \\ \hline \end{array}$$

$$\begin{array}{r} 539 \\ - 148 \\ \hline \end{array}$$

$$\begin{array}{r} 346 \\ - 197 \\ \hline \end{array}$$



۲۰- ثریا فیلم سینمایی ۱۱۵ دقیقه ای را تماشا می کرد، ۸۳ دقیقه از آن را که نگاه کرد، برای خوردن خوراکی بلند شد. چند دقیقه تا پایان فیلم باقی مانده است؟

۲۱- لیلایا برای درست کردن کیک جشن تولدش ۸۷۵ گرم آرد خرید و ۷۸۶ گرم آن را مصرف کرد. چند گرم آرد باقی مانده است؟