

شماره  
۳۲

# ارمغان هفته چهارم دبستان

نام و نام خانوادگی: ..... تاریخ: .....  
 نام آموزگار: .....  
 ریاضی < دوره ی براب دوم >  
 علوم < دوره ی هجده سال دوم >  
 فارسی < دوره ی هجده سال دوم >  
 مطالعات اجتماعی < دوره ی هجده سال دوم >  
 هنر < دوره ی هجده سال دوم >  
 قرآن < دوره ی هجده سال دوم >

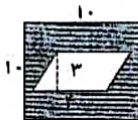


مساحت قسمت رنگی را در هر شکل به دست آورید.

$$1 \times 10 = 10$$

$$2 \times 4 = 8$$

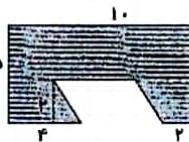
$$10 - 8 = 2$$



$$10 \times 5 = 50$$

$$2 \times 4 = 8$$

$$50 - 8 = 42$$



۲ مسعود میله ای به طول ۲ متر داشت که ۰/۷ آن را قرمز و ۰/۴ آن را بنفش کرد. مسعود چقدر از میله را رنگ آمیزی نکرده است؟

$$2 - 0.17 - 0.14 = 0.19 \text{ متر}$$

مسعود ۰۱۹ متر از میله را رنگ آمیزی نکرده است.

۳ اندازه ی زاویه ی خواسته شده را به دست آورید.



هستند. (موازی - عمود)

الف) هرگاه دو خط با هم زاویه ی راست بسازند، می گویم آن دو خط

ب) به ... تقاطع، یک درجه می گویم.  $\frac{1}{90}$  یا  $\frac{1}{180}$

ب)  $\frac{1}{8}$  تا  $\frac{1}{8}$  برابر است یا  $(6 - 384)$

ت) ۹ تا ۹/۱ - برابر است یا  $(9/6 - 6/9)$





### علوم

1) اصطلاحات زیر را تعریف کنید.

- (الف) انرژی: توانایی انجام دادن کار را انرژی می گویند.  
 (ب) رسانا: به آنهایی که الکتریسیته، آسان می گذرد، رسانا می گویند.  
 (پ) حرکت وضعی: چیزیست که در دور خود (مثل شومبره) بر یک نقطه در فضا می گزرد.  
 (ت) شبکه‌ی غذایی: لوله‌ای که غذا را از گیاهان به حیوانات می برساند.

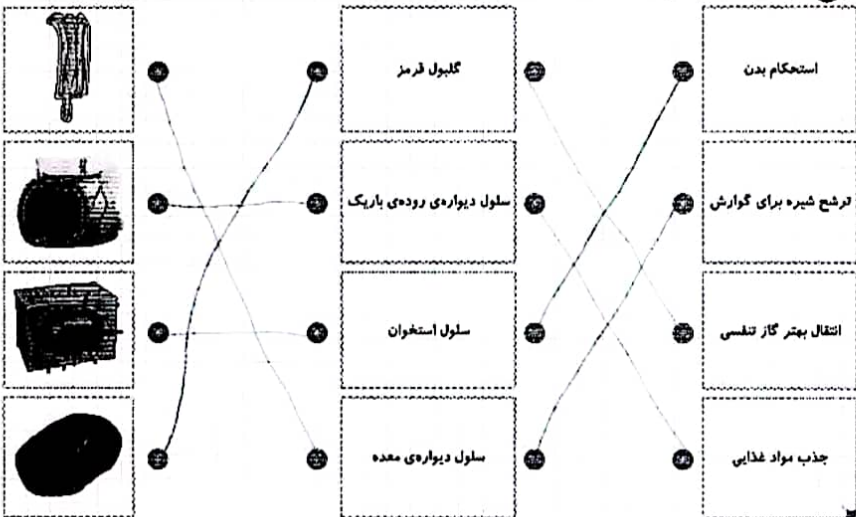
2) روش‌های جداسازی هریک را بیان کنید.

- (الف) روغن و آب: تیرا (تیرا) بر آب.  
 (ب) نمک و آب: تبخیر.  
 (پ) شن و براده‌ی آهن: آهنربا.  
 (ت) آب و نمک: سرد کردن.

3) دو ویژگی گیاهان تک لپه و دو لپه را بنویسید.

تک لپه: برگ‌های پهن و کشیده، همراه برگ‌های نواری، ریشه‌های افشان - تعداد گلبرگ‌ها معمولاً ۳  
 دو لپه: برگ‌های پهن و کشیده، همراه برگ‌های نواری، ریشه‌های راست - تعداد گلبرگ‌ها معمولاً ۵

4) شکل هر سلول را به نام آن سلول وصل کنید و سپس به وظیفه‌ی آن سلول متصل کنید.



کلمات متضاد

۱) کلمات مترادف را به هم متصل کنید.

مجازی	مطلق	بسته	تابان	زایه	قطب	استوار	حرله
پروزش کنند	صندوقچه	وزیران	التان	غیر واقعی	پایرجا	شعل	جنگل

۲) برای کلمات زیر متضاد بنویسید.

مجازی = صمیمی  
 آشتی = جد  
 عالم = جااصل  
 کیماب = دامر-زیرا  
 خاور = باختر  
 نهن = استوار-مهوریدرا

۳) با کلمه های (و، زیرا، اما) جاهای خالی را پر کنید.

ایرانیان در برابر توراتیان پایداری می کردند ..... (و) ..... پیروزی بر آنان بسیار مشکل بود. آرش کمانگیر گفت: من جان خود را در تیر خواهم گذاشت ..... (و) ..... برای سربلندی ایران فدا خواهم کرد. زیرا ..... هدف من پیروزی ایرانیان است.

کلمات مترادف

۱) جاهای خالی را کامل کنید.

الف) روستاییان خانه های خود را در کنار بزرگ و بسیار می سازد.  
 ب) در گذشته های دور انسان از آتش برای گرم کردن خود، روشنایی و پختن گوشت و مواد غذایی استفاده می کردند.  
 پ) در تقویم روز سیزده آبان را روز دانش آموزان نام گذاری کرده اند.  
 ت) دشت لوت در ناحیه سراسر قرار دارد.

۲) درستی  و نادرستی  هر عبارت را مشخص کنید.

- الف) یکی از نشانه های مهم ملی ما پرچم ایران است.
- ب) گنج نامه از آثار دوره ساسانیان است.
- پ) بعد از اشکانیان حکومت ساسانیان در ایران به وجود آمد.
- ت) از به هم پیوستن جویبارها، آبرفت تشکیل می شود.

۳) از بین گزینه های داده شده بهترین پاسخ را انتخاب کنید.

الف) کدام یک از هنرهای زیر در زمان ساسانیان پیشرفت کرد؟

- ۱) خطاطی
- ۲) قشه گیری
- ۳) سنگ تراشی
- ۴) شیشه گری

۳

