



نام و نام خانوادگی: _____ تاریخ: _____ موضوع: _____ هدف: _____

ریاضی

۱) ۵ برابر عددی به علاوه ۳ می شود ۴۸، آن عدد چیست؟
 آن عدد ۹ است.
 $5 \times \boxed{9} + 3 = 48 \rightarrow \begin{cases} 48 - 3 = 45 \\ 45 \div 5 = 9 \end{cases}$


۲) ۴ برابر شعاع دایره‌ای ۱۶ سانتی متر است. قطر دایره چند سانتی متر است؟
 مساحت دایره ۸.۸ = قطر دایره. مساحت دایره ۱۶ ÷ ۴ = ۴

۳) نام سه وسیله‌ی استوانه‌ای شکل را بنویسید.
 لیوان - بطری آبگرم - قاپلمه

۴) مسئله‌های زیر را با استفاده از راهبرد حدس و آزمایش حل کنید.
 الف) عددی را نصف کردیم سپس حاصل را با ۴ جمع کردیم و جواب ۱۲ شد. آن عدد کدام است؟
 آن عدد ۱۴ است.
 $\boxed{14} \div 2 + 4 = 12 \rightarrow \begin{cases} 12 - 4 = 8 \\ 8 \times 2 = 16 \end{cases}$

ب) اندازه‌ی محیط یک مستطیل ۱۲ سانتی متر است. اگر عرض نصف طول آن باشد، اندازه‌ی عرض آن چقدر است؟
 عرض = ۲ × عرض طول = ۲ × ۲ = ۴
 محیط = (عرض + طول) × ۲ = ۱۲
 $12 \div 2 = 6 \Rightarrow \text{عرض} + \text{طول} = 6 \Rightarrow (2 \times \text{عرض}) + \text{عرض} = 6 \Rightarrow 3 \times \text{عرض} = 6 \Rightarrow 6 \div 3 = 2$

ب) عددی را بر ۸ تقسیم کردیم و حاصل را در خودش ضرب کردیم پاسخ ۹ شد. عدد مورد نظر چند است؟
 آن عدد ۲۴ است.
 $\boxed{24} \div 8 = (3) \times (3) = 9$
 $8 \div 8 = 1 \times 1 = 1$ X
 $16 \div 8 = 2 \times 2 = 4$ X
 $24 \div 8 = 3 \times 3 = 9$ ✓





نام و نام خانوادگی: _____ تاریخ: _____ موضوع: _____ هدف: _____

۵) بهراد می خواهد برای تولد برادرش یک کلاه رنگارنگ درست کند. او با برش زدن کدام یک از اشکال زیر می تواند کلاه را بسازد؟

علوم

۱) تصویر یک ماهی را بکشید و پولک، دم و باله های آن را مشخص کنید.

۲) جاهای خالی را با کلمات مناسب کامل کنید.

الف) ماهی ها آب تنفس می کنند. دارند و از هوای درون آب تنفس می کنند.

ب) لخته روی بدن ماهی به حرکت آن کمک می کند.

۳) من چیستم؟

الف) خیلی کوچکم، اما اگر در خاک بیفتم و آب کافی به من برسد می توانم گیاه جدیدی بسازم. دانه

ب) بخشی از گل زعفران هستم که مرا از گل جدا می کنند و بسیار قیمتی هستم. برگ

پ) قسمتی از گیاه هستم که به کارخانه ی غذاسازی معروفم. برگ

ت) گیاهی یا برگ های سوزنی هستم که مخروط دارم و همیشه سبزم. کاج

۴) با توجه به تعداد گلبرگ ها، برگ و ریشه ی هر گل را بکشید.




نام و نام خانوادگی


تاریخ

موضوع:

هدف:



| | | | | | | | | | | |
|---|---|---|---|---|---|---|---|---|---|---|
| م | ج | ه | ی | گ | ل | م | ن | و | ه | ی |
| د | ر | ی | ا | ی | ی | ش | ی | ب | ل | س |
| ز | ه | ا | ی | آ | ب | ی | ر | ی | س | ت |
| د | ل | ه | ا | م | ا | ی | ی | ب | ا | ت |




۲ با استفاده از کلمه‌های «پایه» (زبان) گوشه و دسته، متن زیر را کامل کنید. (یک کلمه اضافه است).
 اتاق تاریک بود. دستم به صندلی خورد و روی زمین افتاد و یک دسته ی آن شکست. ناگهان کسی وارد اتاق شد. مادرم سر و صدا را شنیده بود و به اتاق آمده بود. پایش به پایله ی میز گیر کرد و به زمین افتاد. مرا که در آسونه ی اتاق نشسته بودم و از ترس می‌لرزیدم، با خود برد.

مانند نمونه شباهت‌ها را پیدا کنید و بنویسید.


چشمش خورشیدی درخشان است. یعنی چشم او مثل خورشید می‌درخشد.
 صورت مادرم گلی سرخ و زیباست. یعنی صورت مادرم مثل گل سرخ زیبا است.
 دندان‌های مریم مرواریدهایی سفید است. یعنی دندان‌های مریم مثل مروارید سفید و براق است.

مطالعات اجتماعی


۱ برای هر مکان نماد مرتبگی به دلخواه خود بکشید.




کتابخانه




نمازخانه



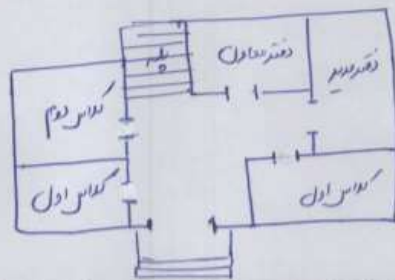
آزمایشگاه



اتاق بهداشت



نقشه‌ی ساده‌ای از یکی از طبقات مدرسه خود رسم کنید. (سعی کنید اصلی‌ترین طبقه را در نظر بگیرید).



با توجه به کلمات زیر جاهای خالی را کامل کنید.

فروشگاه - علاقه‌هایی - احترام به دیگران - مفید - سلامتی - مقرراتی،

الف) برای استفاده از نقشه در کنار آن برای راهنمایی باید علامت سایه وجود داشته باشد.

ب) معمولاً هر مدرسه در کنار حیاط یک مروارید کوچک دارد.

پ) مدرسه هم مانند خانه مقرراتی دارد.

ت) رعایت بعضی از مقررات در مدرسه موجب حفظ سلامتی ما می‌شود و بعضی مقررات را برای احترام رعایت می‌کنیم.

به دیگران

هدیه‌های آسمان - قرآن

۱ محل دفن امام محمد باقر (ع) در کنار امام میتاد (ع)، در قبرستان بقیع می‌باشد.

۲ لقب امام پنجم چیست؟ و تحقیق کنید که چرا به ایشان این لقب را داده‌اند؟

..... باقر العلوم - باقر العلوم یعنی معلم است. بسیار عالم و دانشمند بود (فردوسی همین دلیل بر باقر العلوم معروف است).

