

ارمغان هفته - پنجم دبستان

شماره‌ی

۲۲

نام و نام خانوادگی: تاریخ: نام آموزگار:

مطالعات اجتماعی < درس ۱۶: مدینه شهر پیامبر (ص)

هدیه‌های آسمان < خورشید پشت ابر

قرآن < درس ۹: جلسه اول و دوم

ریاضی < فصل ۵: تفریق اعداد اعشاری

علوم < درس ۸: کارها آسان می‌شود. (۲) (۲)

فارسی < درس ۱۴: شجاعت

ریاضی

تفریق‌های زیر را با روش خواسته شده به دست آورید.

الف) $9 - 2/986 =$

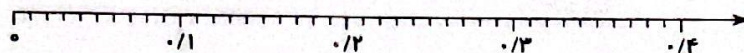
(محاسبه عادی)

ب) $3/6 - 2/5 =$

(محور)

پ) $0/87 - 0/35 =$

(محور)



۲ الگو عددی زیر را ادامه دهید.

..... و و و $4/25$ و $4/5$ و $4/75$

..... و و و $12/1$ و $12/22$ و $12/34$

۳ در جاهای خالی عدد مناسب قرار دهید.

$12/09 + \square = 70/005$

$58/702 - \square = 49$

۴ هر دو عددی که اختلافشان برابر عدد $1/2$ می‌شود را هم‌رنگ کنید.

$4/7$

۵

۶

$3/4$

$3/8$

$5/9$

$2/2$

$7/2$

۵ محیط مثلثی $9/7$ متر است. اگر اندازه‌ی دو ضلع آن $2/9$ و $3/5$ متر باشد، اندازه‌ی ضلع سوم را بیابید.

علوم

در کدام گروه از وسایل زیر از گوه استفاده شده است؟


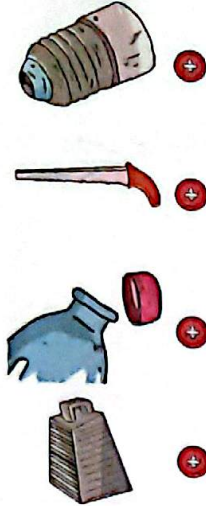
(۱) مفار - کلنگ - پیچ

(۲) مفار - فرغون - چاقو

(۳) مفار - کلنگ - چاقو

(۴) پیچ - فرغون - چاقو

هر وسیله را به ماشین مربوط به آن وصل کنید.




تفاوت گوه و سطح شیب‌دار چیست؟

کدام پیچ در سطح سخت‌تر بهتر فرو می‌رود؟



کدام عضو بدن انسان مانند گوه عمل می‌کند؟ برچسب تصویر این عضو را در جای مخصوص بچسبانید.



فارسی

۱ معنی واژه‌های زیر را در جای مناسب بنویسید.

نکوهیده

متانت

تدبیر

افزودن

۲ کلمه‌های به هم ریخته را مرتب کنید و جمله بنویسید.

ترس‌های / ریشه‌ی / در / است / جهل / اصلی / نادانی / نادرست / و ،

۳ معنی و مفهوم عبارت را ساده و روان بنویسید.

سردار لشکری که با تدبیر و مهارت، فرمان عقب‌نشینی می‌دهد و سپاه خود را از خطر می‌رهاند، شجاع است.

۴ با انتخاب واژه‌ای از میان کمانک، جاهای خالی را پر کنید.

الف) قدرت (تصمیم‌گیری - تصمیم‌گیری) و تفکر خوب است.

ب) ترس آن‌گاه (نکوهیده - نکوحیده) است که از ترس حوادث، حرکت نکنیم.

۵ برای هر کلمه یک مخالف بنویسید.

جدید \neq امن \neq افزون \neq شجاع: \neq

مطالعات اجتماعی

۱ از داخل کمانک کلمه‌ی درست را انتخاب کنید.

الف) دومین مسجد مهم مسلمانان (مسجدالنبی - مسجدالحرام) است.

ب) نخستین کار پیامبر در شهر مدینه، (ساختن مسجد - هجرت) است.

۲ پاسخ پرسش‌های زیر را بنویسید.

الف) نام قدیم شهر مدینه؛ پاسخ (ی):

ب) آرامگاه پیامبر اسلام در این مکان است؛ پاسخ (م):

۳ جملات درست را با و نادرست را با مشخص کنید.

الف) ابوسفیان سر دسته‌ی مخالفان پیامبر (ص) در مکه بودند.

ب) پیامبر اسلام (ص) در جنگ بدر شرکت نداشتند.

۴ کدام مورد از اقدامات پیامبر (ص) پس از فتح مکه نبود؟

۱) شکستن بت‌ها ۲) جنگ با افراد داخل کعبه ۳) بیرون ریختن بت‌ها از داخل کعبه ۴) دستور خواندن اذان بر بام کعبه

هدیه‌های آسمان - قرآن

۱ کامل کنید.

الف) رسول خدا (ص) مؤده داده است که روزی حضرت مهدی (عج) ظهور می‌کند و دنیا را پر از خواهد کرد.

ب) حضرت مهدی (عج) دوازدهمین و چهاردهمین هستند.

۲ با استفاده از کلمات زیر، جاهای خالی را کامل کنید.

حضرت موسی (ع) - ماه - خورشید - قائم - ولی عصر،

الف) مشهورترین لقب امام زمان (عج) است.

ب) داستان تولد امام زمان (عج) شبیه داستان تولد است.

پ) امام مهدی (عج) مانند درخشان است.

۳ موارد مرتبط را به هم وصل کنید.

گرفت

يَوْمَئِذٍ

زیور





مَثَل






داستان

اِتَّخَذَ

آن روز

زينة

	آشنایی با شهر مدینه
	آشنایی با جنگ‌های پیامبر
	شناخت امام دوازدهم
	تشخیص معنای کلمات قرآنی

	محاسبه‌ی تفریق اعشاری
	کاربرد محاسبات اعشار در مسائل
	شناخت گوه
	کاربرد گوه
	تشخیص کلمات متضاد و مترادف

شناختن شاخص‌ها

خیلی خوب
خوب
قابل قبول
نیاز به تلاش بیشتر