



ارمغان هفته - چهارم دبستان

نام و نام خانوادگی: تاریخ: نام آموزگار:

ریاضی فصل ۶ شکل‌های هندسی، عمود، موازی مطالعات اجتماعی درس ۱۸: پوشش گیاهی و زندگی جانوری در ایران (۲)
 علوم درس ۱۰: بدن ما (۲) هدیه‌های آسمان درس ۱۸: چشمان همیشه باز (۱)
 فارسی درس ۱۵: شیر و موش (۲) قرآن درس ۱۳: جلسه‌ی دوم و سوم

ریاضی

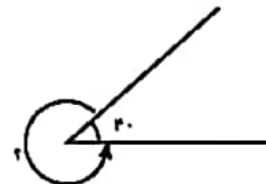
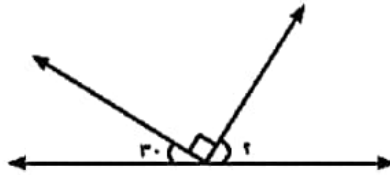
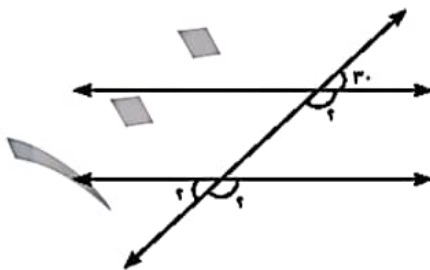
جاهای خالی را با استفاده از عدد یا کلمه‌ی داخل پرانتز کامل کنید.

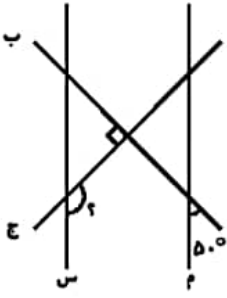
- الف) اگر خطی به‌طور عمود، دو خط موازی را قطع کند، زاویه‌ی مساوی در محل تقاطع ایجاد می‌شود. (۴ - ۸)
- ب) از یک نقطه خارج از یک خط خط عمود می‌توان بر آن خط رسم کرد. (بی‌نهایت - یک)
- پ) هرگاه دو خط باهم زاویه‌ی راس‌ت بسازند، آن دو خط برهم (موازی‌اند - عمودند)
- ت) دو خط عمود بر یک خط باهم هستند. (موازی - عمود)

درستی و نادرستی هر عبارت را مشخص کنید.

- الف) از پرگار برای تشخیص خطوط عمود استفاده می‌کنیم.
- ب) خطی که بر یک خط عمود باشد، با خط‌های موازی با آن خط موازی است.
- پ) فاصله‌ی دو خط موازی، در تمام نقاط از یکدیگر به یک اندازه هستند.
- ت) دو خط موازی، در یک نقطه یکدیگر را قطع می‌کنند.

اندازه‌ی زاویه‌های خواسته شده را به‌دست آورید.





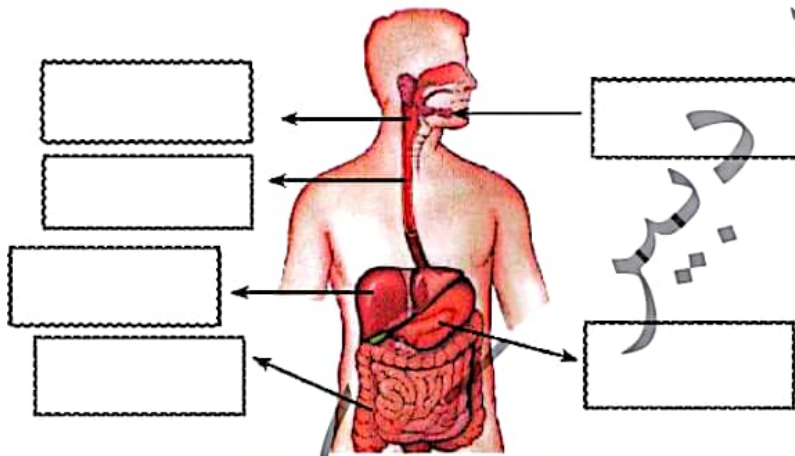
خطهای (س) و (م) با هم موازی اند. با توجه به شکل به سؤالات پاسخ دهید.

الف) زاویه‌ی مشخص شده چند درجه است؟

ب) کدام یک از خطوط زیر برهم عمودند؟

علوم

برچسب‌ها را در جای مناسب قرار دهید.



چگونگی تقسیم سلول‌ها را بکشید.

وظیفه‌ی قلب در بدن انسان چیست؟

سیاهرگ‌ها در کدام قسمت بدن هستند و وظیفه‌ی آنها چیست؟



فارسی

۱ در متن زیر کلمات جمع را پیدا کنید و مفرد آن‌ها را در زیر هر کلمه بنویسید.

بچه‌ها با اشتیاق به سکه‌ها، ظروف قدیمی، مجسمه‌ها و وسایلی که کاوشگران و باستان‌شناسان به دست آورده بودند، نگاه می‌کردند.

۲ جملات زیر را کامل کنید و نوع جمله را بنویسید.

الف) آرش با گام‌های بلند، از کوه بالا () .

ب) دلوران. () .

پ) این، چرا ؟ چرا دادم پیام؟ () .

۳ معنی هر بیت را بنویسید.

الف) گفت: ای موش لوس یک غازی با دم شیر می‌کنی بازی

ب) از پی صید گرگ یک صیاد در همان حول و حوش دام نهاد

۴ شعر «شیر و موش» از کدام شاعر است؟

۴) فردوسی

۳) ایرج میرزا

۲) پروین اعتصامی

۱) سعدی

مطالعات اجتماعی

۱ هریک از تصاویر زیر مربوط به کدام ناحیه‌ی آب و هوایی ایران است؟



جنگل‌های انبوه‌راش و افرا

جنگل‌های وسیع بلوط و پسته کوهی

۲ به سؤالات زیر پاسخ دهید.

الف) چرا در قله‌های بلند کوه‌ها، گیاهان نمی‌رویند؟

ب) چند نمونه از جانوران ناحیه‌ی معتدل خزری را نام ببرید.



۳





برچسب هریک از مکان‌های زیر را روی نقشه قرار دهید.



دریای خزر

رشته کوه زاگرس

دشت کویر

دشت لوت

خلیج فارس



نقشه

هدیه‌های آسمان - قرآن

دوربین و فرشتگان خدا را با هم مقایسه کنید.



با توجه به معنای صحیح واژگان، به هم وصل کنید.



کافران، افراد بی‌ایمان

آنّت

تو

خَیبر

قلوب، دل‌ها

قلوب

بهترین

کافرین

	مفرد کلمات جمع
	شناخت انواع جمله
	معنی ابیات شعر «شیر و موش»
	پوشش گیاهی مناطق مختلف
	پوشش جانوری مناطق مختلف
	خداوند ناظر بر اعمال ما انسان‌هاست.
	ترجمه‌ی عبارات قرآنی

	رسم خطوط عمود
	تأثیر خطوط عمود و موازی در اندازه‌ی روایا
	ساخت زاویه‌ی درست
	مرادل مختلف گوارش
	مرادل تقسیم سلولی
	واقیعه‌ی قلب
	سیاهرگ

شاخص‌ها

- غلبی خوب
- خوب
- قابل قبول
- نیاز به تلاش بیشتر

