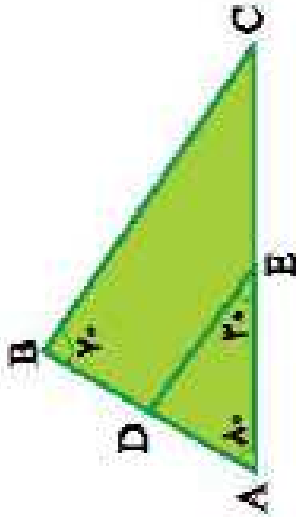
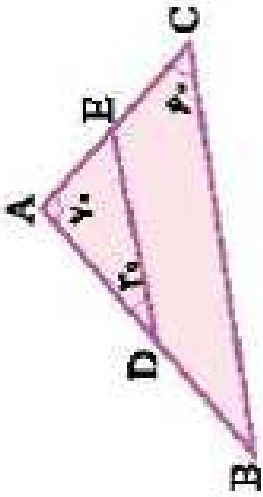


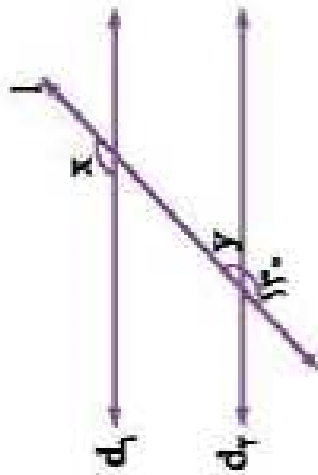


با توجه به زاویه‌های داده شده آیا DE موازی BC هست؟ چرا؟

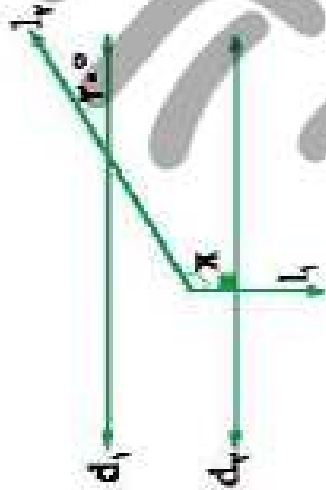




دو خط d_1 و d_2 با هم موازیند. مقادیر x و y چقدر است؟

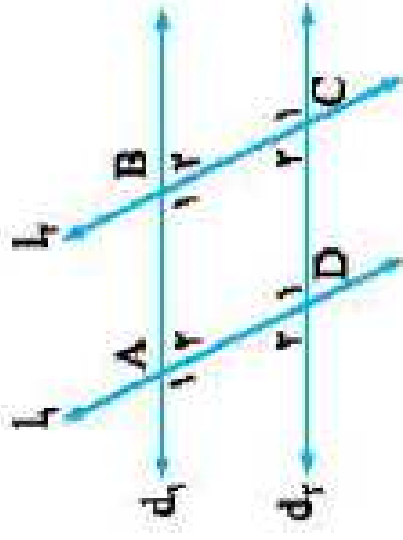


در شکل زیر، $d_1 \parallel d_2$ و $l_1 \perp l_2$ می‌باشد. اندازه زاویه x را به دست آورید.



- الف) $d_1, d_2 \parallel d_1 \Rightarrow A_1 = \dots, A_2 = \dots$
- ب) $d_1, d_2 \parallel d_2 \Rightarrow B_1 = \dots, B_2 = \dots$
- پ) $d_1, d_2 \parallel l_1 \Rightarrow \dots = \dots, \dots = \dots$
- ت) $d_1, d_2 \parallel l_2 \Rightarrow \dots = \dots, \dots = \dots$

با توجه به شکل زیر در هر قسمت جاهای خالی را کامل کنید.



دو خط d_1 و d_2 با هم موازی‌اند. در هر شکل مقدار x را بیابید.

