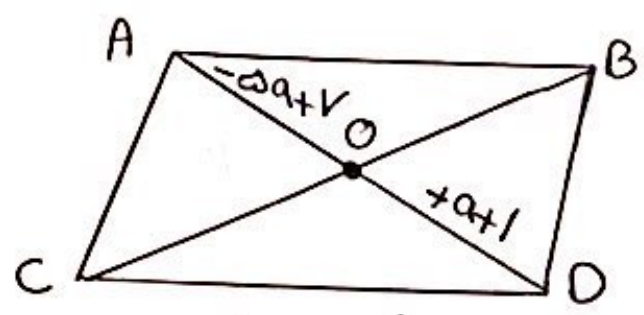
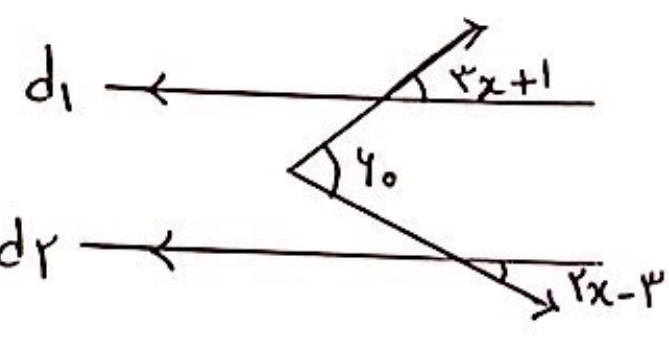


(سوالات اضافه هندسه هشتم)

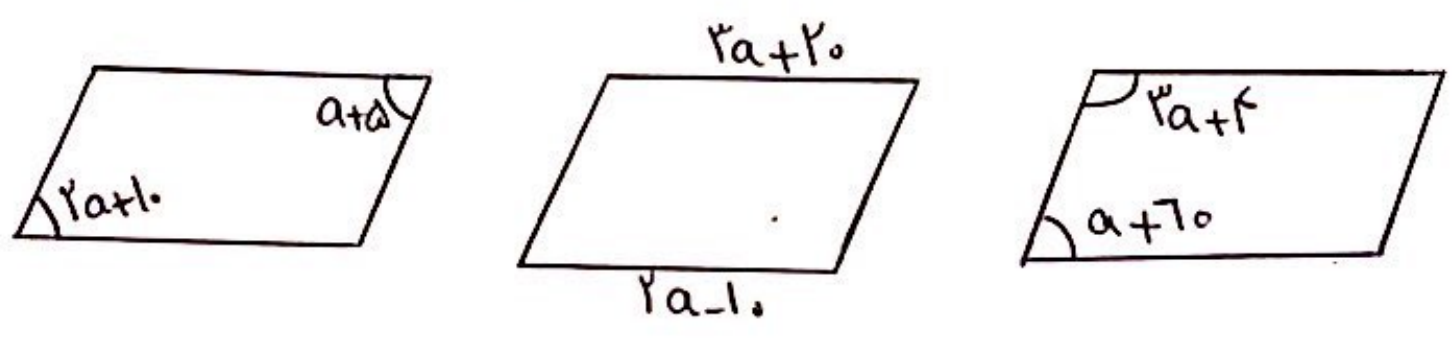
۱- چارضلع ABCD متوازی الاضلاع است. مقدار a را بدست آورید؟ قطر AD چقدر است؟



۲- در شکل داده شده اندازه x را بدست آورید.



۳- مقدارهای a را بدست آورید. (انضال متوازی الاضلاع است)



موضوعی باشد
در اول