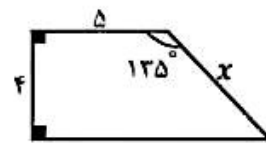
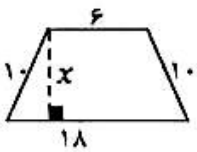
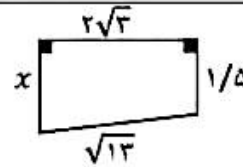
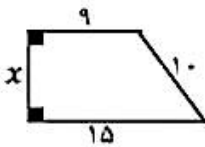
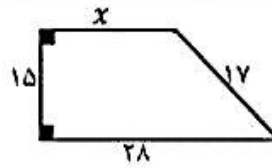
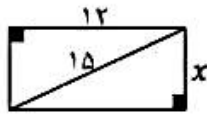
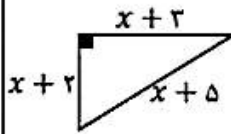
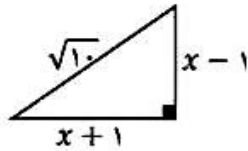
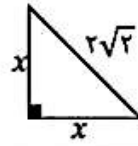
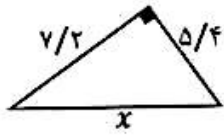


به نام خدایی که در این نزدیکی هست

رابطه فیثاغورس

۱- در هر یک از شکل های زیر مقدار x را بدست آورید.



۲- در هر یک از شکل های زیر ابتدا مقدار x را حساب کرده و سپس محیط شکل ها را بدست آورید.

