

علوی

طرح سنجش استعداد: مداد قرمز ۴ - توصیفی
مدت پاسخگویی و انجام فعالیت: ۷۵ دقیقه
درس: استعداد هنری ششم دبستان
زمان برگزاری: هفته چهارم اردیبهشت

فعالیت‌های استعداد هنری پایه‌ی ششم

فعالیت ۱

۵۱- الف) بناهایی که معماری ایرانی دارند را مشخص کنید.



(۴)



(۱)



(۵)



(۲)



(۶)



(۳)

ب) بناهای غیر ایرانی متعلق به کدام کشورها هستند؟

(۲) چین - انگلستان

(۱) عراق - عربستان

(۴) انگلستان - عراق

(۳) چین - عربستان

علوی

طرح سنجش استعداد: مداد قرمز ۴ - توصیفی
مدت پاسخگویی و انجام فعالیت: ۷۵ دقیقه
درس: استعداد هنری ششم دبستان
زمان برگزاری: هفته چهارم اردیبهشت

فعالیت ۲

۵۲- با دقت به تصاویر داده شده نگاه کرده و خودتان را در آن فضا تجسم کنید. صدای کدام فضاها به شما حس آرامش می‌دهد؟



(۵)



(۱)



(۶)



(۲)



(۷)



(۳)



(۸)



(۴)

طرح سنجش استعداد: مداد قرمز ۴ - توصیفی
مدت پاسخگویی و انجام فعالیت: ۷۵ دقیقه
درس: استعداد هنری ششم دبستان
زمان برگزاری: هفته چهارم اردیبهشت

علوی


فعالیت ۳

۵۳- تصویر داده شده کتابخانه‌ی ملی قطر است.

با دقت به سبک ساخت و معماری آن توجه کنید

و با استفاده از انواع خط آن را بکشید.



(رنگ آمیزی نیازی نیست.)



فعالیت ۴

۵۴- به تصویر فیل که با کمک یک دایره رسم شده، توجه کنید. یک شکل هندسی بکشید و با کمک خطوط ساده به یک

حیوان دلخواه تبدیل کنید. (نیازی به رنگ آمیزی نیست.)




علوی

طرح سنجش استعداد: مداد قرمز ۴ - توصیفی
مدت پاسخگویی و انجام فعالیت: ۷۵ دقیقه
درس: استعداد هنری ششم دبستان
زمان برگزاری: هفته چهارم اردیبهشت

فعالیت ۵

۵۵- از دو موضوع زیر، یک مورد را انتخاب کنید و در مورد آن یک نقاشی زیبا بکشید.
الف) چشمان خود را ببینید، تصور کنید در روزهای سخت چگونه می‌توانید خانواده یا دوستان خود را آرام یا خوشحال کنید؟ یک نقاشی در این باره بکشید و سپس رنگ‌آمیزی کنید.
ب) چشمان خود را ببینید، تصور کنید تعداد زیادی بادکنک رنگی دارید. چطور با بادکنک‌های رنگی، خانواده یا دوستانتان را شاد می‌کنید؟ یک نقاشی در این باره بکشید و سپس رنگ‌آمیزی کنید.



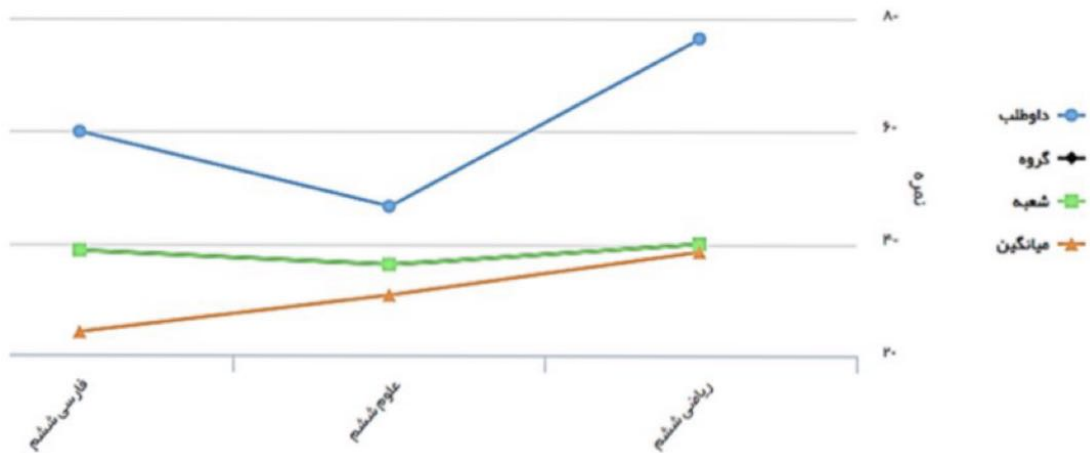
درس: استعداد فضایی ششم دبستان طرح سنجش استعداد مداد قرمز ۴ - توصیفی
 زمان برگزاری: هفته چهارم اردیبهشت مدت پاسخگویی و انجام فعالیت: ۷۵ دقیقه

علوی

فعالیت‌های استعداد فضایی پایه‌ی ششم

فعالیت ۱

۵۶- به نمودار مقایسه‌ای وضعیت درسی یک دانش‌آموز در پایه‌ی ششم توجه کنید. سپس به پرسش‌ها پاسخ دهید.



الف) کدام یک از رنگ‌های نمودار وضعیت دانش‌آموز (داوطلب) را نسبت به بقیه نشان می‌دهد؟

ب) بیشترین و کمترین نمره‌ی این دانش‌آموز مربوط به کدام درس بوده است؟

۱) بیشترین:

۲) کمترین:

پ) نمره‌ی این دانش‌آموز در هر یک از درس‌های زیر، چند است؟

۱) فارسی:

۲) علوم:

۳) ریاضی:

درس: استعداد فضایی ششم دبستان
 طرح سنچس استعداد مداد قرمز ۴ - توصیفی
 زمان برگزاری: هفته چهارم اردیبهشت مدت پاسخگویی و انجام فعالیت: ۷۵ دقیقه

علوی

فعالیت ۲

۵۷- به تصویر سمت راست و قطعات پازل به دقت نگاه کنید. در هر یک از خانه‌های مشخص شده کدام قطعه قرار می‌گیرد؟

- ۱) سمت راست خانه‌ی (الف) ←
 ۲) پایین خانه‌ی (ب) ←
 ۳) سمت چپ خانه‌ی (پ) ←
 ۴) سمت راست خانه‌ی (ت) ←

فعالیت ۳

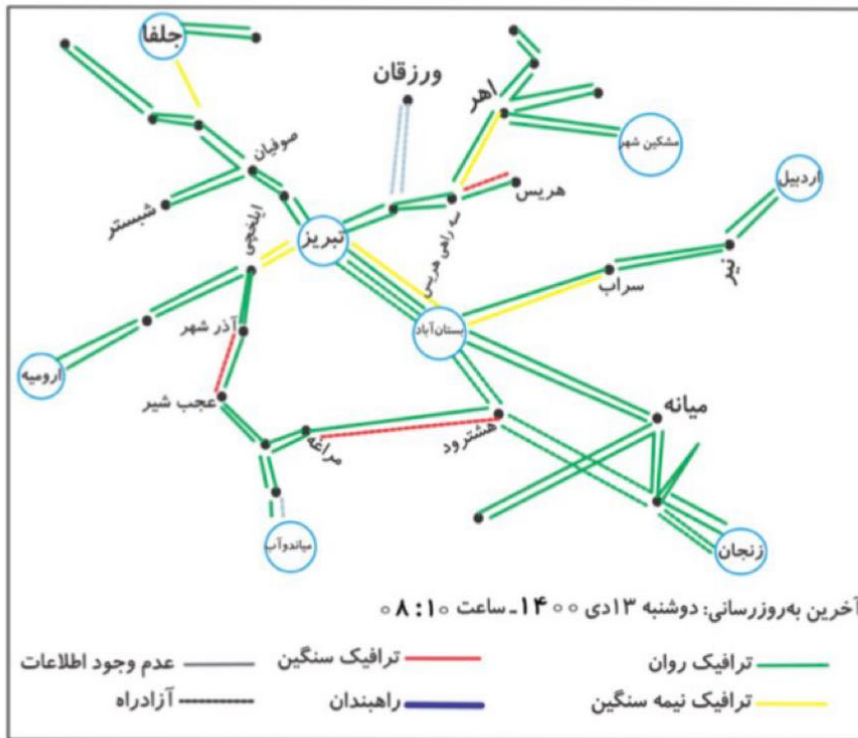
۵۸- در هر یک از اشکال داده شده چند مکعب وجود دارد؟

(الف) ← الف
 ← پ

(ب) ← ب
 ← ت

درس: استعداد فضایی ششم دبستان
 طرح سنجش استعداد مدام قرمز ۴ - توصیفی
 زمان برگزاری: هفته چهارم اردیبهشت مدت پاسخگویی و انجام فعالیت: ۷۵ دقیقه

۵۹- به نقشه‌ی ترافیکی با مرکزیت تبریز توجه کنید. سپس به پرسش‌های داده شده پاسخ دهید.



الف) با توجه به راهنمای نقشه، آخرین به روز رسانی در چه زمانی صورت گرفته است؟

(۱) روز: (۲) ماه: (۳) سال: (۴) ساعت:

ب) هر یک از وضعیت های ترافیکی با چه رنگی نمایش داده شده‌اند؟

(۱) ترافیک نیمه سنگین: (۲) راهبندان:
 (۳) ترافیک روان: (۴) ترافیک سنگین:

پ) دو مسیر دارای ترافیک سنگین را نام ببرید. (مانند نمونه)

نمونه: سه راهی هریس - هریس

(۱) (۲)

ت) بین کدام دو شهر در هر دو مسیر ترافیک نیمه سنگین وجود دارد؟

(۱) صوفیان - شبستر (۲) تبریز - ایلخچی (۳) آذرشهر - عجب شیر (۴) تبریز - بستان آباد

ث) شهر «سراب» در مسیر کدام دو شهر قرار دارد؟

(۱) تبریز - بستان آباد (۲) نیر - اردبیل (۳) بستان آباد - نیر (۴) بستان آباد - میانه

درس: استعداد فضایی ششم دبستان
طرح سنجش استعداد مداد قرمز ۴ - توصیفی
زمان برگزاری: هفته چهارم اردیبهشت
مدت پاسخگویی و انجام فعالیت: ۷۵ دقیقه

علوی

فعالیت ۵

۶۰- به تصویر داده شده با دقت نگاه کنید. از هر شکل چند تا می بینید؟

راهنمایی: در شمارش اشکال، به شکل‌های به وجود آمده از روی هم افتادن اشکال توجه کنید.

..... ← مثلث

..... ← مربع

..... ← دایره

