

علوی

طرح سنجش استعداد: مداد قرمز ۴ - توصیفی
مدت پاسخگویی و انجام فعالیت: ۷۵ دقیقه
درس: استعداد هنری پنجم دبستان
زمان برگزاری: هفته چهارم اردیبهشت

فعالیت‌های استعداد هنری پایه‌ی پنجم

فعالیت ۱

۵۱- از بین تصاویر مجسمه‌های داده شده، موارد متعلق به ایران باستان را مشخص کنید. (سه اثر)



(۱)



(۲)



(۳)



(۴)



(۵)



(۶)



(۷)



(۸)

علوی

طرح سنجش استعداد: مداد قرمز ۴ - توصیفی
مدت پاسخگویی و انجام فعالیت: ۷۵ دقیقه
درس: استعداد هنری پنجم دبستان
زمان برگزاری: هفته چهارم اردیبهشت

فعالیت ۲


۵۲- با دقت به تصاویر داده شده نگاه کنید. سپس چشمانتان را ببندید و صدای مربوط به هر تصویر را در ذهنتان تصور نمایید. صدای کدام تصاویر ریتم و وزن مشخصی دارند؟



(۴)



(۳)



(۲)



(۱)

فعالیت ۳

۵۳- تصویر زیر کلیسای Santa Maria Assunta ریولای ایتالیا است. با دقت به سبک ساخت و معماری آن توجه کنید و با استفاده از انواع خط آن را بکشید. (رنگ آمیزی نیازی نیست.)





علوی

طرح سنجش استعداد: مداد قرمز ۴ - توصیفی
مدت پاسخگویی و انجام فعالیت: ۷۵ دقیقه
درس: استعداد هنری پنجم دبستان
زمان برگزاری: هفته چهارم اردیبهشت

فعالیت ۴

۵۴- به تصویر فیل که با کمک یک دایره رسم شده، توجه کنید. یک شکل هندسی بکشید و با کمک خطوط ساده به یک حیوان دلخواه تبدیل کنید. (نیازی به رنگ آمیزی نیست.)




علوی

طرح سنجش استعداد: مداد قرمز ۴ - توصیفی
مدت پاسخگویی و انجام فعالیت: ۷۵ دقیقه
درس: استعداد هنری پنجم دبستان
زمان برگزاری: هفته چهارم اردیبهشت

فعالیت ۵

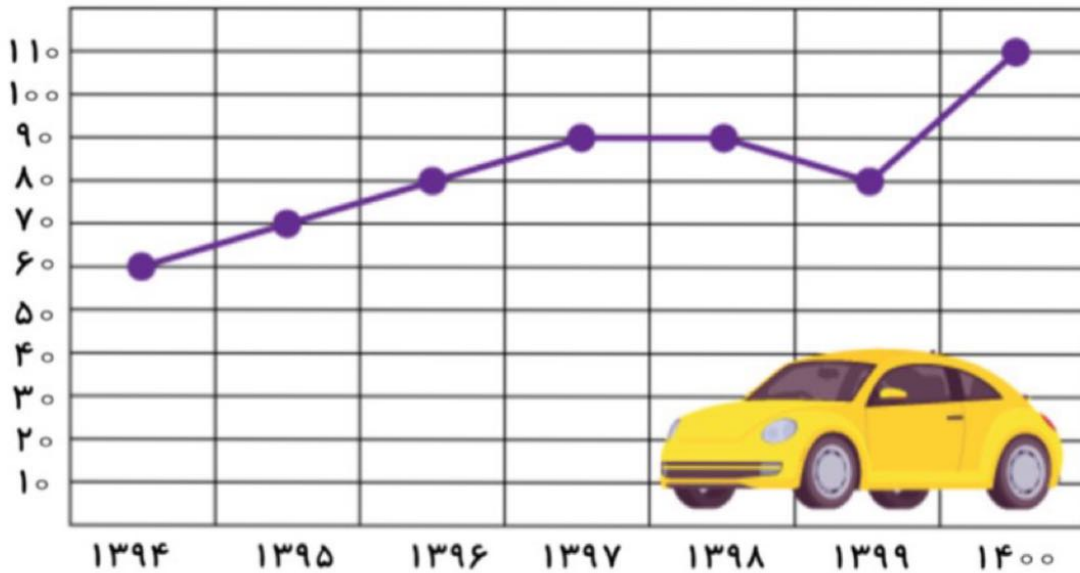
۵۵- از دو موضوع زیر، یک مورد را انتخاب کنید و در مورد آن یک نقاشی زیبا بکشید.
الف) چشمان خود را ببینید، تصور کنید در روزهای سخت چگونه می‌توانید خانواده یا دوستان خود را آرام یا خوشحال کنید؟ یک نقاشی در این باره بکشید و سپس رنگ آمیزی کنید.
ب) چشمان خود را ببینید، تصور کنید تعداد زیادی بادکنک رنگی دارید. چطور با بادکنک‌های رنگی، خانواده یا دوستانتان را شاد می‌کنید؟ یک نقاشی در این باره بکشید و سپس رنگ آمیزی کنید.



فعالیت‌های استعداد فضایی پایه پنجم

فعالیت ۱

۵۶- با توجه به نمودار تعداد فروش اتومبیل در یک نمایشگاه خودرو، به پرسش‌های داده شده پاسخ دهید.



الف) در نمودار داده شده تعداد فروش اتومبیل در چند سال نمایش داده شده است؟

ب) بیشترین و کمترین تعداد فروش در چه سال‌هایی و به چه تعداد صورت گرفته است؟

۱) بیشترین در سال: - تعداد اتومبیل فروخته شده:

۲) کمترین در سال: - تعداد اتومبیل فروخته شده:

پ) در کدام سال‌ها تعداد فروش اتومبیل یکسان بوده است؟

۱) و ۲) و

ت) در سال ۱۳۹۷ چه تعداد ماشین بیشتر از سال ۱۳۹۵ فروخته شده است؟


.....

درس: استعداد فضایی پنجم دبستان
 طرح سنجش استعداد مداد قرمز ۴ - توصیفی
 زمان برگزاری: هفته چهارم اردیبهشت مدت پاسخگویی و انجام فعالیت: ۷۵ دقیقه

علوی

فعالیت ۲

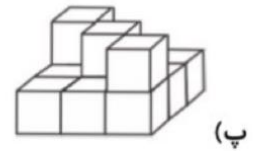
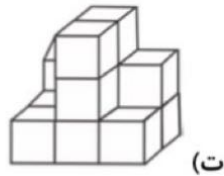
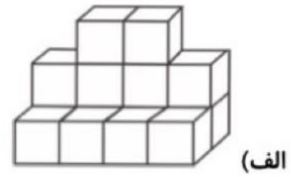
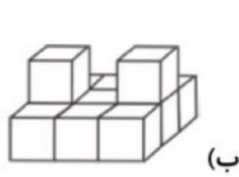
۵۷- به تصویر سمت راست و قطعات پازل با دقت نگاه کنید. در هر یک از خانه‌های مشخص شده کدام قطعه قرار می‌گیرد؟



- (الف)
- (ب)
- (پ)
- (ت)

فعالیت ۳

۵۸- در هر یک از اشکال داده شده چند مکعب وجود دارد؟



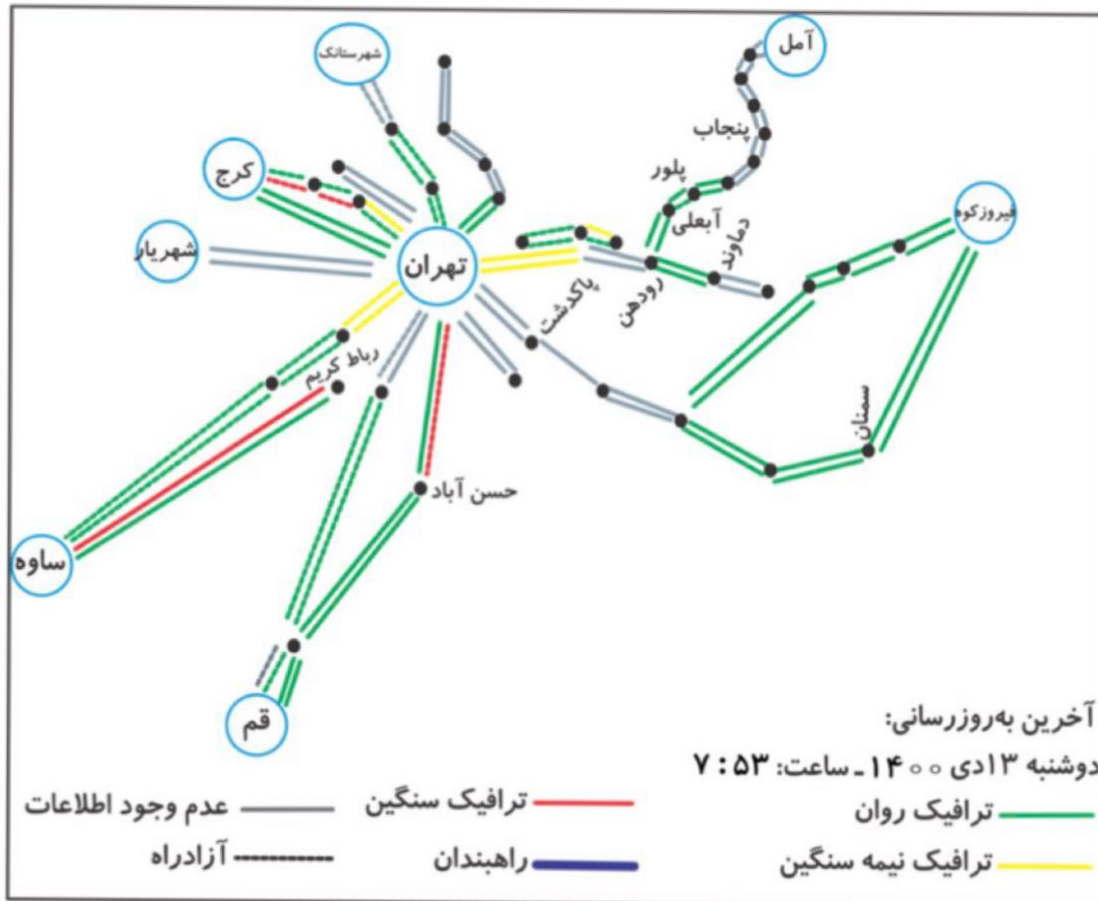
- (الف)
- (ب)
- (پ)
- (ت)

درس: استعداد فضایی پنجم دبستان
 طرح سنجش استعداد مداد قرمز ۴ - توصیفی
 زمان برگزاری: هفته چهارم اردیبهشت
 مدت پاسخگویی و انجام فعالیت: ۷۵ دقیقه

علوی

فعالیت ۴

۵۹- به نقشه‌ی ترافیکی با مرکزیت استان تهران توجه کنید. سپس به پرسش‌های داده شده پاسخ دهید.



الف) با توجه به راهنمای نقشه، آخرین به روز رسانی در چه زمانی صورت گرفته است؟

(۱) روز: (۲) ماه: (۳) سال: (۴) ساعت:

ب) هر یک از رنگ‌های داده شده در راهنمای نقشه بیانگر چه وضعیتی از ترافیک است؟

(۱) سبز: (۲) مشکی (آبی تیره):

(۳) زرد: (۴) قرمز:

پ) بین کدام دو شهر ترافیک سنگین وجود دارد؟ (فقط در یک مسیر)

(۱) تهران - پاکدشت (۲) رباط کریم - ساوه

(۳) سمنان - فیروزکوه (۴) تهران - شهریار

ت) کدام یک از شهرهای (مناطق) داده شده در مسیر رودهن به آمل نیست؟

(۱) آبعلی (۲) پلور

(۳) پنجاب (۴) دماوند

درس: استعداد فضایی پنجم دبستان
طرح سنجش استعداد مداد قرمز ۴ - توصیفی
زمان برگزاری: هفته چهارم اردیبهشت مدت پاسخگویی و انجام فعالیت: ۷۵ دقیقه

علوی

فعالیت ۵

۶۰- به تصویر داده شده با دقت نگاه کنید. از هر شکل چند تا می‌بینید؟

راهنمایی: در شمارش اشکال، به شکل‌های به‌وجود آمده از روی هم افتادن اشکال توجه کنید.

مثلاً ←

مربع ←

دایره ←

