

درس: استعداد فضایی چهارم دبستان

زمان برگزاری: هفته سوم آبان

طرح سنجش استعداد: مدادگرمزا - توصیفی

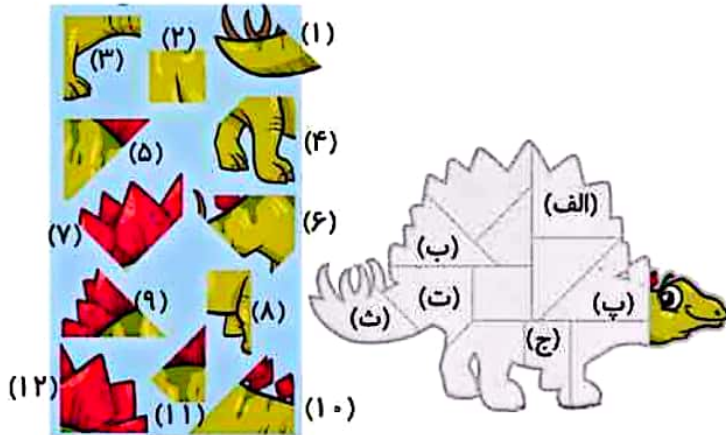
مدت پاسخگویی و انجام فعالیت: ۴۵ دقیقه

## علوی

### فعالیت‌های استعداد فضایی پایه‌ی چهارم

#### فعالیت ۱

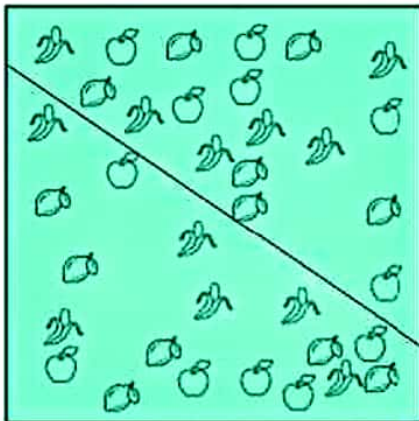
۳۶- به تصویر داده شده و قطعات پازل توجه کنید. در خانه‌های مشخص شده، کدام قطعه قرار می‌گیرد؟



#### فعالیت ۲

۳۷- آیا می‌توانید با کشیدن فقط دو خط صاف دیگر، این مربع را به شش قسمت تقسیم کنید، به طوری که هر

قسمت شامل دو سیب، دو لیمو و دو موز باشد؟



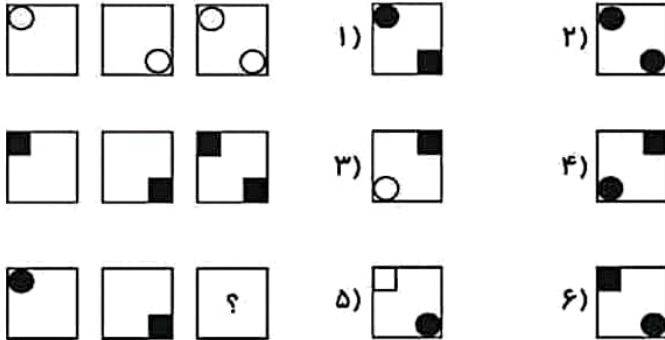
درس: استعداد فضایی چهارم دبستان  
زمان برگزاری: هفته سوم آبان

طرح سنجش استعداد: مدادقرمز ۱ - توصیفی  
مدت پاسخگویی و انجام فعالیت: ۴۵ دقیقه

## علوی

### فعالیت ۳

۳۸- در کادر زیر سه ردیف مربع مشاهده می‌کنید، به نظر شما جای خالی با کدام مربع کامل خواهد شد؟



### فعالیت ۴

۳۹- در نمودار زیر، قیمت دلار از سال ۸۸ تا ۹۹ آورده شده است.



الف) در چه سال‌هایی افزایش ناگهانی قیمت دلار وجود نداشته است؟

- ۱) ۸۸ تا ۹۸ (۲) ۸۸ تا ۹۶ (۳) ۹۹ تا ۹۵ (۴) ۹۹ تا ۹۵

ب) در کدام سال‌ها قیمت دلار بین ۳ و ۴ هزار تومان بوده است؟

پ) تفاوت قیمت دلار بین سال‌های ۹۴ و ۹۹ چند تومان بوده است؟

ت) با توجه به روند افزایش قیمت دلار، فکر می‌کنید در سال ۱۴۰۰ قیمت دلار افزایش یا کاهش داشته است؟

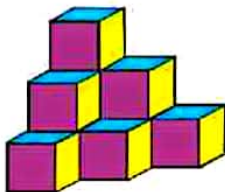
طرح سنجش استعداد: مداد قرمز ۱ - توصیفی  
مدت پاسخگویی و انجام فعالیت: ۴۵ دقیقه

درس: استعداد فضایی چهارم دبستان  
زمان برگزاری: هفته سوم آبان

## عالوی

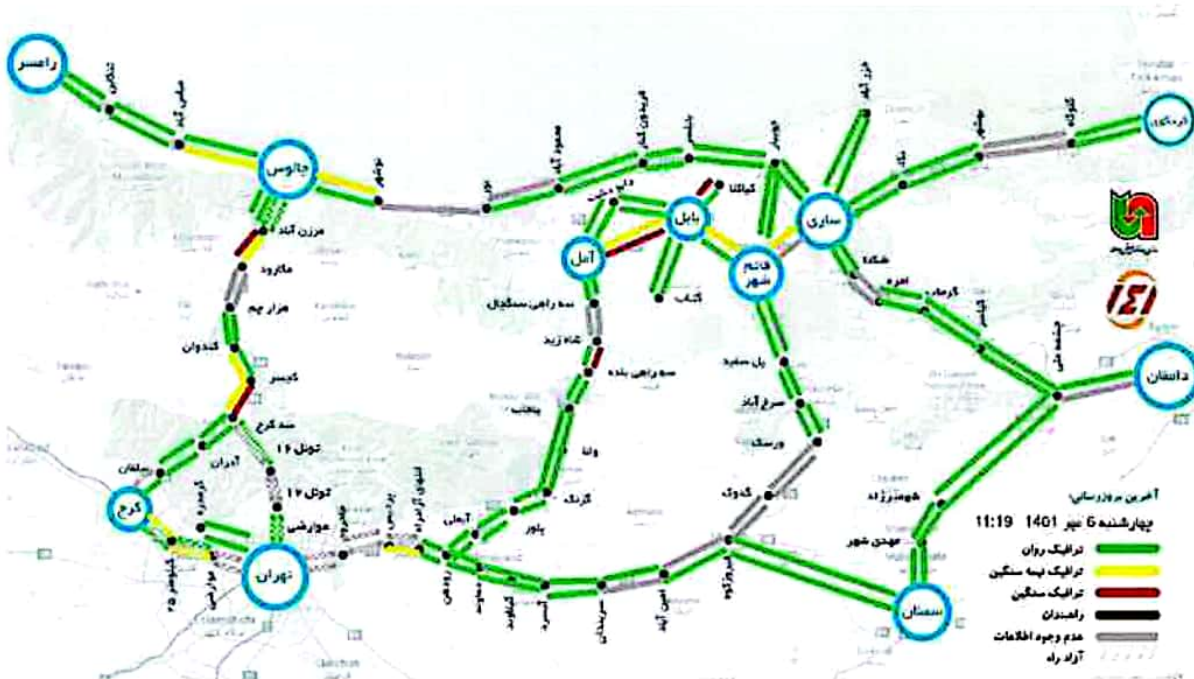
### فعالیت ۵

۴۰- چند مکعب در تصویر می بینید؟



### فعالیت ۶

۴۱- با توجه به نقشه‌ی ترافیکی مازندران به پرسش‌ها پاسخ دهید.



الف) آخرین روز رسانی در چه زمانی بوده است؟

چهارشنبه - روز: ..... ماه: ..... سال: ..... ساعت: .....

ب) رنگ سبز و قرمز نشانه‌ی چیست؟

پ) بین کدام یک از مسیرهای زیر ترافیک سنگین و نیمه سنگین است؟

۱) ساری - قائم شهر      ۲) بابل - آمل      ۳) چالوس - نوشهر      ۴) بابل - قائم شهر

ت) کدام یک از شهرهای زیر، به ساری نزدیک‌تر است؟

۱) بابل      ۲) چالوس      ۳) تهران      ۴) قائم شهر

# علوی

درس: استعداد فضایی چهارم دبستان  
زمان برگزاری: هفته سوم آبان

طرح سنجش استعداد: مداد قرمز ۱- توصیفی  
مدت پاسخگویی و انجام فعالیت: ۴۵ دقیقه

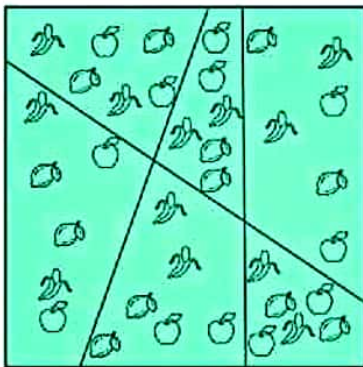
پاسخنامه استعداد فضایی پایه‌ی چهارم:

## فعالیت ۱

۳۶- الف) ۱۲ (ب) ۹ (ج) ۸ (ت) ۶  
۱ (ث)  
(۳ نمره) (هر مورد ۵/۵ - نمره) (اندزگو) (بازل) (گویه: ۲۳، ۲۵ و ۲۶) (متوسط)

## فعالیت ۲

-۳۷



۱) (نمره) (هر خط ۵/۵ - نمره) (اندزگو) (قدرت تجسم و تصویرسازی) (گویه: ۲۳، ۲۵، ۲۸، ۲۹ و ۳۰) (دشور)

## فعالیت ۳

۳۸- گزینه د، ۱ - (۵/۵ - نمره) (اندزگو) (قدرت تجسم) (گویه: ۲۳، ۲۷، ۲۸ و ۳۰) (آسان)

## فعالیت ۴

۳۹- الف) گزینه د، ۲ (۵/۵ - نمره)

ب) سال ۹۲، ۹۳، ۹۴ و ۹۵ (۱ نمره)

پ)  $3450 - 23150 = 19700$  (۷۵/۵ - نمره)

ت) افزایش (۲۵/۵ - نمره)

(۲/۵ نمره) (اندزگو) (تفسیر نمودار) (گویه: ۲۴) (متوسط)

طرح سنجش استعداد: مداد قرمز ۱ - توصیفی  
مدت پاسخگویی و انجام فعالیت: ۴۵ دقیقه

درس: استعداد فضایی چهارم دبستان  
زمان برگزاری: هفته سوم آبان

**عابوی**

**فعالیت ۵**

۴۰-۱۰ مکعب (۵/۵ - نمره) (فدرزگو) (نجم اشکال سه بعدی) (گویه: ۲۲ و ۲۹) (متوسط)

**فعالیت ۶**

۴۱-۴ (الف) ۶ مهر ۱۴۰۱ ساعت ۱۱:۱۹ (۱ نمره)

(ب) رنگ سبز ترافیک روان - رنگ قرمز ترافیک سنگین (۵/۵ - نمره)

(پ) گزینه ۲ - (۵/۵ - نمره)

(ت) گزینه ۴ - (۵/۵ - نمره)

(۲/۵ نمره) (اندروزگو) (نقشه خوانی) (گویه: ۲۱، ۲۲ و ۲۴) (متوسط)