

۲ درستی و نادرستی هر عبارت را مشخص کن.

الف: محیط دایره از حاصل ضرب قطر در عدد پی به دست می آید.

ب: شعاع دایره‌ای را ۴ برابر کردیم محیط دو برابر می شود.

پ: وقتی دایره‌ای را نصف می کنیم محیط شکل به دست آمده برابر است با محیط نیم دایره.

۳ در جای خالی عدد مناسب بگذار.

الف: قطر دایره برابر شعاع است.

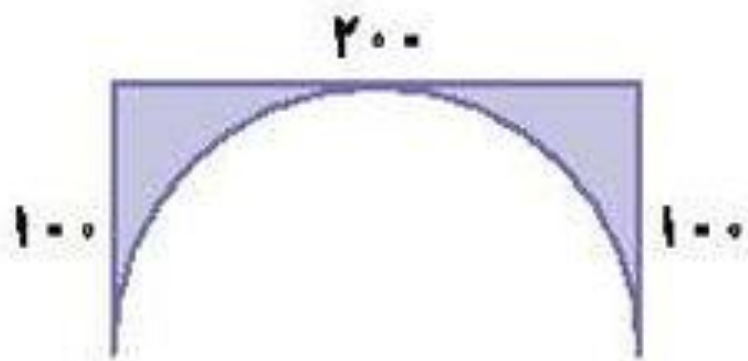
ب: در هر دایره نسبت اندازه‌ی شعاع به اندازه‌ی قطر مثل به است.

۴ شعاع زمینی ۵ متر است. اگر بخواهیم دور آن را دوبار نرده بکشیم، به چند متر نرده نیاز داریم؟

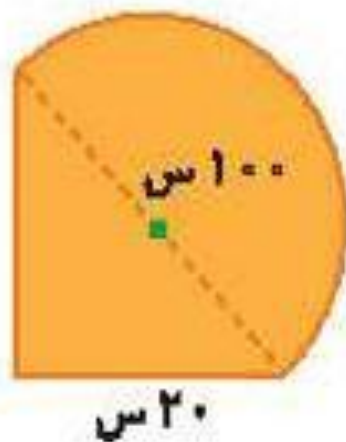


۸

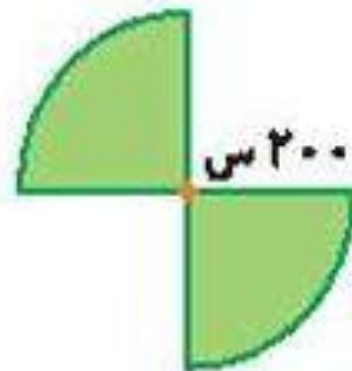
محیط شکل زیر را به دست بیاور.



الف



ب



پ

