




«عيدتون مبارک»



موضوع:


تاریخ

نام و نام خانوادگی


هدف:

مرور فصل ۱

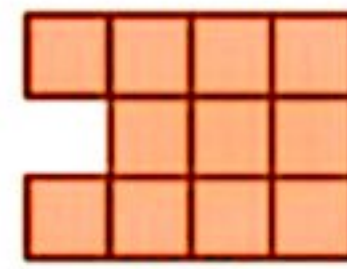
۱- با توجه به الگوی مقابل،



شکل (۱)



شکل (۲)



شکل (۳)

شکل (۵)

الف - شکل پنجم را رسم کنید.
ب رابطه ی بین تعداد مربع ها و شماره ی شکل ها را بنویسید
ج - چندمین شکل با ۲۵ مربع ساخته می شود؟

۲- چگونه می توان زوج یا فرد بودن یک عدد را مشخص کرد؟
با رسم الگویی، اعداد زوج را نشان دهید.

۳- در جای خالی کلمات مناسب بنویسید

حاصل جمع دو عدد فرد، عددی است .

بر روی محور اعداد صحیح ، هرچه به سمت پیش برویم عددها بزرگ تر می شوند .


حاصل جمع دو عدد که یکی از آنها زوج و دیگری فرد است، است .

۴- توضیح دهید که ضرب های عدد ۴ چگونه به دست می آیند؟ سپس چند ضرب آن را بنویسید.

۵- دور اعدادی که بر ۵ و زیر اعدادی که بر ۹ بخش پذیرند خط بکشید.

۱۰۰۰ ۵۰۱۱۲ ۱۹۹ ۲۰۷ ۲۲۵ ۶۹ ۳۶

۶- سه عدد کوچک تر از ۵۰ بنویسید که بر هیچ یک از اعداد ۲، ۳ و ۵ بخش نباشد .



موضوع:

تاریخ

نام و نام خانوادگی

هدف:

۹ ۸ ۷ ۶ ۵ ۴ ۳ ۲ ۱ ۰

۷- با کارت های

هر یک از اعداد خواسته شده را بسازید و جاهای خالی را پر کنید.

به حروف

به رقم

الف - کوچک ترین عدد ده رقمی

ب - کوچک ترین عدد ۶ رقمی زوج

۸ اعداد زیر را مقایسه کنید و علامت مناسب $< = >$ قرار دهید.

$$-۳ \square ۰$$

$$+۱ \square ۰$$

$$-۵ \square -۲$$

$$+۱ \square +۲$$

$$۰ \square -۵$$

$$۱ - \square ۱$$

$$-۵ \square +۴$$

۹- اعداد زیر را از کوچک به بزرگ مرتب کنید.

+۸۰۰، -۱، +۱۰۰، -۱۲، -۵، +۳۰۰، -۸۰

۱۰- با استفاده از محور، هر یک از الگوهای زیر را ادامه دهید.

، ، ، ، ، +۴، +۶، +۸، +۱۰

، ، ، ، ، -۱۵، -۲۰، -۲۵

۱۱- عدد چهل و نه میلیون و هشتصد و هفت را به رقم بنویسید.

به صورت گسترده بنویسید.

اگر آن را در ۱۰۰ ضرب کنید، ارزش مکانی رقم ۸ چه تغییری می کند؟

۱۲- برای عبارت $۳۴۰۰۶۷ - ۱۰۰۰۹۲$ مسئله ای طرح و آن را حل کنید.