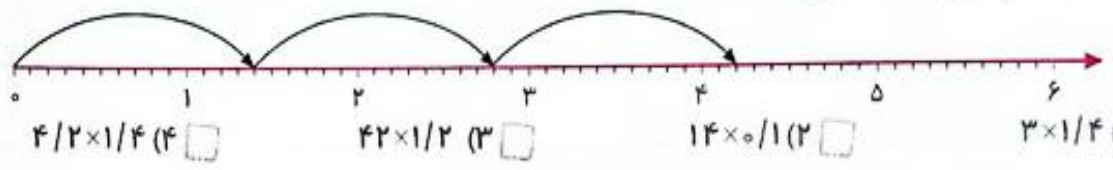




نام و نام خانوادگی: \_\_\_\_\_ تاریخ: \_\_\_\_\_ موضوع: عیدانه هدف: مرور فصل ۵ و ۶

الف) گزینه‌ی درست را مشخص کنید.

۱- محور زیر، کدام ضرب را نشان می‌دهد؟



۲- جمع مقابل، باز شده‌ی کدام عدد است؟

- ۴۰ + ۷ + ۰/۰۳ + ۰/۰۰۴
- ۴۷۳/۰۰۰۴ (۴)
- ۴۷/۰۳۴ (۳)
- ۴/۷۳۴ (۲)
- ۴۷/۳۴ (۱)

۳- محور مقابل کدام عدد را نشان می‌دهد؟



۴- حاصل عبارت روبه‌رو به کدام عدد نزدیک‌تر است؟

- $22/8 - (5/21 + 8/901) = 8,29$
- ۱۵ (۴)
- ۹ (۳)
- ۶ (۲)
- ۱۲ (۱)

ب) درستی یا نادرستی جملات زیر را مشخص کنید.

- ۱- عدد  $17/042$  برابر با  $\frac{1}{1000} \times 17042$  است.  درست  نادرست
- ۲- عدد  $4/163$  بین دو عدد  $4/16$  و  $4/17$  قرار دارد.  درست  نادرست
- ۳- برای جمع اعشار نمی‌توانیم عوامل را به کسر یا عدد مخلوط تبدیل کنیم.  درست  نادرست
- ۴-  $0/01$  برابر با  $10$  تا  $1000$  است.  درست  نادرست

ج) جاهای خالی را با پاسخ مناسب پر کنید.

- ۱- عدد  $25/012$  به صورت \_\_\_\_\_ خوانده می‌شود. **بیست و پنج عدد صحیح و دوازده هزارم**
- ۲- عدد چهارصد و شش و بیست و نه صدم به صورت 406/29 نوشته می‌شود.
- ۳- عدد اعشاری 24/03 را می‌توان به صورت کسر  $\frac{2403}{100}$  نوشت.
- ۴- صورت اعشاری عدد  $\frac{3}{1000}$  به صورت 38/003 می‌باشد.





نام و نام خانوادگی: \_\_\_\_\_ تاریخ: \_\_\_\_\_ موضوع: \_\_\_\_\_ هدف: \_\_\_\_\_

د پاسخ کامل پرسش‌های زیر را بنویسید.

۱- حاصل عملیات زیر را به روش مورد علاقه‌ی خود به دست آورید.

$65/08 + 33/999 = 99/079$

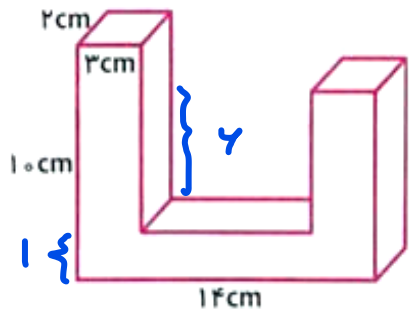
$48/05 \times 12/2 = 586/21$

$328/8 - 294/016 = 34/784$

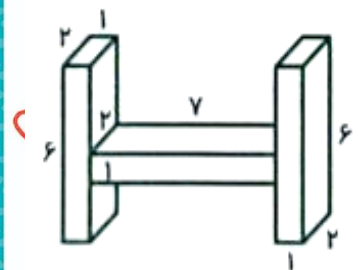
۲- برای یک اردوی یک هفته‌ای علمی و تفریحی، یک کیسه‌ی ۲۵ کیلوگرمی برنج در نظر گرفته شد. در روز اول  $4/075$  کیلوگرم و در روز دوم  $6/28$  کیلوگرم از آن پخته و مصرف شد. چه مقدار برنج برای روزهای بعد باقی مانده است؟

$4/075 + 6/28 = 10/355$        $25 - 10/355 = 14/645$

۲۰- مقدار حجم‌های داده شده را با تقسیم آن‌ها به مکعب‌های کوچک‌تر محاسبه کنید.



$3 \times 2 \times 10 = 60$   
 $3 \times 2 \times 7 = 42$   
 $8 \times 2 \times 1 = 16$   
 $16 + 42 + 60 = 118$



$1 \times 2 \times 6 = 12$   
 $1 \times 2 \times 7 = 14$   
 $6 \times 2 \times 1 = 12$   
 $12 + 14 + 12 = 38$