



# ارمغان هفته - ششم دبستان

شماره‌ی  
۲۶

نام و نام خانوادگی: ..... تاریخ: ..... نام آموزگار: .....

- ریاضی < نوروژ
- علوم < نوروژ
- فارسی < نوروژ
- مطالعات اجتماعی < نوروژ
- هدیه‌های آسمان < نوروژ
- قرآن < نوروژ

## ریاضی

۱) کشاورزی نصف زمین خود را گندم کاشت. او  $\frac{1}{3}$  از قسمت باقی مانده را جو و  $\frac{1}{3}$  دیگر را یونجه کاشت. سپس قسمت سوم را هم نصف کرد و نصف آن را هویج کاشت. حساب کنید او چه کسری از کل زمین را هویج کاشته است؟

$\frac{1}{12}$  از کل زمین را هویج کاشته است.

جو	گندم
یونجه	
هویج	

۲) محیط دایره‌ای  $50/24$  متر است. مساحت دایره را بدست آورید.


$8 = \text{سُغاع}$  و  $14 = \text{قطر}$   $\rightarrow 3,14 \times \text{قطر} = 50,24 \rightarrow 3,14 \times \text{قطر} = 50,24$   
 $8 \times 8 \times 3,14 = 200,96$  مساحت دایره

۳) خانم (الف) از ساخت ۵ تا جعبه ۴۵۰۰۰ تومان دستمزد می‌گیرد که هشتاد درصد آن سود است و بقیه صرف خرید لوازم ساخت می‌شود. خانم (الف) چه مقدار از درآمدش از هر جعبه را صرف خرید لوازم هر جعبه می‌کند؟ برای هر جعبه ۱,۸۰۰ لوازم خرید

سود  $\rightarrow 34000 = 40\%$   $45000 - 34000 = 11000$   
 $11000 \div 5 = 2200$  هزینه یک جعبه

۴) جاهای خالی را کامل کنید.

- الف) بزرگ‌ترین عدد دو رقمی بخش پذیر بر ۹، عدد  $99$  است.
- ب) حاصل عبارت  $25 - (4 \times 1/2)$  برابر با  $20,2$  می‌شود.
- پ) نقطه  $\begin{bmatrix} 3 \\ 0 \end{bmatrix}$  روی محور  $افقی$  قرار دارد.
- ت)  $148$  متر برابر است با  $0,148$  کیلومتر.



علوم

به سوالات زیر پاسخ کوتاه دهید.

۱

الف) مهم ترین فایده‌ی بازیافت کاغذ چیست؟  
حفظ منابع طبیعی مانند چمن و آب

ب) اسیدها به چند دسته تقسیم می‌شوند، نام ببرید.  
نورسخت، اسیدهای خوراکی و صنعتی

پ) مواد خارج شده از دهانه‌ی آتش فشان به چند دسته تقسیم می‌شوند؟ نام ببرید.  
سنگ، بستر، خاکستر، مایع و گاز

ت) چه زمانی نیروها همدیگر را خنثی می‌کنند؟  
زمانی که نیروها در جهت مخالف هم وارد می‌شوند


ث) انرژی مواد خوراکی از کجا بدست می‌آید؟  
انرژی خورشید که در گیاه سبزی، غلات و میوه‌ها ذخیره می‌شود

۲) در هنگام استفاده از میکروسکوپ چه نکات ایمنی را باید رعایت کرد؟ (دو مورد)

قبل از زدن در را به طرف دیگر بگردانیم تا کسی وارد نشود

در مواقع عدم استفاده از میکروسکوپ، آن را جاکش کنیم تا بپزد

۳) سه مورد از موادی که انرژی ذخیره‌ای شیمیایی را دارند نام ببرید و برای هر کدام دو مثال بزنید.



فارسی

۱) خاطره یک روز در عید نوروز را بنویسید.

دختره دانش آموز

۲) با کلمه‌ی «عید»، جمله‌های پرشبی، امر، عاطفی بسازید.

دختره دانش آموز

۳) یک متن بنویسید که در آن کلمات زیر به کار رفته باشد.

دعالم - شهامت - جهان - کتاب - تأثیرگذاری

دختره دانش آموز



۴ دوست دارید به کدام یک از استان‌های کشور عزیزمان ایران سفر کنید؟

الف) درباره‌ی آداب و رسوم، اماکن دیدنی، لباس‌ها، غذاها، سوغات، بازی‌های محلی، نحوه‌ی برخورد مردم آن شهر و حتی لهجه آن تحقیق کنید و پس از تعلیلات در کلاس بخوانید.

دلخواه دانش آموز

ب) سفرنامه‌ی خود از مسافرت عید را تهیه کرده و بنویسید.

۵ یکی را به دلخواه انجام دهید.

الف) قالب‌های مختلف شعری (غزل، قصیده یا رباعی، دو بیتی) را با هم مقایسه کنید.

ب) ۵ بیت شعر که در آن «مبالغه» یا «کنایه» آمده باشد را بنویسید.

دلخواه دانش آموز

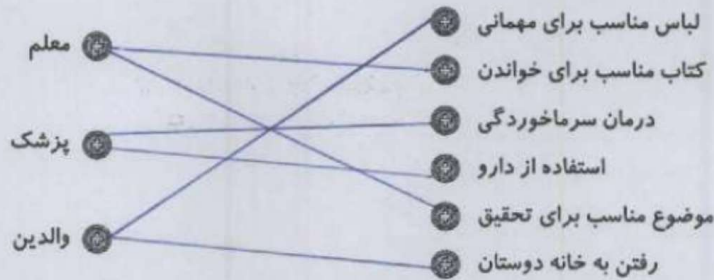
### مطالعات اجتماعی

۱ برای جدول روبه‌رو سؤال طرح کنید.

س	خ	ن	چ	ی	ن
ا	ف	ر	ا	ط	ی
گ	ل	خ	ا	ن	ه
م	ن	ج	ی	ل	
	خ	ی	ا	م	
خ	ط	ز	م	ا	ن
ر	و	د	ش	و	ر

۱. با دوستی با چه افرادی خود را دوست دارید؟
۲. باید از چه دوستی‌هایی بی‌دوری کرد؟
۳. گل و گیاه زیباترین کدام سرسبزترین است؟
۴. یک شهر نام ببرید که در بین بزرگترین شهرها باشد.
۵. نام یکی از ریاضیدانان معروف در دوره‌ی اسلامی را بنویسید.
۶. برای نشان دادن همدانگی که در چه زمانی اتفاق افتاده است از آن استفاده می‌کنند.
۷. نام رودی که به دریای خلیج فارس می‌ریزد.

۲ در هر مورد مشورت با چه کسی مناسب‌تر است؟




۳ قانون‌هایی که باید در کتابخانه رعایت شود را بنویسید. (دو مورد)

سکوت را رعایت کنیم

از اسباب‌بازی‌ها استفاده نکنیم

۳



## هدیه‌های آسمان - قرآن

۱ در مورد آداب معاشرت در مهمانی‌های عید نوروز بنویسید.

خوشین بر یا سیر - سر سبوع در مهمانی ما عنبر سوع - با سس بنا سب هما سیر

۲ قسمتی از وصیت‌نامه‌ی یک شهید را بنویسید.

بم دکواه دانسج انور






۳ کدام سوره‌ها از قرآن سجده‌ی واجب دارد؟ (دو مورد کافی است).







سوره بکیم

سوره بجره

۴ با دقت در آیه‌ی ۱۴۰ سوره نساء بنویسید در برابر افرادی که دیگران را مسخره می‌کنند چه رفتاری باید نشان داد؟

از عیب خارج سوره و با آن ها همنسبی نماند

	استفاده از میکروسکوپ
	دانستی‌های مربوط به انشاء
	شناخت نقشه‌ی گردشگری
	آشنایی با مفاهیم اجتماعی
	آشنایی با سوره‌هایی که سجده دارند.

	نحوه‌ی محاسبه‌ی کسر و مساحت
	تبدیل واحد و اعداد اعشاری
	درک مسئله مربوط به کسر، درصد و سود
	آشنایی با فایده‌ی بازیافت
	شناخت اسیدها و مواد آتش فشانی
	آشنایی با نیرو و انرژی

شناختن آنها

چینی خوب  
خوب  
قابل قبول  
تاز به تلاش بیشتر