

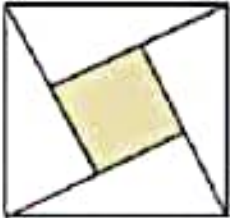
۲- می خواهیم دور تا دور یک سطل فلزی را با کاغذ بپوشانیم .

مساحت کاغذ مورد استفاده چقدر خواهد بود ؟

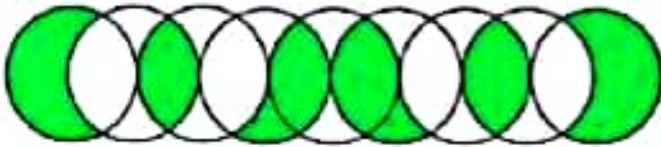


۳- در شکل مقابل مساحت مربع بزرگ چند برابر مربع کوچک است ؟

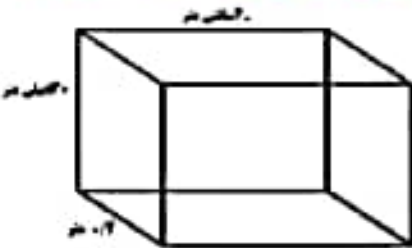
(هر ضلع مربع کوچک را به اندازه خودش امتداد داده ایم .)



۴- در شکل مقابل مساحت قسمت رنگی چند برابر مساحت یک دایره کامل است ؟

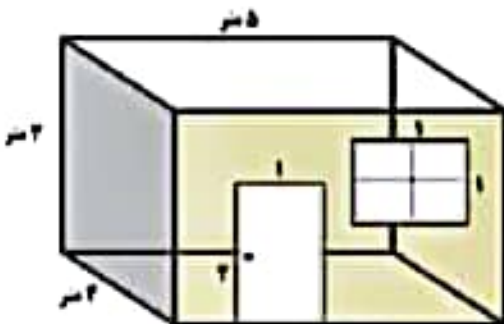


۵- مساحت مکعب زیر را بر حسب سانتی متر بدست آورید :



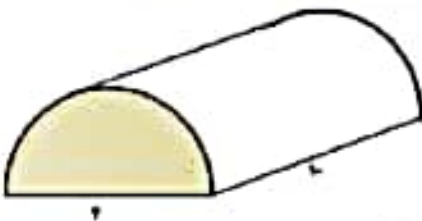
۶- می خواهیم دیوار اتاقی را که یک پنجره و یک درب همانند شکل دارد . کاغذ دیواری بزنیم .

چند متر مربع کاغذ دیواری نیاز داریم ؟



۷- می خواهیم بالا و اطراف یک گلخانه را با نایلون بپوشانیم . مجموعه

چند متر مربع نایلون نیاز است ؟



۸- در شکل مقابل چه تعداد مکعب وجود دارد ؟ (مکعب های زیر که مشاهده نمی شوند را محاسبه کنید)

۹- در شکل مقابل اگر ضلع هر مکعب ۱ سانتی متر باشد . مساحت کل شکل چند سانتی متر مکعب است ؟

