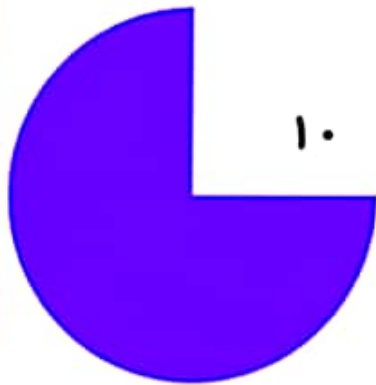
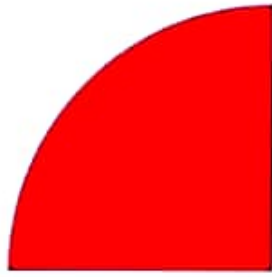
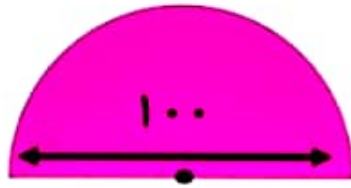


۱- مساحت قسمت رنگی هر شکل را محاسبه کنید. (واحد ها به سانتی متر می باشد)



کاربرگ ریاضی ششم

ترتیب عملیات

1) اول گروه یا پراگتذ (اصل آن را از داخلی ترین پراگتذ بدست می آوریم .)

2) دوم ضرب

3) تقسیم

4) جمع

5) تفریق

$$\text{الف) } 5 \times 3 + 8 \div 4 =$$

$$\text{ب) } 154 - 3/4 \times 10 =$$

$$\text{پ) } 4 + 9 \times 6 \div 2 =$$

$$\text{ت) } 7 + 1/6 \div 4 - 3/4 =$$

$$\text{ث) } 5/3 \times 1/8 \div 3 + 2/7 \div 0/9 =$$

$$\text{ج) } 3 + (2 + (4 + 3) - 5) \times 2 =$$

$$\text{ح) } 25 + (3 \times 8) \div 6 + 2 =$$

$$\text{خ) } 2 + \frac{1}{3} \times 18 - 5 + 24 \div 6 =$$

$$\text{گ) } 5 + (5 + (5 + (5 + (0/9 - 0/5)))) =$$

موفق و پیروز باشید