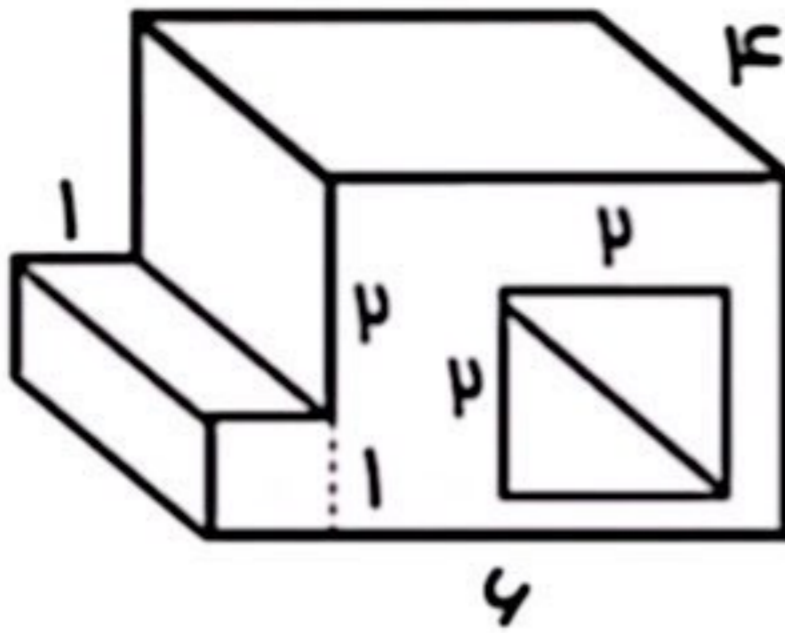


## تکلیف ریاضی


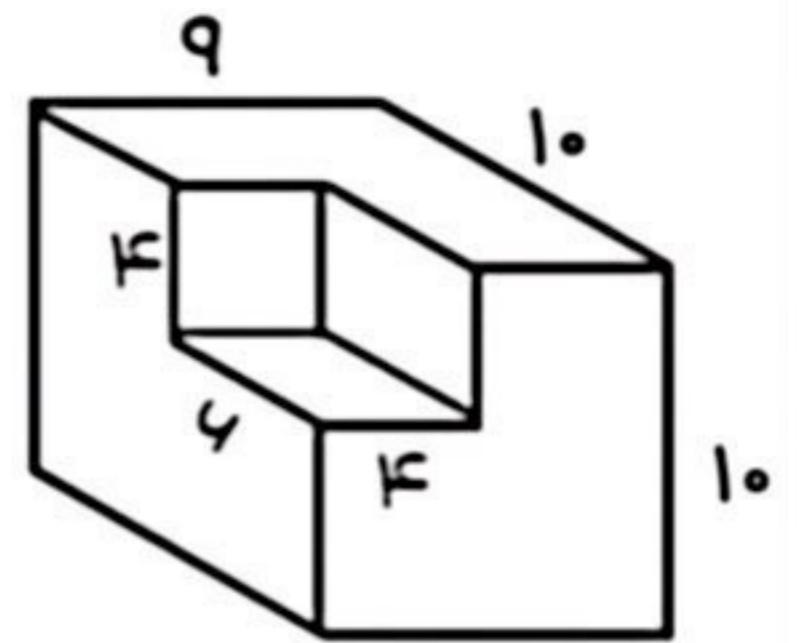


۱. حجم شکل های زیر را پیدا کنید.

(الف)



(ب)



۲. گنجایش استخری به ابعاد ۷، ۴ و ۲ متر، چند لیتر است؟

۳. گنجایش مکعب مستطیلی  $\frac{۴۸}{۱۰}$  لیتر است. اگر طول و عرض آن ۱۰ و ۸ سانتی متر باشد، ارتفاع آن را به دست آورید.

۴. از شیر آبی در هر دقیقه ۲۵۰۰ سی سی آب وارد منبعی به گنجایش ۲۰۰ لیتر می شود. این منبع بعد از چند دقیقه پر می شود؟

# کاربرگ ریاضی - ظرفیت

تاریخ: .....

کلاس: .....

نام و نام خانوادگی: .....



یادآوری: هر ۱ لیتر = ۱۰۰۰ میلی لیتر.  
واحدهای ظرفیت: لیتر و میلی لیتر



۱. یک بطری آب ظرفیت ۲ لیتر دارد. چند میلی لیتر آب در آن جا می گیرد؟  
..... میلی لیتر

..... میلی لیتر

۲. یک پارچ ۳ لیتر آب دارد. چند میلی لیتر آب در آن جا می گیرد؟



۳. یک فلاسک ظرفیت ۱۵۰۰ میلی لیتر دارد. چند لیتر است؟  
..... لیتر

..... لیوان

۴. یک مخزن کوچک ۴ لیتر آب دارد. اگر هر لیوان ۲۵۰ میلی لیتر باشد، چند لیوان را پر می کند؟



۵. یک ظرف ۲۵۰۰ میلی لیتر دارد. چند لیتر می شود؟  
..... لیتر

۶. یک آکواریوم کوچک ۵ لیتر آب دارد. چند میلی لیتر آب در آن جا می گیرد؟  
..... میلی لیتر

