

ریاضی

پاسخنامه ارمغان شماره ۳۲

حاصل ضرب عبارت‌های زیر را بیابید.



الف)  $0/001 \times 8000 =$

ب)  $0/001 \div 6000 =$

پ)  $100 \div 0/001 =$

ت)  $500 \times 0/009 =$

پاسخنامه ارمغان شماره ۳۲

۲ حاصل ضرب عدد  $0/084 \times 0/12$  برابر با چه عددی خواهد شد؟



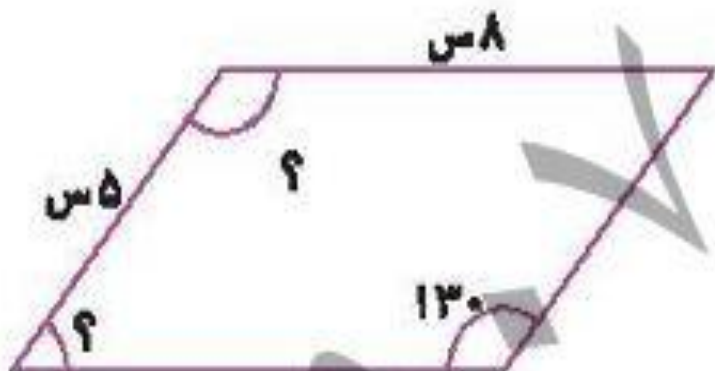
۷ (۱)

۰/۷ (۲)

۰/۰۷ (۳)

۰/۰۰۷ (۴)

۳ با توجه به خواص متوازی الاضلاع اندازه‌های خواسته شده را روی شکل بنویسید.



پاسخنامه ارمان شماره ۳۲

۴ مهدی یک بطری آب میوه دارد،  $\frac{1}{3}$  آن را داخل لیوان و  $\frac{3}{4}$  از آب میوه باقی مانده را داخل یک تنگ می ریزد. چقدر آب میوه

در بطری باقی مانده است؟

۵ مجموع نصف عدد  $\frac{1}{4}$  و ربع عدد  $\frac{1}{2}$  چند درصد است؟

# ریاضی

پاسخنامه ارمغان شماره ۳۲

حاصل ضرب عبارتهای زیر را بیابید.

۸ × ۷

الف)  $0.001 \times 8000 =$

$8000 \times 0.001 = 8$

ب)  $0.001 \div 6000 =$

پ)  $100 \div 0.001 =$

۹ × ۵

ت)  $500 \times 0.009 =$

$500 \times 0.009 = 4.5$



۱ ۵۵ ۵۵

حاصل ضرب عبارتهای زیر را بیابید.

الف)  $0.001 \times 8000 =$

ب)  $0.001 \div 6000 =$

پ)  $100 \div 0.001 =$

ت)  $500 \times 0.009 =$

$$\frac{1}{1000} \div \frac{4000}{1} = \frac{1}{1000} \times \frac{1}{4000} = \frac{1}{4000000}$$



# ریاضی

پاسخنامه ارمغان شماره ۳۲

حاصل ضرب عبارتهای زیر را بیابید.



الف)  $0.001 \times 8000 =$

ب)  $0.001 \div 6000 =$

ب)  $\frac{1}{1} \div \frac{0.001}{1} = \frac{1000}{1} \div \frac{1}{1000} = \frac{1000}{1} \times \frac{1000}{1} = \frac{1000000}{1} = 1000000$

ت)  $500 \times 0.009 =$

پاسخنامه ارمغان شماره ۳۲



۲ حاصل ضرب عدد  $0/084 \times 0/12$  برابر با چه عددی خواهد شد؟



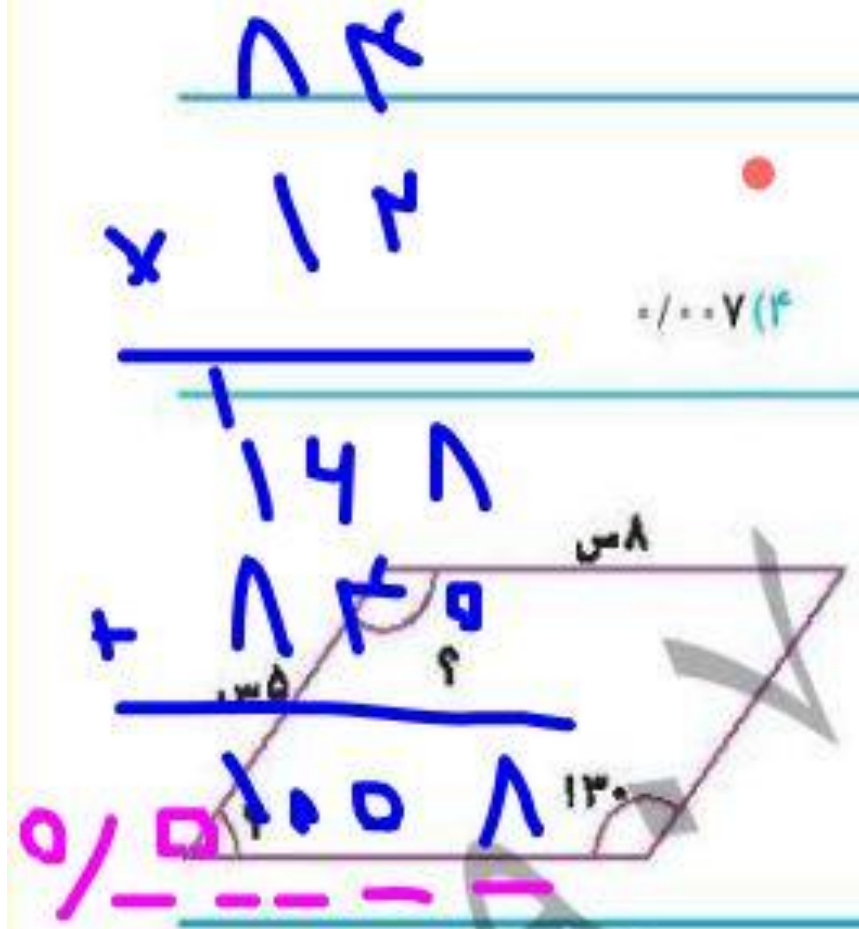
۷ (۱)

۰/۷ (۲)

۰/۰۷ (۳)

۰/۰۰۷ (۴)

۳ با توجه به خواص متوازی الاضلاع اندازه‌های خواسته شده را روی شکل بنویسید.



.....

.....

.....

پاسخنامه ارمغان شماره ۳۲



۲ حاصل ضرب عدد  $0.12 \times 0.84$  برابر با چه عددی خواهد شد؟



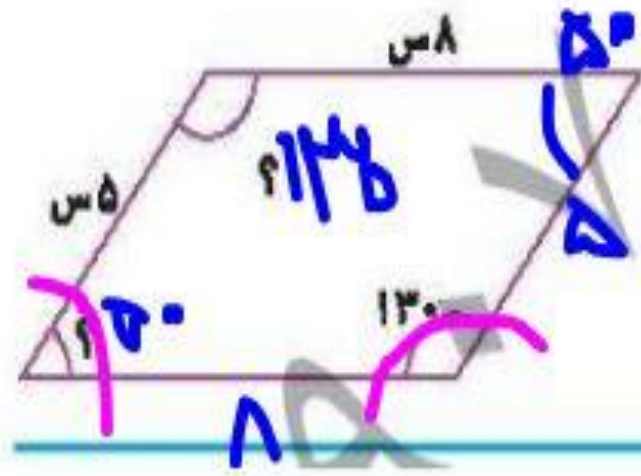
۰/۰۰۷ (۴)

۰/۰۷ (۳)

۰/۷ (۲)

۷ (۱)

۳ با توجه به خواص متوازی الاضلاع اندازه‌های خواسته شده را روی شکل بنویسید.



$$180 - 130 = 50$$

۴ مهدی یک بطری آب میوه دارد،  $\frac{1}{3}$  آن را داخل لیوان و  $\frac{3}{4}$  از آب میوه باقی مانده را داخل یک تنگ می ریزد. چقدر آب میوه

در بطری باقی مانده است؟

باقی مانده

$$\frac{1}{3} - \frac{1}{3} = \frac{0}{3} = 0$$

۵ مجموع نصف عدد  $\frac{1}{4}$  و ربع عدد  $\frac{1}{4}$  چند درصد است؟

$$\frac{1}{4} \times \frac{1}{2} + \frac{1}{4} \times \frac{1}{4} = \frac{1}{8} + \frac{1}{16} = \frac{2}{16} + \frac{1}{16} = \frac{3}{16}$$

پاسخنامه ارمغان شماره ۳۲

۴ مهدی یک بطری آب میوه دارد،  $\frac{1}{3}$  آن را داخل لیوان و  $\frac{3}{4}$  از آب میوه باقی مانده را داخل یک تنگ می ریزد. چقدر آب میوه



در بطری باقی مانده است؟

$$\frac{1}{3} = \frac{25}{100} \quad ?$$

۲۵٪

۵ مجموع نصف عدد  $\frac{1}{4}$  و ربع عدد  $\frac{1}{2}$  چند درصد است؟

\_\_\_\_\_

$$\frac{1}{2} \times \frac{1}{2} = \frac{1}{4}$$

$$\frac{1}{4} \times \frac{1}{2} = \frac{1}{8}$$

$$\frac{1}{4} + \frac{1}{8} = \frac{2}{8} + \frac{1}{8} = \frac{3}{8}$$

پاسخنامه ارمغان شماره ۳۲



پاسخنامه ارمغان شماره ۳۲

