






نام و نام خانوادگی

تاریخ

موضوع:

هدف:

<p>۱ عدد هفت میلیون و سیصد و چهار هزار و دویست و نود و شش را به رقم بنویسید و به سوالات زیر پاسخ دهید. الف) جدول ارزش مکانی را برای این عدد رسم کنید. ب) ارزش مکانی رقم ۷ را بنویسید. ج) کدام رقم ارزش مکانی کمتری دارد؟</p>	<p>۱</p>
<p>۲ هشتمین شکل الگوی زیر چند دایره دارد؟ رابطه را بنویسید.</p> <div style="display: flex; justify-content: space-around; align-items: center;"> <div style="text-align: center;">  <p>(۱)</p> </div> <div style="text-align: center;">  <p>(۲)</p> </div> <div style="text-align: center;">  <p>(۳)</p> </div> <div style="text-align: center;"> <p>؟</p> <p>(۸)</p> </div> </div>	<p>۲</p>
<p>۳ حاصل جمع و تفریق کسر های زیر را بدست آورید .</p> $\frac{2}{4} - \frac{1}{8} = \text{---} = \text{---}$ $\frac{3}{6} + \frac{1}{3} = \text{---} + \text{---} = \text{---}$	<p>۳</p>
<p>۴ ماشین های ترکیبی زیر را کامل کنید .</p> <div style="display: flex; align-items: center; justify-content: center;"> <div style="display: flex; flex-direction: column; gap: 10px;"> <div style="border: 1px solid black; border-radius: 10px; padding: 5px; width: 40px; text-align: center;">۸</div> <div style="border: 1px solid black; border-radius: 10px; padding: 5px; width: 40px; text-align: center;"> </div> <div style="border: 1px solid black; border-radius: 10px; padding: 5px; width: 40px; text-align: center;">۶</div> <div style="border: 1px solid black; border-radius: 10px; padding: 5px; width: 40px; text-align: center;"> </div> </div> <div style="margin: 0 20px;"> <p>× ۳</p> </div> <div style="display: flex; flex-direction: column; gap: 10px;"> <div style="border: 1px solid black; border-radius: 10px; padding: 5px; width: 40px; text-align: center;"> </div> <div style="border: 1px solid black; border-radius: 10px; padding: 5px; width: 40px; text-align: center;">۱۴</div> <div style="border: 1px solid black; border-radius: 10px; padding: 5px; width: 40px; text-align: center;"> </div> <div style="border: 1px solid black; border-radius: 10px; padding: 5px; width: 40px; text-align: center;">۲۹</div> </div> </div>	<p>۴</p>
<p>۵ ضرب روبه رو را انجام دهید و روی شکل نشان دهید .</p> $3 \times \frac{2}{8} = \dots\dots\dots$	<p>۵</p>

بازخورد:

\_\_\_\_\_

\_\_\_\_\_

\_\_\_\_\_





موضوع:

تاریخ

نام و نام خانوادگی

هدف:

<p>مانند نمونه کسر های زیر را با هم مقایسه کنید . (از کسر های مساوی استفاده کنید .)</p> $\frac{6}{14} = \frac{3}{7} > \frac{5}{14}$ $\frac{6}{22} \bigcirc \frac{3}{11}$ $\frac{4}{5} \bigcirc \frac{9}{10}$ $\frac{1}{2} \bigcirc \frac{9}{16}$	<p>۶</p>
<p>حاصل ضرب های زیر را به دست آورید .</p> $\begin{array}{r} 927 \\ \times 340 \\ \hline \end{array}$ $\begin{array}{r} 502 \\ \times 308 \\ \hline \end{array}$	<p>۷</p>
<p>یک باغدار ۲۵۰ کیلوگرم از محصول پرتقال خود را کیلویی ۲۸۰۰ تومان و ۳۰۰ کیلوگرم از محصول سیب خود را کیلویی ۳۲۰۰ تومان فروخته است. این باغدار از فروش این محصولات در مجموع چقدر به دست آورده است؟</p>	<p>۸</p>
<p>حاصل تقسیم های زیر را به دست آورید .</p> $258 \overline{) 22}$ $1256 \overline{) 69}$	<p>۹</p>

بازخورد:

Blank area for student feedback with horizontal lines.





نام و نام خانوادگی

تاریخ

موضوع:

هدف:

۶	مانند نمونه کسر های زیر را با هم مقایسه کنید . (از کسر های مساوی استفاده کنید . ) $\frac{6}{14} = \frac{3}{7} > \frac{5}{14}$ $\frac{6}{22} \bigcirc \frac{3}{11}$ $\frac{4}{5} \bigcirc \frac{9}{10}$ $\frac{1}{2} \bigcirc \frac{9}{16}$
۷	حاصل ضرب های زیر را به دست آورید . $\begin{array}{r} 927 \\ \times 340 \\ \hline \end{array}$ $\begin{array}{r} 502 \\ \times 308 \\ \hline \end{array}$
۸	یک باغدار ۲۵۰ کیلوگرم از محصول پرتقال خود را کیلویی ۲۸۰۰ تومان و ۳۰۰ کیلوگرم از محصول سیب خود را کیلویی ۳۲۰۰ تومان فروخته است. این باغدار از فروش این محصولات در مجموع چقدر به دست آورده است؟
۹	حاصل تقسیم های زیر را به دست آورید . $\begin{array}{r} 258 \\ \underline{22} \\ \hline \end{array}$ $\begin{array}{r} 1256 \\ \underline{69} \\ \hline \end{array}$

بازخورد:

\_\_\_\_\_

\_\_\_\_\_

\_\_\_\_\_

