





















زنگ هوش و خلاقیت
صدیقه پالا هنگ: آموزگار

زمان	شماره پرسش	موضوع	سطح پرسش
هفته ۱۰	۱	جدول شگفت‌انگیز	متوسط
	۲	درک شباهت‌ها و تفاوت‌ها	متوسط
	۳	الگویابی	متوسط

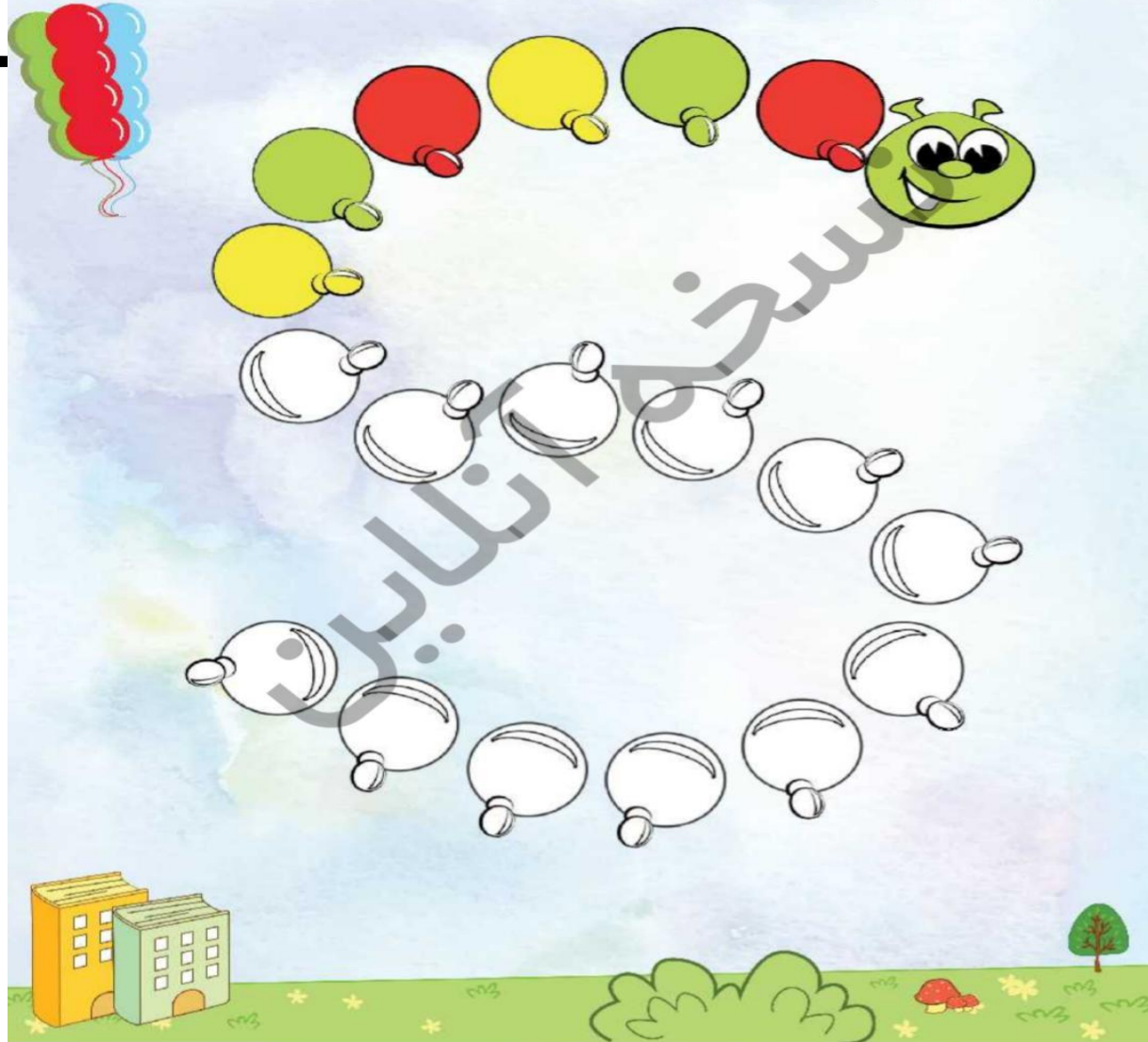
۱. درنا می‌خواهد جدول شگفت‌انگیز زیر را با شکل‌های هندسی کامل کند به او کمک کن تا جدول کامل شود.


۲. در هر ردیف شکلی را که با بقیه متفاوت است رنگ بزن.

۳. برنا با مقواهای گرد رنگی یک کرم درست کرد. او این کار را با یک الگوی مشخصی انجام داده است. آیا می‌دانی الگوی این کرم چیست؟ الگو را پیدا کن و مانند آن رنگ بزن.



😊 دلبندم شکل‌ها را بشمار و تعداد آنها را در زیر هر شکل بنویس.

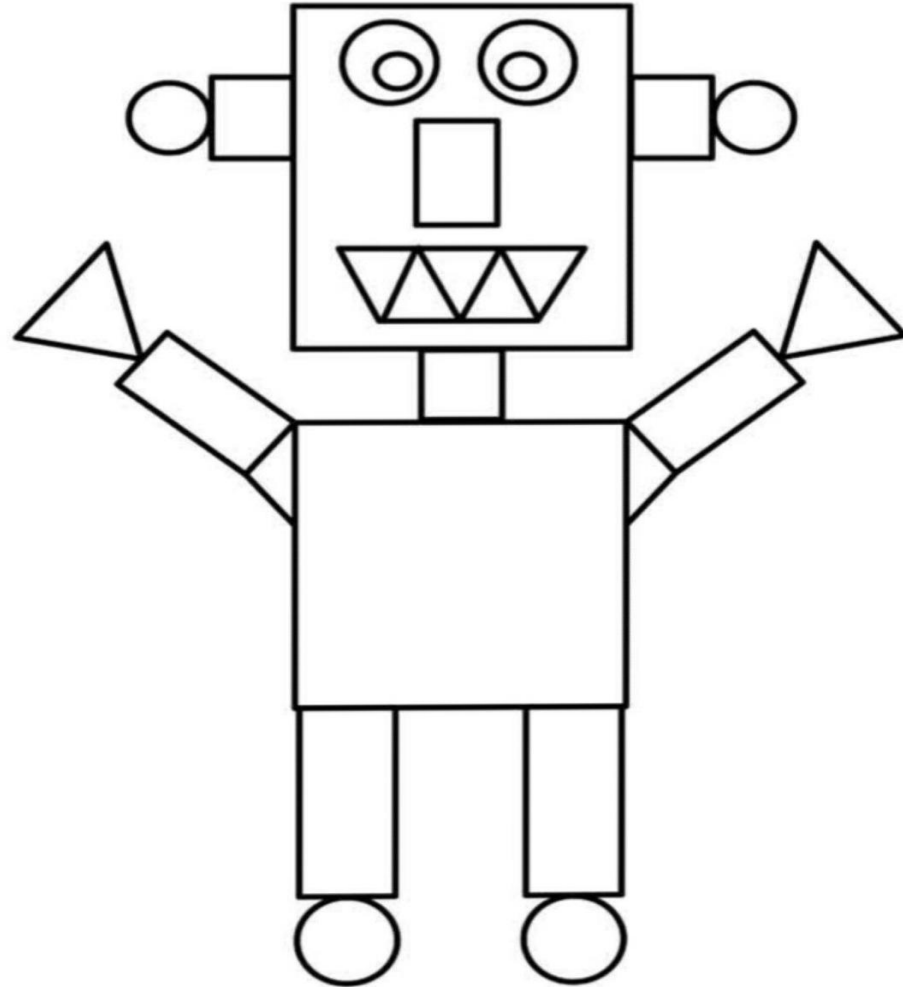


—

—

—

—



شکل‌هایی که به هم مربوط هستند را با خط به یکدیگر وصل کنید.



ای کاربری

بین دو شکل زیر تمّ اختلاف وجود دارد : آنها را پیدا کرده و دورشان کردی بکشید.



در هر قسمت تصویر بزرگتر را رنگ بزن.

