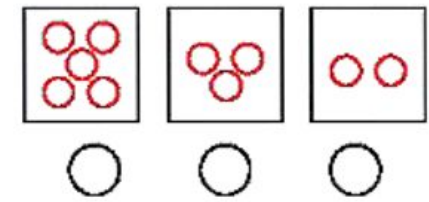
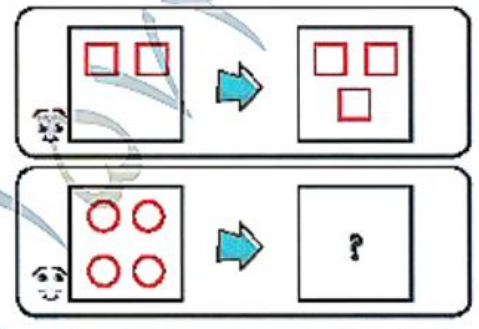

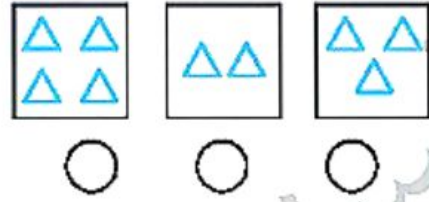
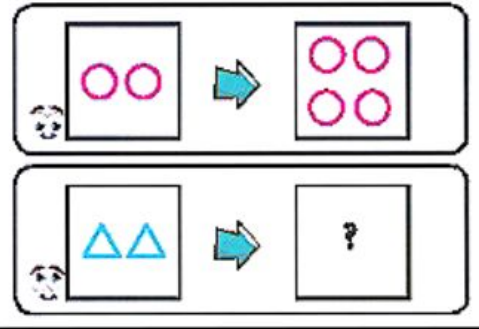
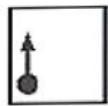



درنا در کتابش ۲ جدول دوقلو پیدا کرده است. به او کمک کن تا جای خالی جدولش را با شکل صحیح کامل کند.


دایره‌ی زیر شکل صحیح را رنگ کن.



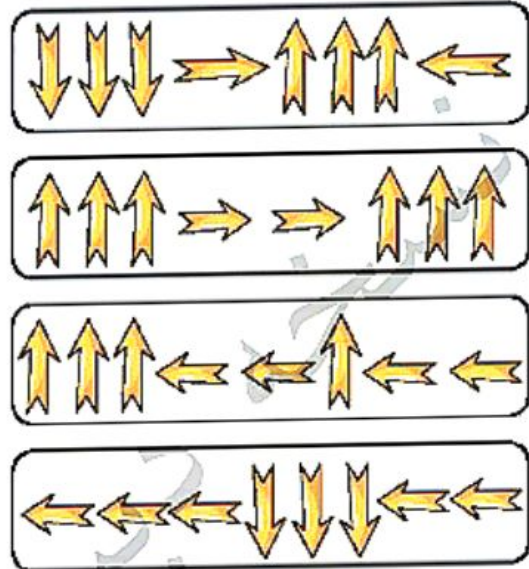

به نظر شما در جای خالی چه شکلی باید قرار بگیرد؟ برجسب آن را از انتهای کتاب جدا کن و در جای خود بچسبان.



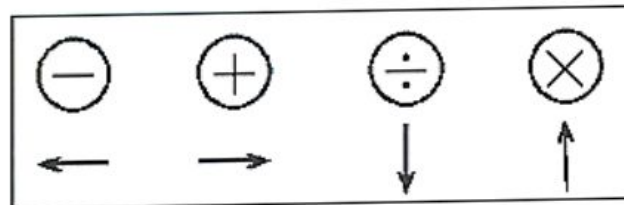
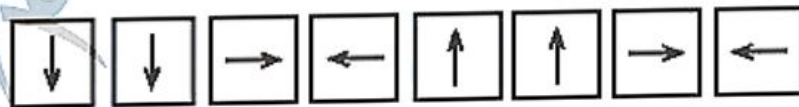
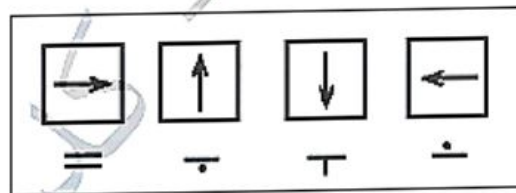
به درنا کمک کن سر آشپز را به پیцца برساند.



❓ لاک‌پشت کوچولو از چه جهت‌هایی شنا کند تا بدون این‌که ماهیگیر و کوسه‌ها او را شکار کنند به خشکی برسد؟ مسیر درست را علامت بزن.



❓ طبق الگو کامل کن.









هدف: تعویت هوش و تجسم فضایی و دید عمومی / تعویت هوش دیداری فضایی

کدام یک از چترهای داده شده، تصویر از روبه‌روی چتر داده شده است؟



جدول زیر را مانند الگوی داده شده کامل کن.

			
>	—●	●—	<

