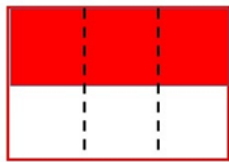
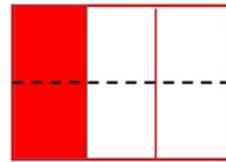




۱) در زیر هر یک از اشکال بنویس که چند قسمت از چند قسمت رنگ شده است؟



.....



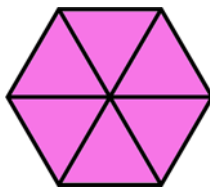
.....

۲) جاهای خالی را کامل کنید.

عدد ۷۳ را می توان به صورت ده تایی و قسمت از ۱۰ قسمت بیان کرد.

عدد ۲۸ را می توان به صورت ده تایی و قسمت از ۱۰ قسمت بیان کرد

۳) در زیر هر یک از اشکال بنویس که چند قسمت از چند قسمت رنگ نشده است؟



.....




.....

۴) با توجه به سوال در هر ردیف شکل را رنگ کنید.



→ دو قسمت از شش قسمت مساوی



→ یک قسمت از چهار قسمت مساوی