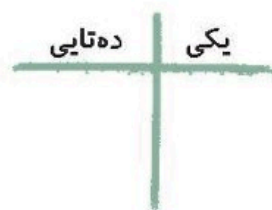
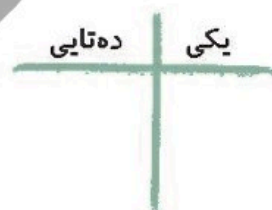
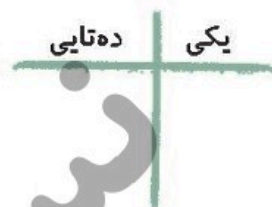
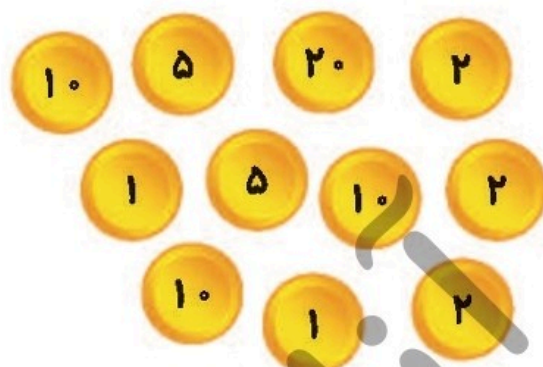


زمان	شماره پرسش	موضوع اصلی	موضوع‌های دیگر	نشانی پرسش	سطح پرسش
نیم‌سال یکم	۱	عددنویسی			متوسط
	۲	حلمسئله (راهبرد رسم شکل)			متوسط
هفته‌ی ۲	۳	جمع ذهنی		دبستان‌های ایتالیا	ساده
	۴	الگویابی		کانگورو ۲۰۱۳	دشوار

۱. با توجه به شکل جدول‌ها را کامل کن.



۲. پدر درنا روزانه ۴ بار از مترو و ۳ بار از اتوبوس استفاده می‌کند. به کمک رسم شکل به سوالات زیر پاسخ بده.

(الف) او در ۳ روز چند بار مترو سوار می‌شود؟

(ب) او در ۵ روز چند بار اتوبوس سوار می‌شود؟

(پ) او در ۲ روز روی هم چند بار سوار مترو و اتوبوس می‌شود؟

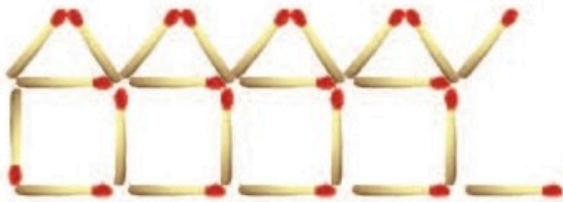




۳. در نقشه‌ی زیر بین هر دو خانه یک مسیر وجود دارد. عددهای هر مسیر را به صورت ذهنی با هم جمع بزن و کمترین و بیش‌ترین آن‌ها را پیدا کن.



۴. برنا با چوب کبریت ۱۰ خانه در یک ردیف ساخته است (در شکل، چند تا از خانه‌ها را می‌بینید). او برای ساختن ۱۰ خانه چند چوب کبریت استفاده کرده است؟



۵۵ (پ)

۵۱ (ب)

۵۰ (الف)

۶۲ (ث)

۶۰ (ت)

