



به نام خدا

ریاضی و هوش دوم دبستان

آموزگار : طیبه ریاضی



۲. پدر درنا روزانه ۴ بار از مترو و ۳ بار از اتوبوس استفاده می کند. به کمک رسم شکل به سوالات زیر پاسخ بده.


الف) او در ۳ روز چند بار مترو سوار می شود؟

ب) او در ۵ روز چند بار اتوبوس سوار می شود؟

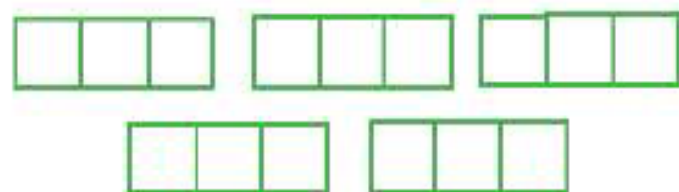
پ) او در ۲ روز روی هم چند بار سوار مترو و اتوبوس می شود؟



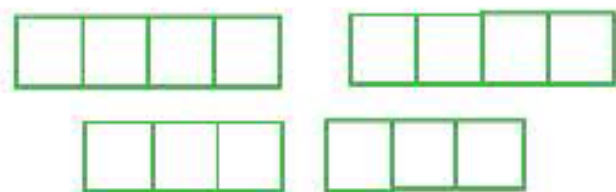
۲. پدر درنا روزانه ۴ بار از مترو و ۳ بار از اتوبوس استفاده می کند. به کمک رسم شکل به سوالات زیر پاسخ بده.



الف) او در ۳ روز چند بار مترو سوار می شود؟ $۴+۴+۴=۱۲$



ب) او در ۵ روز چند بار اتوبوس سوار می شود؟ $۳+۳+۳+۳+۳=۱۵$



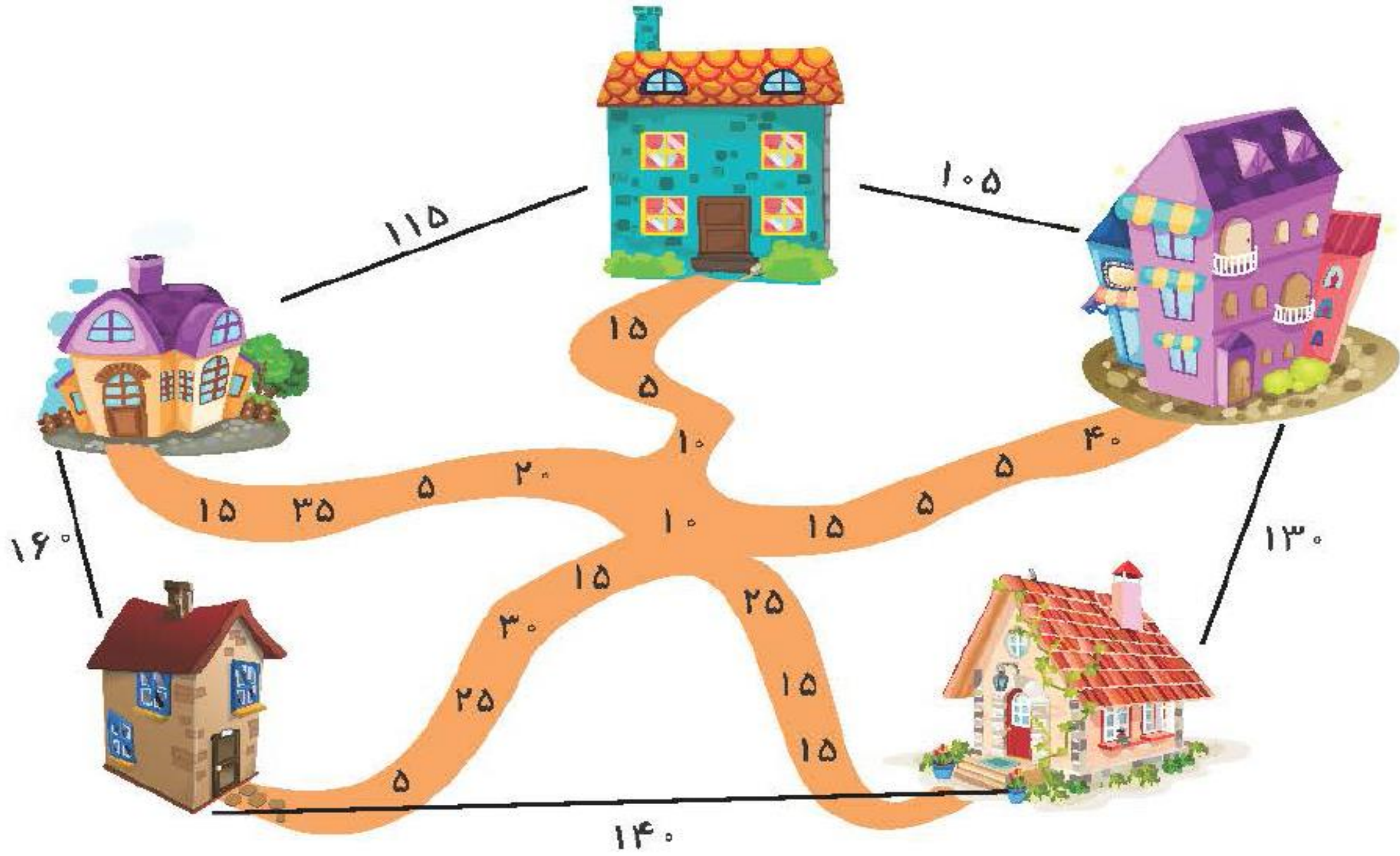
پ) او در ۲ روز روی هم چند بار سوار مترو و اتوبوس می شود؟ $۴+۳+۴+۳=۱۴$



۳. در نقشه‌ی زیر بین هر دو خانه یک مسیر وجود دارد. عددهای هر مسیر را به صورت ذهنی با هم جمع بزن و کمترین

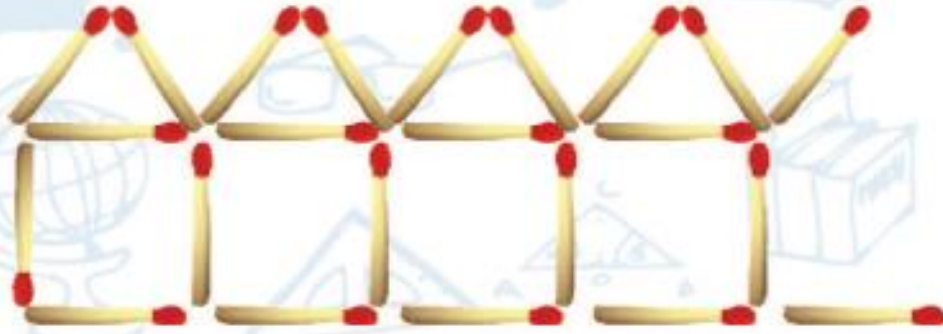
و بیشترین آنها را پیدا کن.





۴. برنا با چوب کبریت ۱ خانه در یک ردیف ساخته است (در شکل، چند تا از خانه‌ها را می‌بینید). او برای ساختن ۱

خانه چند چوب کبریت استفاده کرده است؟



پ) ۵۵

ب) ۵۱

الف) ۵۰


ث) ۶۲

ت) ۶۰



۴. برنا با چوب کبریت ۱۰ خانه در یک ردیف ساخته است (در شکل، چند تا از خانه‌ها را می‌بینید). او برای ساختن ۱۰

خانه چند چوب کبریت استفاده کرده است؟



پ) ۵۵

ب) ۵۱ ✓

الف) ۵۰

ث) ۶۲

ت) ۶۰

تعداد خانه‌ها	۱	۲	۳	۴	۵	۶	۷	۸	۹	۱۰
تعداد چوب کبریت‌ها	۶	۱۱	۱۶	۲۱	۲۶	۳۱	۳۶	۴۱	۴۶	۵۱



ای خالی را با عدد مناسب پر کن.

$$۱۰ + ۲۰ + ۳۰ + ۴۰ + ۹ = \bigcirc + ۴۹ + ۵۰$$

$$۵ + ۱۰ + ۵۰ = ۶۰ + \bigcirc$$

$$۵ + ۲۰ + ۱۵ + \bigcirc = ۳۵ + ۴۵$$

۲. جاهای خالی را با عدد مناسب پر کن.

$$۱۰ + ۲۰ + ۳۰ + ۴۰ + ۹ = \bigcirc + ۴۹ + ۵۰$$

$$۵ + ۱۰ + ۵۰ = ۶۰ + \bigcirc$$

$$۵ + ۲۰ + ۱۵ + \bigcirc = ۳۵ + ۴۵$$