




ریاضی و هوش دوم دبستان

آموزگار: طیبہ ریاضی



۱. الف) مانند نمونه برای جدول سمت چپ شکل رسم کرده و پس از تبدیل آن به دسته‌های ده تایی، جدول سمت راست را کامل کن.

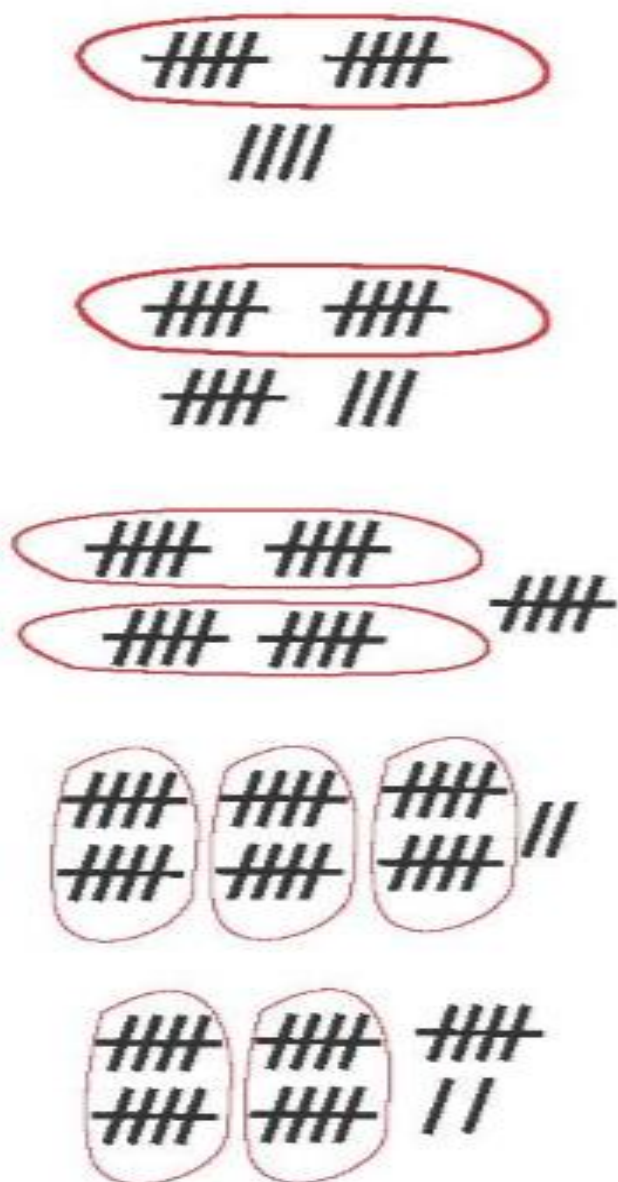
پنج تایی	یکی
۲	۴
پنج تایی	یکی
۳	۳
پنج تایی	یکی
۵	۰
پنج تایی	یکی
۶	۲
پنج تایی	یکی
۵	۲



ده تایی	یکی
۱	۴
ده تایی	یکی
ده تایی	یکی
ده تایی	یکی
ده تایی	یکی

۱. الف) مانند نمونه برای جدول سمت چپ شکل رسم کرده و پس از تبدیل آن به دسته‌های ده تایی، جدول سمت راست را کامل کن.

پنج تایی	یکی
۲	۴
پنج تایی	یکی
۳	۳
پنج تایی	یکی
۵	۰
پنج تایی	یکی
۶	۲
پنج تایی	یکی
۵	۲



ده تایی	یکی
۱	۴
ده تایی	یکی
۱	۸
ده تایی	یکی
۲	۵
ده تایی	یکی
۳	۲
ده تایی	یکی
۲	۷

۲. درنا ۱۸ تا شکلات داشت. او می‌خواست به مادر و برادرش نیز شکلات بدهد. او به مادرش ۳ شکلات داد و دو برابر

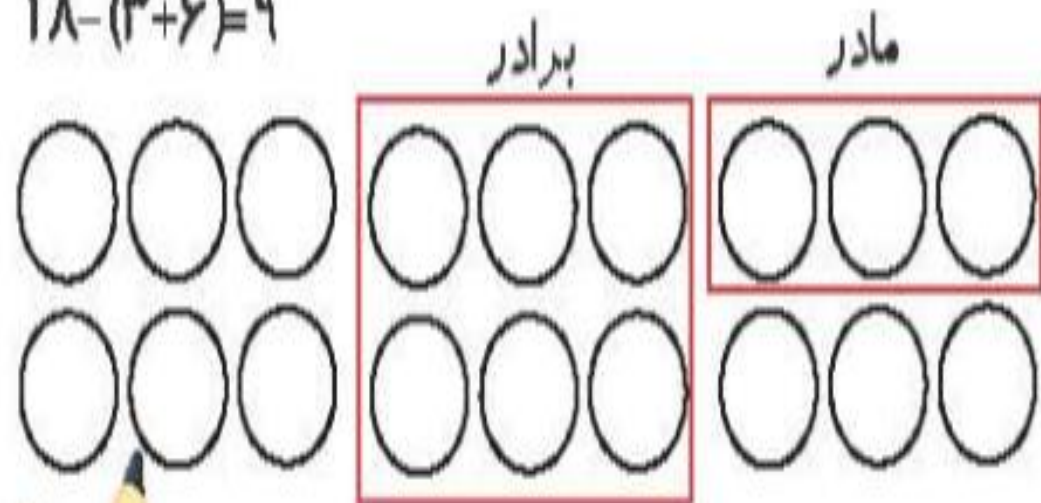
تعدادی که به مادرش داد را به برادرش داد. حالا او چند شکلات دارد؟ (به کمک رسم شکل)



۲. درنا ۱۸ تا شکلات داشت. او می‌خواست به مادر و برادرش نیز شکلات بدهد. او به مادرش ۳ شکلات داد و دو برابر

تعدادی که به مادرش داد را به برادرش داد. حالا او چند شکلات دارد؟ (به کمک رسم شکل)

$$18 - (3 + 6) = 9$$



۳. مهتاب، مهسا، ماندانا، مانا، مینا پنج شیرینی سفارش دادند. با توجه سلیقه‌ی آنها، نام هر یک را زیر شیرینی‌اش بنویس.

۱۵



★ مانا میوه خیلی دوست دارد.

★ شیرینی ماندانا در ردیف دوم چیده شده است.

★ مهتاب آجیل دوست ندارد. در ضمن کیک ساده هم سفارش نداده است.

★ شیرینی مهسا با آجیل تزئین نشده است.



۳. مهتاب، مهسا، ماندانا، مانا، مینا پنج شیرینی سفارش دادند. با توجه سلیقه‌ی آنها، نام هر یک را زیر شیرینی‌اش بنویس.



مینا



مهسا



مهتاب



مانا



ماندانا