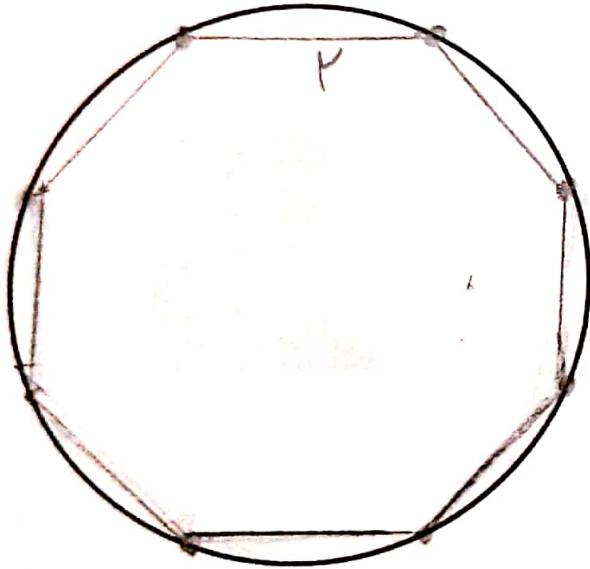
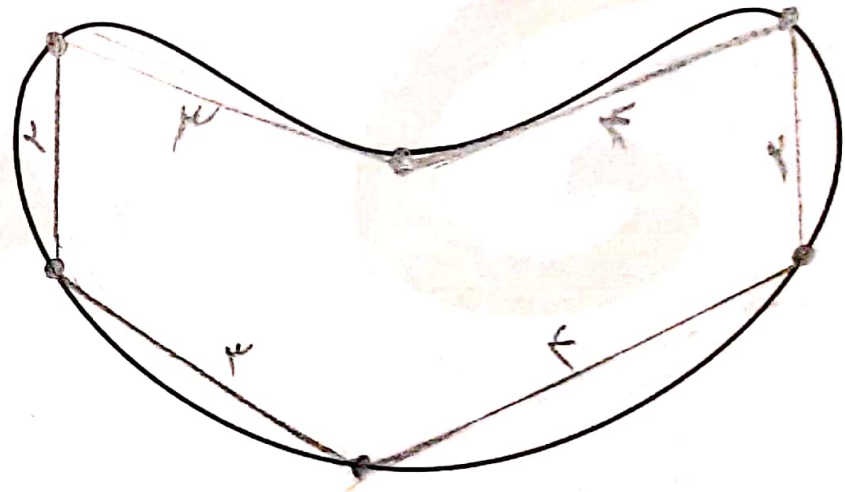


۳. با کشیدن چند ضلعی‌های دلخواه داخل شکل‌های زیر و اندازه‌گیری ضلع‌ها، محیط هر شکل را به صورت تقریبی پیدا کن.



محیط به صورت تقریبی  $= 8 \times 2 = 16$ .  
سانتی‌متر

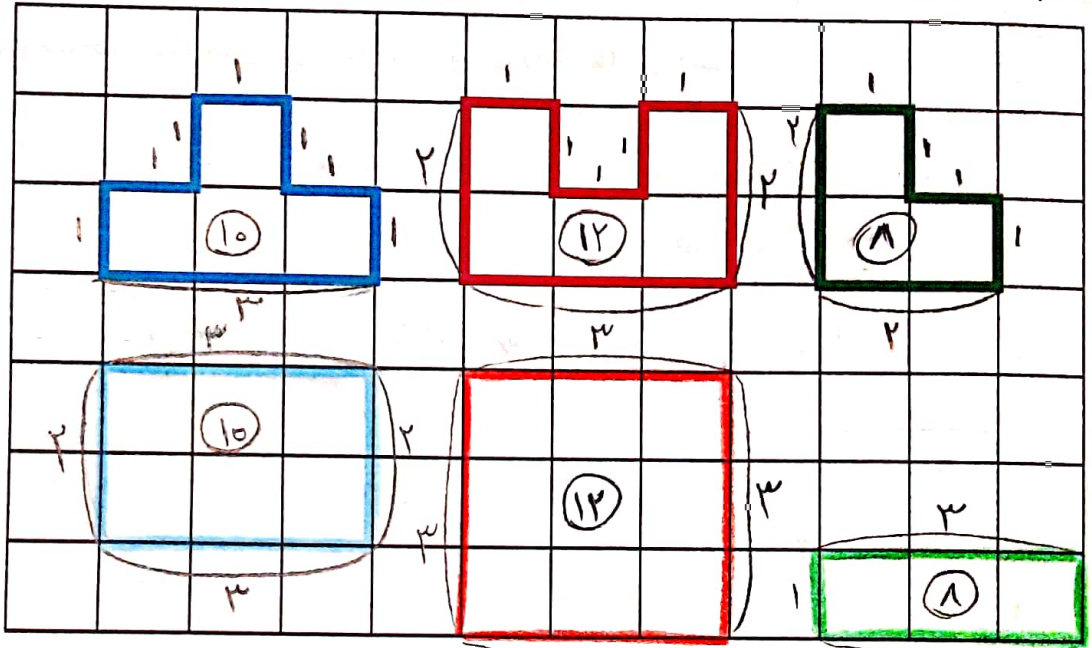


محیط به صورت تقریبی  $= 2 + 3 + 4 + 2 + 5 + 3 = 19$ .  
سانتی‌متر




۳. با مداد هم رنگ، برای هر شکل یک شکل دیگر بکش که شبیه به هم نباشند ولی محیطشان برابر باشد.


۴۵




۴. شکل‌های زیر را چهار جور دسته‌بندی کن و چهار ضرب بنویس.



..... $3 \times 6 = 18$ .....



..... $6 \times 3 = 18$ .....



..... $3 \times 9 = 18$ .....



..... $9 \times 2 = 18$ .....

