

به نام خدا
مرور ریاضی

« فصل ۱ »

علوی

آموزگار: مریم بهجتی



۱- الگوهای زیر را کامل کنید.

۴۰۰ ، ۴۸۰ ، ۵۶۰ ، _ ، _ ، _

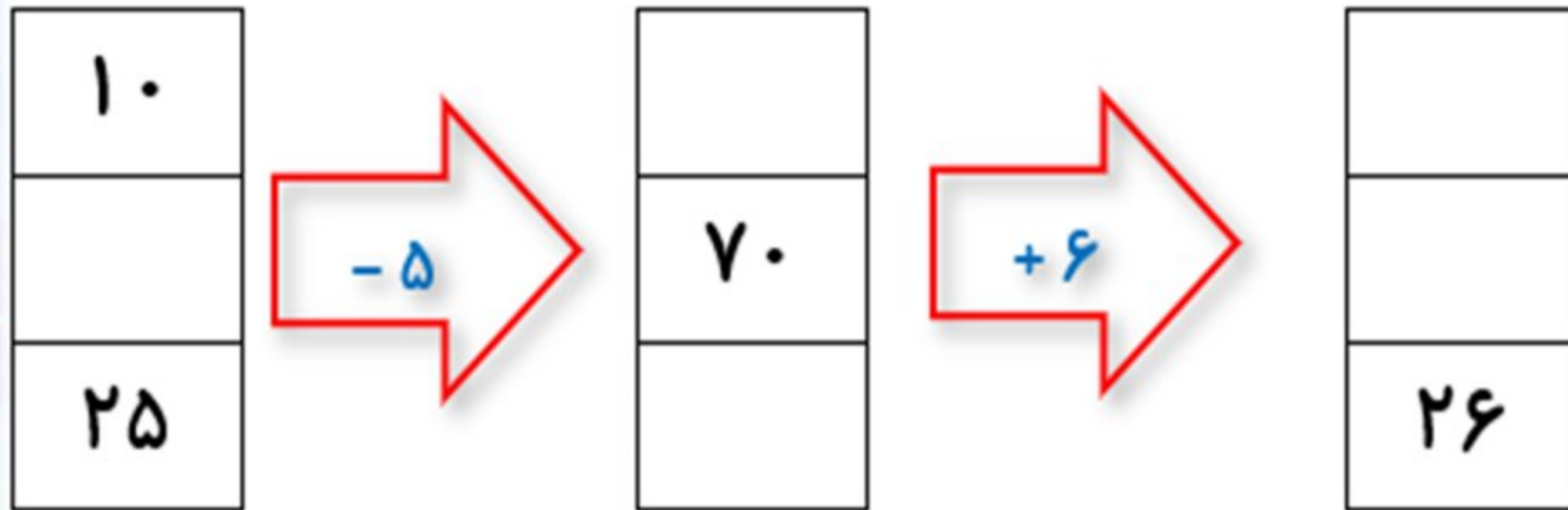
_ ، ۵۹ ، ۶۳

۱- الگوهای زیر را کامل کنید.

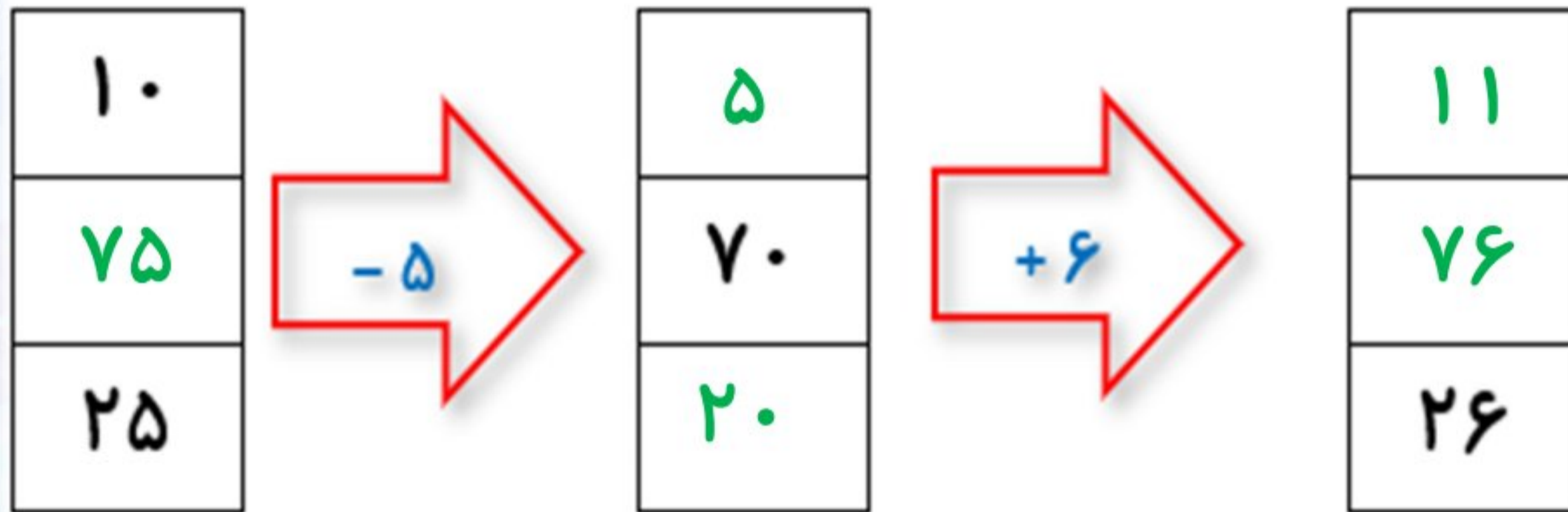
۴۰۰ ، ۴۸۰ ، ۵۶۰ ، ، ، ، ۸۰۰

 ، ، ، ۵۹ ، ۶۳

۲- جاهای خالی را با عددهای مناسب کامل کنید.



۲- جاهای خالی را با عددهای مناسب کامل کنید.



۳- در سینما ساعت شروع یک فیلم ۱۰ صبح و در ساعت ۱ بعدازظهر به پایان می‌رسد. نمایش این فیلم

چند ساعت طول کشیده است؟

۳- در سینما ساعت شروع یک فیلم ۱۰ صبح و در ساعت ۱ بعدازظهر به پایان می‌رسد. نمایش این فیلم

چند ساعت طول کشیده است؟

$$۱۳ - ۱۰ = ۳$$

۴- حاصل جمع های زیر را به روش های مختلف پیدا کنید.

$$۵ + ۴ + ۷ + ۳ + ۱۰ =$$

$$۲ + ۸ + ۵ + ۳ + ۵ =$$

۴- حاصل جمع های زیر را به روش های مختلف پیدا کنید.

$$5 + 4 + 7 + 3 + 10 = 29$$

$$2 + 8 + 5 + 3 + 5 = 23$$


۵- جدول زیر را کامل کنید.

زمان	۱۶		۲۳		۱۸
بعد از ظهر		۱۰ بعد از ظهر		۳ بعد از ظهر	

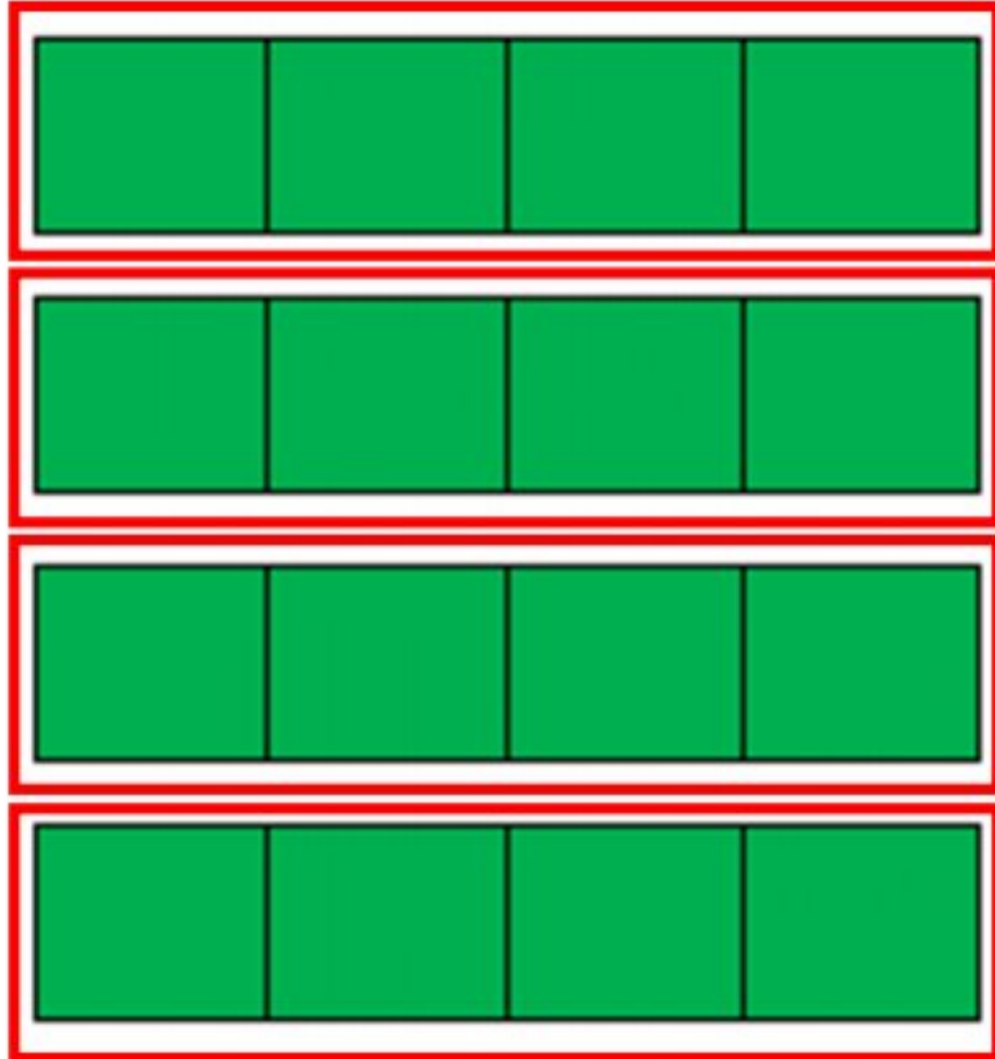
۵- جدول زیر را کامل کنید.

زمان	۱۶	۲۲	۲۳	۱۵	۱۸
بعد از ظهر	۴	۱۰ بعد از ظهر	۱۱	۳ بعد از ظهر	۶

۶- شکل های زیر را دسته بندی کنید و تعداد آنها را محاسبه کنید.



۶- شکل های زیر را دسته بندی کنید و تعداد آنها را محاسبه کنید.



$$۴ + ۴ + ۴ + ۴ = ۱۶$$