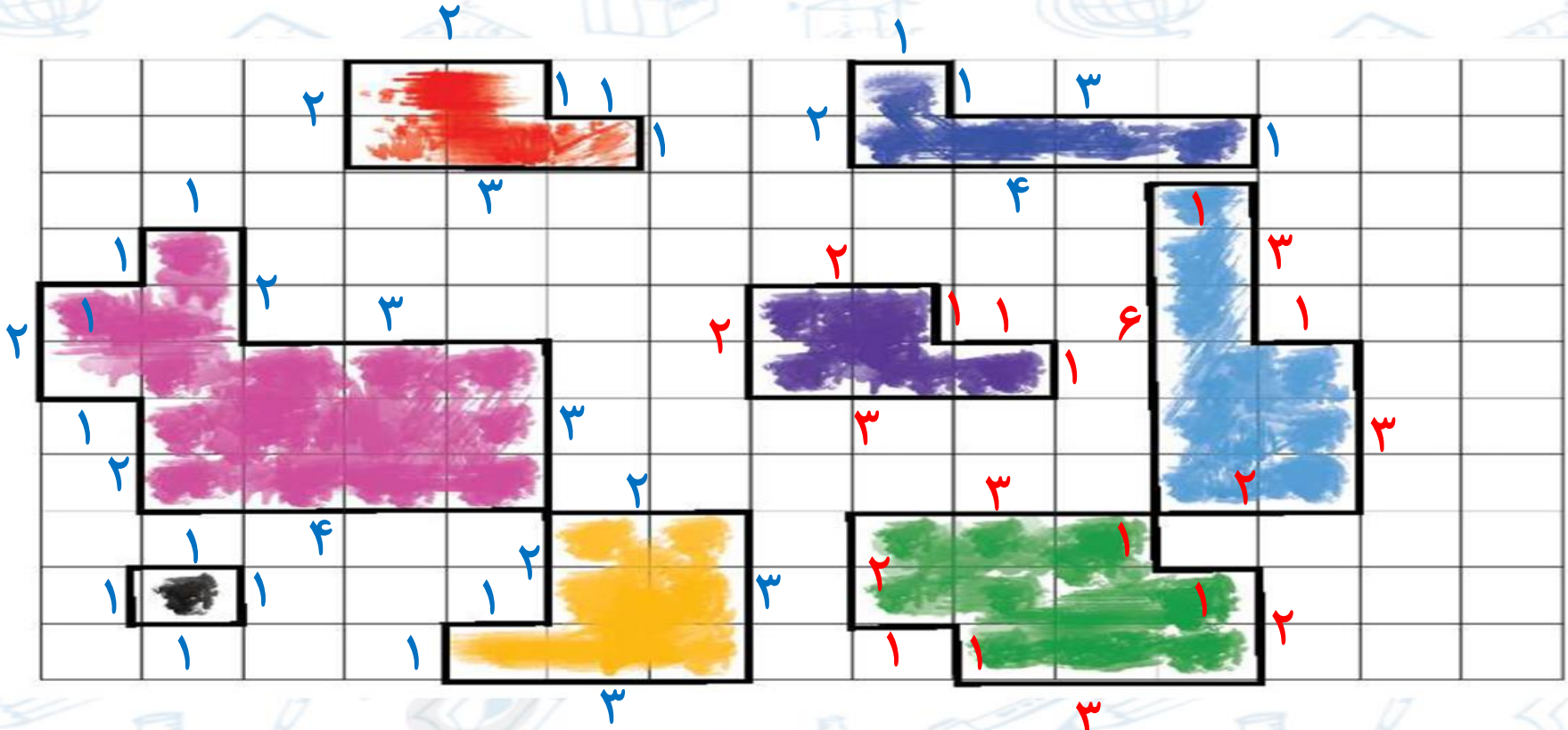


۴. مانند نمونه دور خانه‌های رنگی را مشخص کن، سپس به کمک شمارش، محیط هر بخش را پیدا کن و در جدول بنویس.

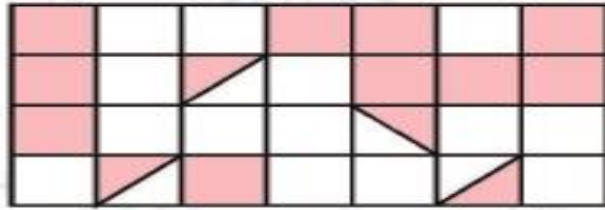
سفر



۱	۲۰	۱۰	۱۲	۱۶	۱۴	۱۲	۴
---	----	----	----	----	----	----	---



۱. با توجه به واحدهای مشخص شده، اندازه‌ی سطح‌های رنگی را بنویس.




واحد سطح =  = مساحت

۱۲ = مساحت

واحد سطح =  = مساحت


۲۴ = مساحت

واحد سطح =  = مساحت

۸ = مساحت


واحد سطح =  = مساحت

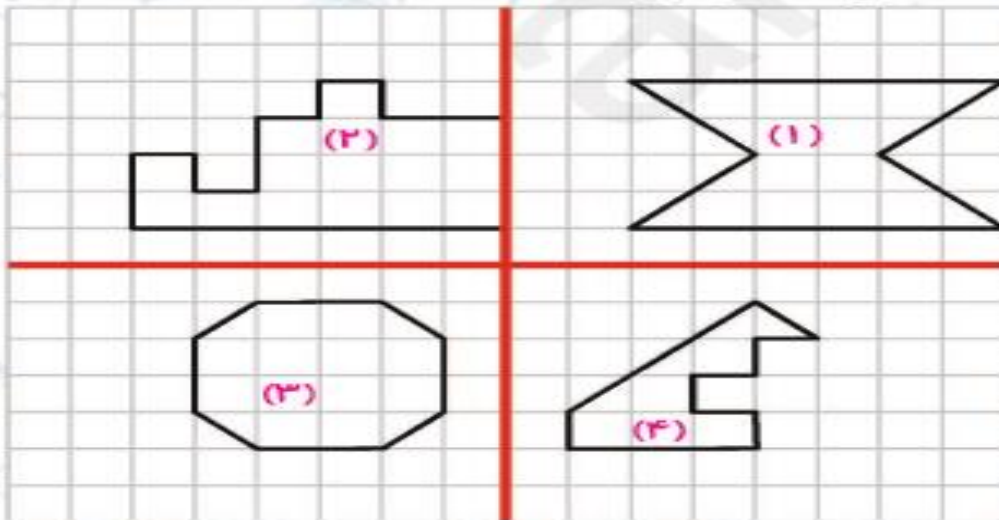
۸ = مساحت

واحد سطح =  = مساحت

۶ = مساحت



۲. مساحت شکل‌های ۱، ۲، ۳، ۴ را بر حسب واحد سطح  بنویس.



مساحت (۱): ۱۶

مساحت (۲): ۱۶

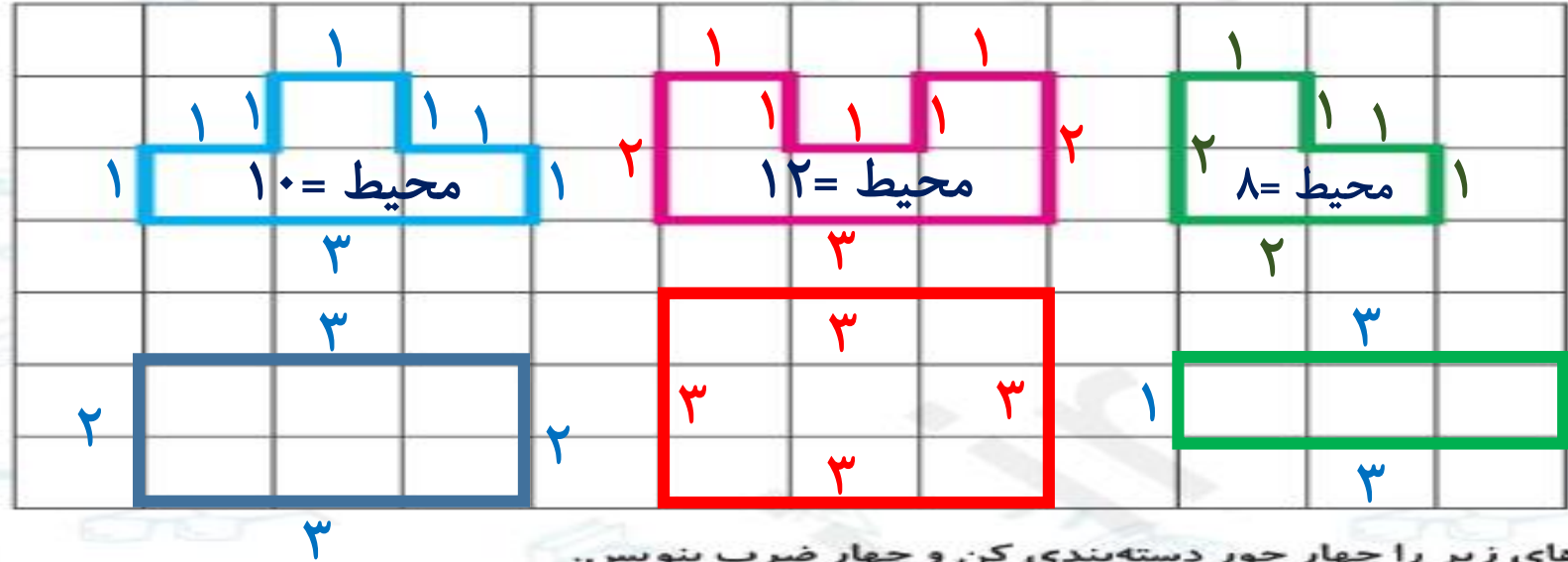
مساحت (۳): ۱۴

مساحت (۴): ۷



۳. با مداد همرنگ، برای هر شکل یک شکل دیگر بکش که شبیه به هم نباشند ولی محیطشان برابر باشد.


۴۵



۴. شکل‌های زیر را چهار جور دسته‌بندی کن و چهار ضرب بنویس.




$$3 \times 6 = 18$$



$$6 \times 3 = 18$$



$$2 \times 9 = 18$$



$$9 \times 2 = 18$$

