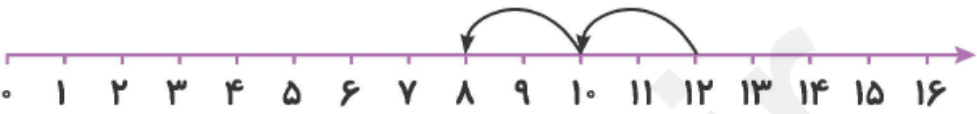

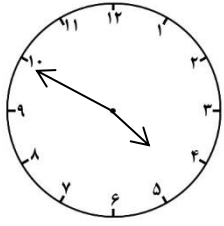
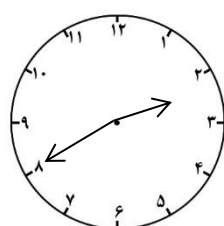


بازخورد معلم	سوالات	ردیف
	<p>الگو را روی محورهای زیر ادامه بده.</p> <p>الف) </p> <p>ب) </p>	۱
	<p>حاصل جمع و تفریق های زیر را به صورت تقریبی بدست آورید.</p> <p>۹۳ ⇒ ۲۴ ⇒</p> <p>-۷۶ ⇒ +۳۵ ⇒</p>	۲
	<p>ساعت چند است؟</p> <div style="display: flex; justify-content: space-around;"> <div data-bbox="406 1310 630 1534">  <p>ساعت و دقیقه</p> <p>..... :</p> <p><input type="text"/> دقیقه مانده به ساعت</p> </div> <div data-bbox="933 1310 1157 1534">  <p>ساعت و دقیقه</p> <p>..... :</p> <p><input type="text"/> دقیقه مانده به ساعت</p> </div> </div>	۳
	<p>دو شکل زیر را با هم مقایسه کنید.</p> <p>* شباهت:</p> <p>* تفاوت:</p> <div style="display: flex; justify-content: space-around; margin-top: 20px;"> <div style="border: 1px solid black; width: 40px; height: 40px; display: flex; align-items: center; justify-content: center;">۲</div> <div style="border: 1px solid black; width: 120px; height: 40px; display: flex; align-items: center; justify-content: center;">۱</div> </div>	۴

تقریب بزیند و جدول زیر را کامل کن.

تقریب زدن با حذف رقم یکان	تقریب زدن با حذف رقم یکان و دهگان
۱۵۲ →	۵۶۳ →
۴۳۱ →	۹۷۵ →
۶۳۳ →	۵۰۷ →
۸۰۹ →	۸۲۰ →

۵

در داخل کیسه ای ۷ مهره سفید و ۹ مهره نارنجی انداختیم . اگر از داخل کیسه بدون نگاه کردن، یک مهره بیرون بیاوریم، شانس کدام رنگ بیشتر است؟ چرا؟

۶

با سه کارت که روی آنها ۱ ، ۳ و ۸ نوشته شده است ، تمام عددهای سه رقمی را که می توان درست کرد را بنویسید. کوچکترین و بزرگترین عدد را مشخص کن.

۷

به جای عدد مناسب قرار دهید.

$$۳۶ + \square = ۸۸$$

۸

اعداد زوج را رنگ قرمز و اعداد فرد را رنگ آبی کنید.

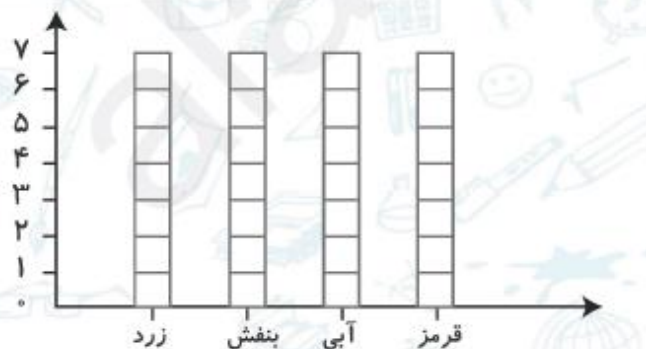


۹

	<p>با خط کش ، خطی به طول ۷ سانتی متر و ۵ میلی متر رسم کنید.</p> <p>* ۹ سانتی متر میلی متر است.</p> <p>* ۸۰ میلی متر سانتی متر است.</p> <p>* ۲۴۸ میلی متر سانتی متر و میلی متر است.</p>	۱۰
	<p>علامت <=> بگذار.</p> <p>۲۶۷ □ ۱۳۵ ۴۶۱ □ ۴۶۸ ۳۰۰ □ ۹۰۰</p> <p>۶۰۰ + ۴ + ۱۰۰ + ۳ + ۲۰۰ □ ۷۰۰ + ۴۰ + ۳</p>	۱۱
	<p>جمع و تفریق های زیر را به روش فرآیندی حل کنید.</p> $\begin{array}{r} 461 \\ + 328 \\ \hline \end{array}$ $\begin{array}{r} 664 \\ - 153 \\ \hline \end{array}$	۱۲
	<p>جمع و تفریق زیر را به روش تکنیکی یا انتقالی حل کنید.</p> $\begin{array}{r} 740 \\ - 463 \\ \hline \end{array}$ $\begin{array}{r} 155 \\ + 578 \\ \hline \end{array}$	۱۳
	<p>مربع روبرو را به ۴ قسمت مساوی، تقسیم کنید و ۳ قسمت آن را رنگ بزنید.</p> <p>* قسمت از قسمت مساوی، رنگ شده است.</p> <div style="border: 1px solid black; width: 100px; height: 100px; margin-left: 20px;"></div>	۱۴

رنگ های جدول رو به رو، رنگ های مورد علاقه دانش آموزان کلاس دوم هستند. نمودار ستونی مربوط به جدول را رنگ و کامل کن، سپس به سوالات پاسخ بده.

رنگ	زرد	بنفش	آبی	قرمز
تعداد (نفر)	۵	۲	۷	۳
چوبخط				



موفق باشید دانشمندان کوچک