

ق
ا
ب



۱۰۰

عددهای سه رقمی



به نام خداوند بخشنده و مهربان

فصل سوم عددهای سه رقمی


آموزگار: خانم خاکسار

دبستان و پیش دبستان علوی

صفحه ی ۶۴



عددهای سه رقمی تقریبی

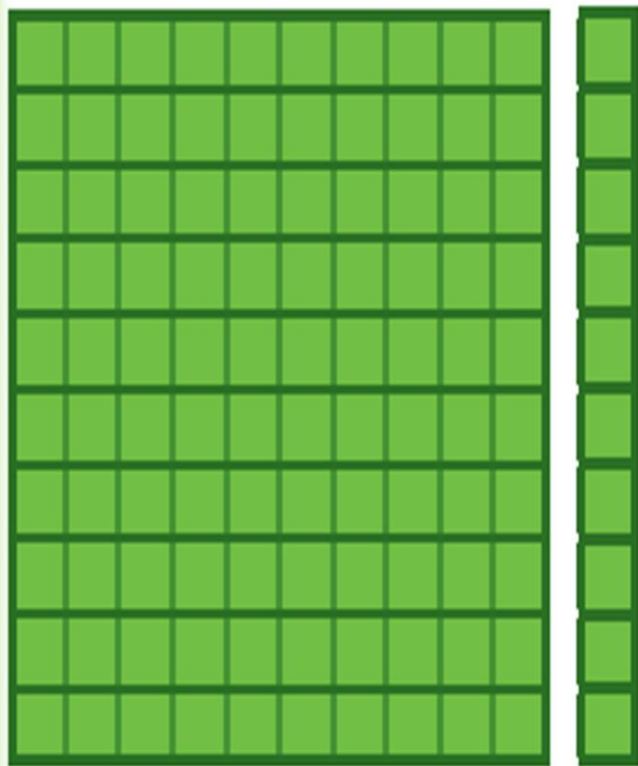


صدگان	دهگان	یکان

۱- عددی را که شکل روبه‌رو نشان می‌دهد،
در جدول ارزش مکانی نشان دهید
و آن را از جدول خارج کنید.



عددهای سه رقمی تقریبی



صدگان	دهگان	یکان
۱	۱	۰

۱- عددی را که شکل روبه‌رو نشان می‌دهد،
در جدول ارزش مکانی نشان دهید
و آن را از جدول خارج کنید.

صد و ده ۱۱۰



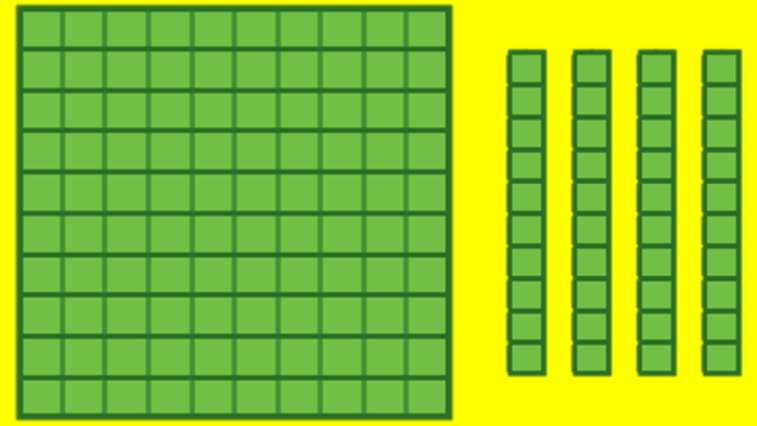
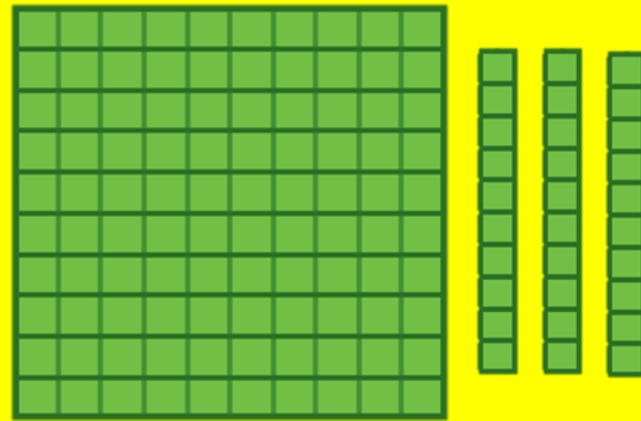
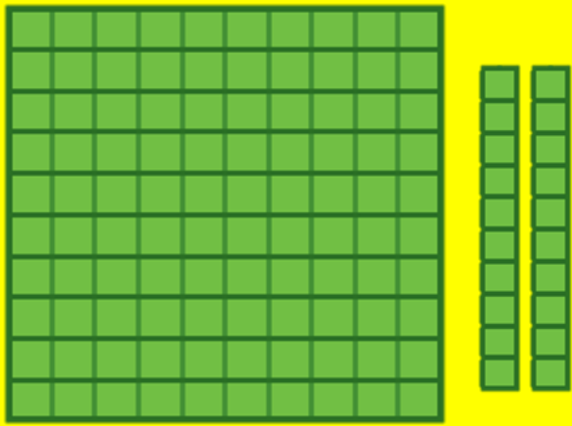
فعالیت

هر بار یک دسته‌ی ده‌تایی اضافه کنید و جدول‌های بعدی را کامل کنید.

ص	د	ی

ص	د	ی

ص	د	ی



هر بار یک دسته‌ی ده‌تایی اضافه کنید و جدول‌های بعدی را کامل کنید.

فعالیت

ص	د	ی
۱	۲	۰

۱۲۰

ص	د	ی
۱	۳	۰


۱۳۰

ص	د	ی
۱	۴	۰

۱۴۰

حالا به همین ترتیب، بدون جدول ارزش مکانی و با اضافه کردن دسته‌های ده‌تایی

الگوی عددی را ادامه دهید.



حالا به همین ترتیب، بدون جدول ارزش مکانی و با اضافه کردن دسته‌های ده‌تایی

الگوی عددی را ادامه دهید.

۱۳۰ ۱۴۰ ۱۵۰ ۱۶۰ ۱۷۰ ۱۸۰ ۱۹۰ ۲۰۰ ۲۱۰

۲- عددی را که چرتکه نشان می‌دهد، در جدول بنویسید و از آن خارج کنید.



ص	د	ی


.....

۲- عددی را که چرتکه نشان می‌دهد، در جدول بنویسید و از آن خارج کنید.



ص	د	ی
۱	۰	۰

صد ۱۰۰




حالا با اضافه کردن مهره‌ی صدتایی در چرتکه، جدول‌های ارزش مکانی بعدی را کامل کنید.

ص	د	ی

ص	د	ی

ص	د	ی



حالا با اضافه کردن مهره‌ی صدتایی در چرتکه، جدول‌های ارزش مکانی بعدی را کامل کنید.

ص	د	ی
۲	♦	♦

ص	د	ی
۳	♦	♦

ص	د	ی
۴	♦	♦

حالا بدون جدول ارزش مکانی به همین ترتیب با اضافه کردن مهره‌های ۱۰۰ تایی
الگوی عددی را ادامه دهید.

۲۰۰ ۳۰۰ _____

روی محور اعداد زیر، عددهای ۳۰۰ و ۷۰۰ و ۹۰۰ را نشان دهید.



حالا بدون جدول ارزش مکانی به همین ترتیب با اضافه کردن مهره‌های ۱۰۰ تایی
الگوی عددی را ادامه دهید.

۲۰۰ ۳۰۰ ۴۰۰ ۵۰۰ ۶۰۰ ۷۰۰ ۸۰۰ ۹۰۰

روی محور اعداد زیر، عددهای ۳۰۰ و ۷۰۰ و ۹۰۰ را نشان دهید.

