

# مرور فصل

## فرهنگ نوشتن

در نمودار روبه‌رو به ترتیب چه اتفاقی می‌افتد؟ توضیح دهید.  
اگر دو عدد ۵۰۰ و ۶۰۰ خوانده شوند، عددی که نوشته می‌شود چیست؟

دو عدد را بخوان.

دو عدد را مقایسه کن.

عدد کوچک‌تر را از عدد بزرگ‌تر کم کن.

حاصل را بنویس.


ابتدا دو عدد را می‌خوانیم. یک‌صد و هشتاد را با سی و پنج را مقایسه می‌کنیم.

$$500 < 600$$

$$600 - 500 = 100$$

## تمرین

۱- قطار تهران - مشهد در ایستگاه تهران ۴۱۲ نفر را سوار کرد. در ایستگاه گرمسار ۲۱ نفر و در ایستگاه سبزوار هم ۷۸ نفر را سوار کرد. این قطار در این سه ایستگاه چند نفر را سوار کرده است؟



$$\begin{array}{r} 412 \\ + 21 \\ + 78 \\ \hline 511 \end{array}$$

در این ۳ ایستگاه ۵۱۱ نفر سوار شده‌اند.

مشهد	سبزوار	گرمسار	تهران
۷۸	۲۱	۲۱	۴۱۲

۲- در روز قدس، از دبستان آزادی فلسطین ۷۵۰ نفر، از دبستان اینار ۴۵۰ نفر و از دبستان شهید مطهری ۶۰۰ نفر دانش‌آموز در راه‌پیمایی شرکت کردند. از این سه مدرسه روی هم چند نفر در این راه‌پیمایی شرکت کرده‌اند؟



$$\begin{array}{r} 750 \\ + 600 \\ + 450 \\ \hline 1800 \end{array}$$

در این راه‌پیمایی ۱۸۰۰ نفر شرکت کردند.




۲- کتابی که مینا از کتابخانه گرفته است، ۱۱۶ صفحه دارد. او هفتدی اول ۲۳۵ صفحه، هفتدی دوم ۴۷۱ صفحه و هفتدی سوم ۱۵۰ صفحه از آن را خوانده است.

$$\begin{array}{r} 235 \\ + 271 \\ + 150 \\ \hline 656 \end{array}$$

$$\begin{array}{r} 116 \\ - 656 \\ \hline 540 \end{array}$$

مینا چند صفحه از این کتاب را هنوز نخوانده است؟  
مینا ۱۱۶ صفحه از این کتاب را نخوانده است.

۴- حمیده خانم به میوه فروشی رفت. او از سه میوه سیب، گلابی و هلو هر کدام یک کیلوگرم خرید. با توجه به قیمت میوه‌ها



$$\begin{array}{r} 2750 \\ + 3100 \\ + 2700 \\ \hline 8550 \end{array}$$

حمیده خانم چقدر پول داده است؟  
حمیده خانم ۸۵۵۰ تومان پول داده است.


۵- در نقشه‌ی زیر فاصله‌ی شهرها به کیلومتر نوشته شده است. مسافری می‌خواهد از شهر کرمانشاه از مسیر تهران و ساری برای زیارت به مشهد مقدس برود. او چند کیلومتر راه را باید طی کند؟



$$\begin{array}{r} 525 \\ + 250 \\ \hline 775 \\ + 695 \\ \hline 1470 \text{ km} \end{array}$$

او ۱۴۷۰ کیلومتر راه را باید طی کند.

۶- پادگانی مستطیل شکل به طول ۵۵ متر و عرض ۱۵ متر داریم. می‌خواهیم دور این پادگان را سیم خاردار بکشیم. برای این کار به چند متر سیم خاردار نیاز داریم؟



$$150 \times 700 \times 2 = 210000$$