

سطح پرسش	انتهای پرسش	موضوع های دیگر	موضوع اصلی	نظمین و شمارش	۱	نیم سال یکم
متوسط	دستان های آلمان	دقت	تشخیص سایه	۲		
ساده						

۱۴۰۳ / ۷ / ۱۷

۱. با توجه به شکل زیر به پرسش ها پاسخ بده.

الف) بدون شمارش تعداد شکل های هر دسته را حدس بزن و توی دایره ی آبی بنویس.

ب) اعداد روبه رو و تعداد شکل ها در دسته های بالا هستند:

۱۷ - ۲۳ - ۳۰ - ۳۸ - ۴۵

از بین عددهای داده شده برای هر دسته عددی حدس بزن و در دایره ی زرد بنویس.

پ) اکنون دسته بندی کن، بشمار و در دایره ی قرمز بنویس.




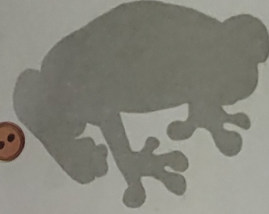

ت) حدس های اول و دوم چقدر با شمارش تو هماهنگ بود؟

تقریباً هماهنگ بود



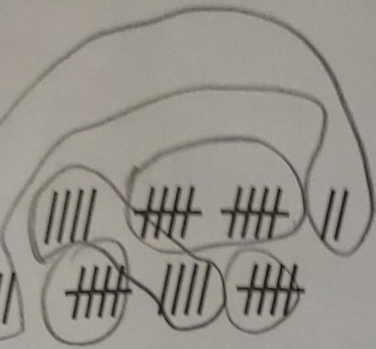


۱۴۰۳ / ۷ / ۱۷





موضوع اصلی	موضوع های دیگر	شماره پرسش	زمان
موضوع اصلی	موضوع های دیگر	۱	نیم سال یکم
موضوع اصلی	موضوع های دیگر	۲	نیم سال یکم
موضوع اصلی	موضوع های دیگر	۳	نیم سال یکم
موضوع اصلی	موضوع های دیگر	۴	نیم سال یکم





۱. با توجه به شکل جدول ها را کامل کن. ۱۴۰۳ / ۷ / ۱۷

ده تایی	یکی
۳	۳

ده تایی	یکی
۶	۸

ده تایی	یکی
۷	۷



۲. پدر درنا روزانه ۴ بار از مترو و ۳ بار از اتوبوس استفاده می کند. به کمک رسم شکل به سوالات زیر پاسخ بده.

الف) او در ۳ روز چند بار مترو سوار می شود؟ ۱۲ بار

ب) او در ۵ روز چند بار اتوبوس سوار می شود؟ ۵ بار

پ) او در ۲ روز روی هم چند بار سوار مترو و اتوبوس می شود؟ ۱۴ بار

