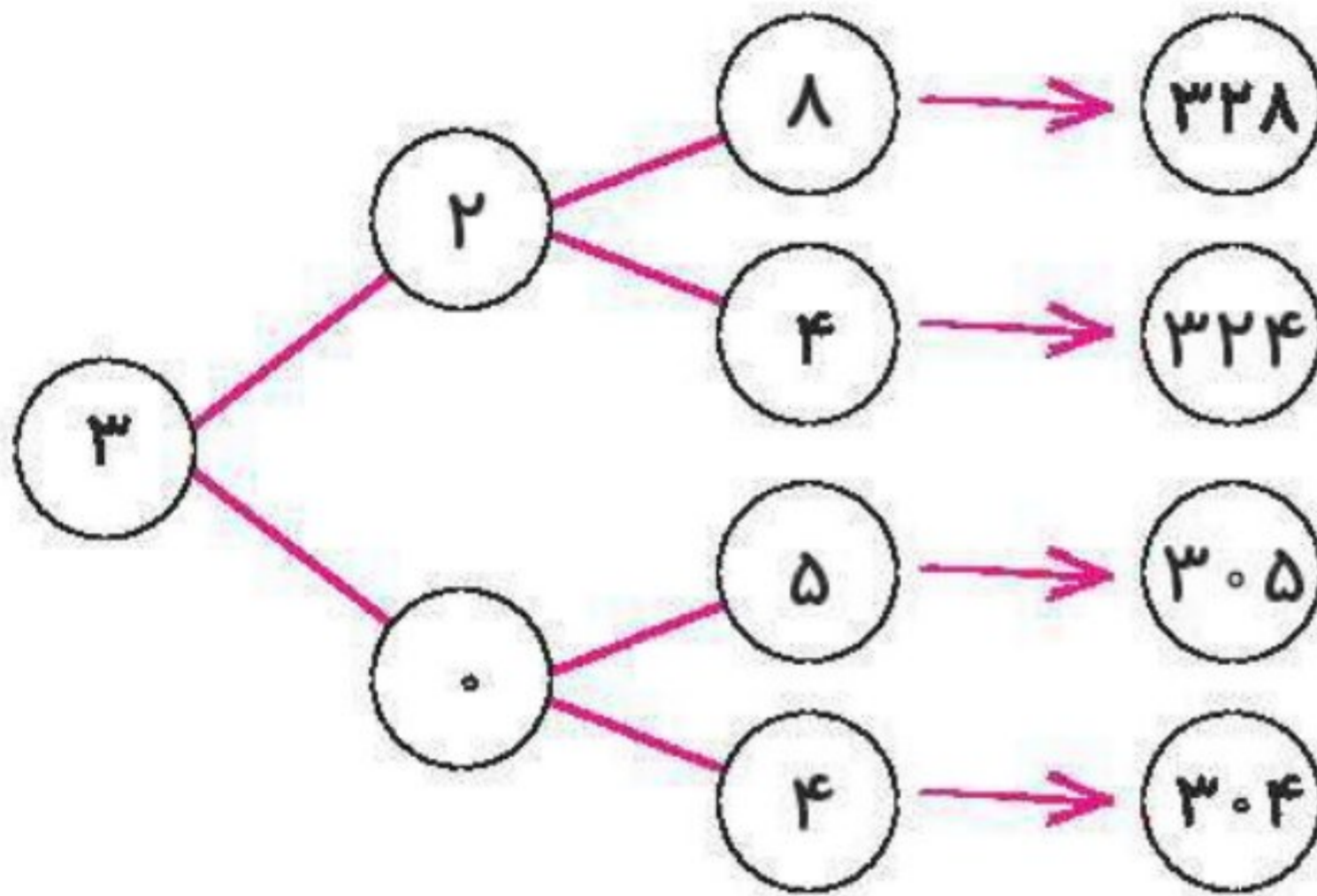


سطح پرسش	نشانی پرسش	موضوع‌های دیگر	موضوع اصلی	شماره پرسش	زمان
ساده		تخمین	راهبرد الگوسازی	۱	نیم‌سال یکم
دشوار			راهبرد الگوسازی	۲	
متوسط		دقت و تمرکز	الگوهای متقارن	۳	هفته‌ی ۵

۱. الف) نمودار درختی را کامل کن.



ب) چهار عدد آخر را به حرف بنویس.

سیصد و بیست و هشت، سیصد و بیست و چهار، سیصد و پنج، سیصد و چهار

پ) مجموع تقریبی هر چهار عدد را حدس بزن.

۱۲۰۰

ت) مجموع چهار عدد را محاسبه کن.

$$328 + 324 + 305 + 304 = 1261$$

۲. تعداد زیادی از سکه‌های زیر را داریم. به چند روش می‌توانیم ۱۵۰ ریال را درست کنیم؟

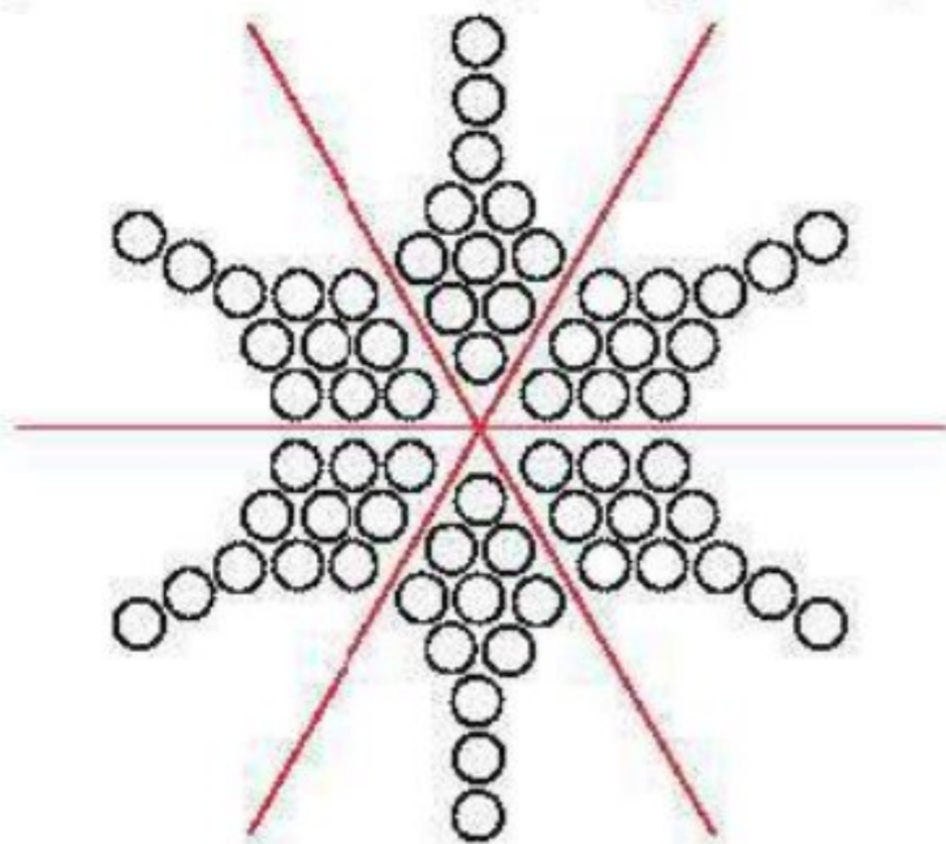




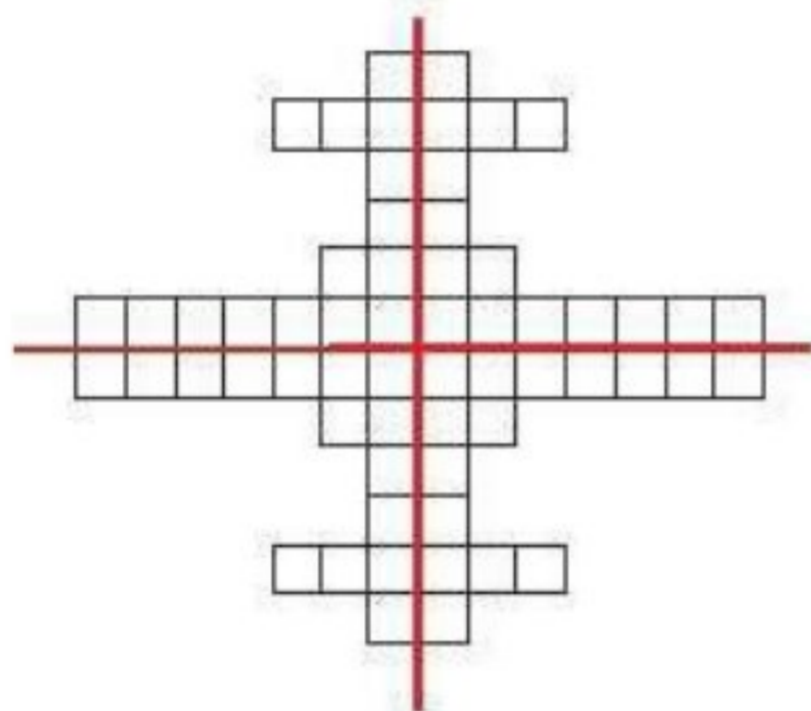


۳. مانند نمونه همه‌ی خط‌های تقارن شکل‌های زیر را بکش. سپس یک جمع بنویس و تعداد مهره‌ها را پیدا کن.

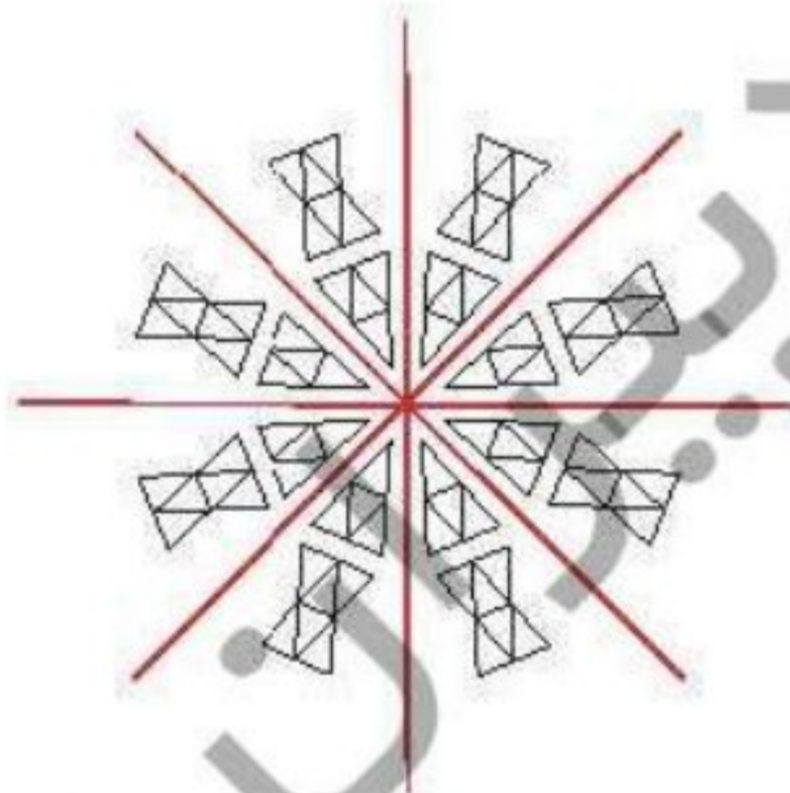
۱۷



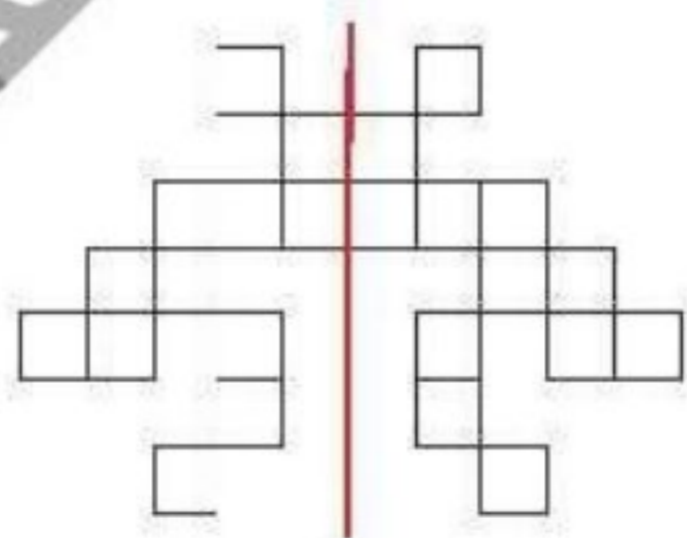
$$11 + 11 + 11 + 11 + 11 + 11 = 66$$



$$15 + 15 + 15 + 15 = 60$$



$$10 + 10 + 10 + 10 + 10 + 10 + 10 + 10 = 80$$



$$12 + 12 = 24$$

