

به نام خداوند بود و نبود

۲

چهار هوش

نسخه



موضوع	شماره سؤال
هوش ریاضی- ساخت اعداد	۱
هوش کلامی	۲
هوش فضایی	۳
سرعت، دقت، تمرکز	۴

هفته آموزشی

هفدهم

۱. یک عدد سه رقمی داریم که رقم یکان آن ۲ و رقم دهگان آن ۴ تا بزرگتر از یکان و رقم صدگان آن ۳ تا کوچکتر از دهگان آن است. این عدد را با رقم و حروف بنویس.

رقم:

حروف:

موضوع	شماره سؤال
هوش ریاضی- ساخت اعداد	۱
هوش کلامی	۲
هوش فضایی	۳
سرعت، دقت، تمرکز	۴

هفته آموزشی

هفدهم

۱. یک عدد سه رقمی داریم که رقم یکان آن ۲ و رقم دهگان آن ۴ تا بزرگتر از یکان و رقم صدگان آن ۳ تا کوچکتر از دهگان آن است. این عدد را با رقم و حروف بنویس.

۳۶۲

رقم:

حروف: سیصد و شصت و دو

صفحه ی ۳۸ کتاب چهار هوش

۲. دور کلمه‌هایی که مربوط به آینده است، خط بکش.

بهنام و پدر و مادرش برای یک سفر جذاب برنامه‌ریزی کردند. آن‌ها فردا با قطار به سمت رشت حرکت خواهند کرد. بعد از رسیدن به این شهر، از میدان زیبای شهرداری دیدن خواهند کرد. آن‌ها تصمیم گرفته‌اند که از غذاهای محلی این شهر بخورند و به رستوران بزرگ آن‌جا خواهند رفت. آن‌ها مطمئن هستند که در این سفر به آن‌ها بسیار خوش خواهد گذشت.



صفحه ی ۳۸ کتاب چهار هوش

۲. دور کلمه‌هایی که مربوط به آینده است، خط بکش.

بهنام و پدر و مادرش برای یک سفر جذاب برنامه‌ریزی کردند. آن‌ها فردا، قطار به سمت رشت حرکت خواهند کرد. بعد از رسیدن به این شهر، از میدان زیبای شهرداری دیدن خواهند کرد. آن‌ها تصمیم گرفته‌اند که از غذاهای محلی این شهر بخورند و به رستوران بزرگ آن‌جا خواهند رفت. آن‌ها مطمئن هستند که در این سفر به آن‌ها بسیار خوش خواهد گذشت.




صفحه ی ۳۹ کتاب چهار هوش

۳. یگانه در مسابقه‌ای شرکت کرد و در مرحله‌ی اول ۵۷۰ امتیاز به دست آورد و در مرحله‌ی دوم ۲۰ امتیاز

از دست داد و در مرحله‌ی سوم ۶۰ امتیاز دیگر به دست آورد. تعداد امتیازهای یگانه را روی چرتکه‌اش

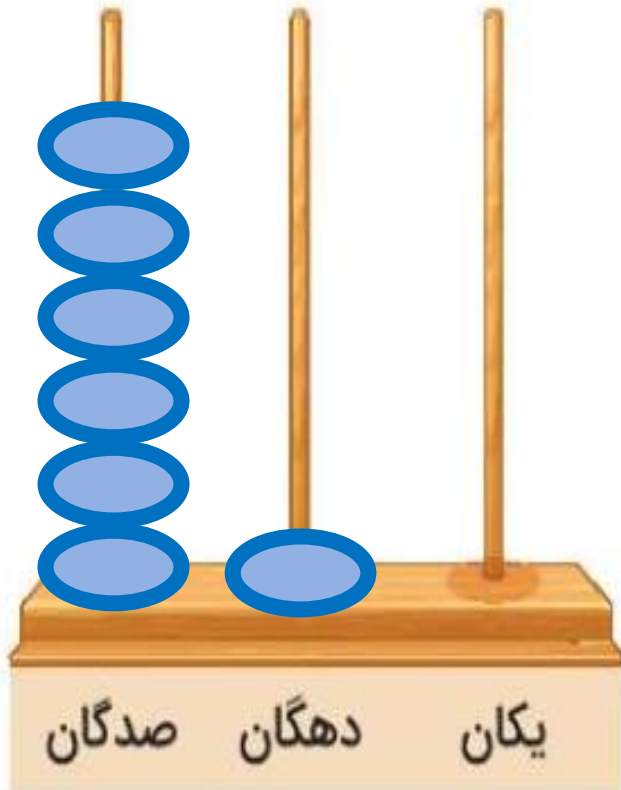
نشان بده.



نسخه

صفحه ی ۳۹ کتاب چهار هوش

۳. یگانه در مسابقه‌ای شرکت کرد و در مرحله‌ی اول ۵۷۰ امتیاز به دست آورد و در مرحله‌ی دوم ۲۰ امتیاز از دست داد و در مرحله‌ی سوم ۶۰ امتیاز دیگر به دست آورد. تعداد امتیازهای یگانه را روی چرتکه‌اش نشان بده.



$$۵۷۰ = ۵۰۰ + ۷۰$$

$$۵۰۰ + ۷۰ - ۲۰ + ۶۰ = ۶۱۰$$

نشان بده

۴. حاصل جمع اعداد کدام ماهی، با عدد روی قلاب ماهیگیری یکسان است؟

صفحه ی ۳۹ کتاب چهار هوش



۴. حاصل جمع اعداد کدام ماهی، با عدد روی قلاب ماهیگیری یکسان است؟

صفحه ی ۳۹ کتاب چهار هوش



موضوع	شماره سؤال
هوش ریاضی- اندازه گیری	۱
هوش فضایی	۲
هوش کلامی	۳
سرعت، دقت، تمرکز	۴

هفته آموزشی
هجدهم

۱. پاک کن خود را یک واحد اندازه گیری در نظر بگیر و نام آن را «دانه» بگذار. مداد مشکی و قرمز خود را با این واحد اندازه گیری کرده و جاهای خالی را پر کن.

مداد مشکی دانه است.

مداد قرمز دانه است.

موضوع	شماره سؤال
هوش ریاضی- اندازه گیری	۱
هوش فضایی	۲
هوش کلامی	۳
سرعت، دقت، تمرکز	۴

هفته آموزشی
هجدهم

۱. پاک کن خود را یک واحد اندازه گیری در نظر بگیر و نام آن را «دانه» بگذار. مداد مشکی و قرمز خود را با این واحد اندازه گیری کرده و جاهای خالی را پر کن.

مداد مشکی دانه است.

مداد قرمز دانه است.

حل این سوال با توجه به مداد و پاک کن انتخابی دانش آموز

۲. سعید، محمد و علی قد خود را اندازه گرفتند و متوجه شدند که سعید از علی کمی بلندتر و از محمد کمی کوتاهتر است. همچنین محمد از علی بلندتر است. حالا تو بگو:

◆ چه کسی از همه بلندتر است؟

◆ چه کسی از همه کوتاهتر است؟

◆ جاهای خالی را با نوشتن اسم بچه‌ها، کامل کن.



۲. سعید، محمد و علی قد خود را اندازه گرفتند و متوجه شدند که سعید از علی کمی بلندتر و از محمد کمی کوتاهتر است. همچنین محمد از علی بلندتر است. حالا تو بگو:

◆ چه کسی از همه بلندتر است؟ محمد

◆ چه کسی از همه کوتاهتر است؟ علی

◆ جاهای خالی را با نوشتن اسم بچه‌ها، کامل کن.



علی



محمد



سعید

۳. امروز درنا و برنا در مدرسه با وسایل مختلف، مدادهایشان را اندازه گرفتند و متوجه شدند برای این که به جواب دقیق تری در اندازه گیری برسند، بهتر است همه از یک وسیله ی یکسان استفاده کنند.

♦ در متن بالا چند بار نشانه ی «س» را دیدی؟

♦ در خط دوم چند بار نشانه ی «ن» را دیدی؟

♦ اختلاف تعداد این دو نشانه چقدر است؟

۳. امروز درنا و برنا در مدرسه با (سا) سال مختلف، مدادهایشان را اندازه گرفتند و متوجه شدند (برنا) برای این که به جواب دقیق تری در اندازه گیری برسد (سه) همه از یک وسیله ی یکسان استفاده کنند.

♦ در متن بالا چند بار نشانه ی «س» را دیدی؟

۷ بار

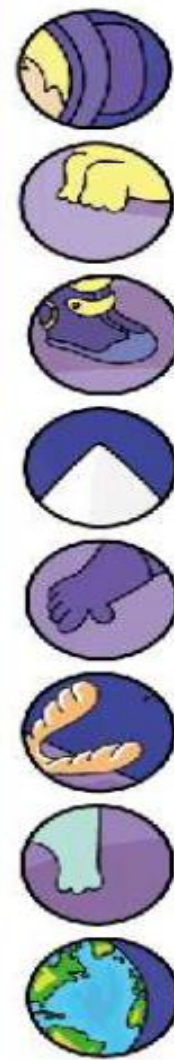

♦ در خط دوم چند بار نشانه ی «ن» را دیدی؟

۵ بار

♦ اختلاف تعداد این دو نشانه چقدر است؟

$$۱۲ - ۷ = ۵$$

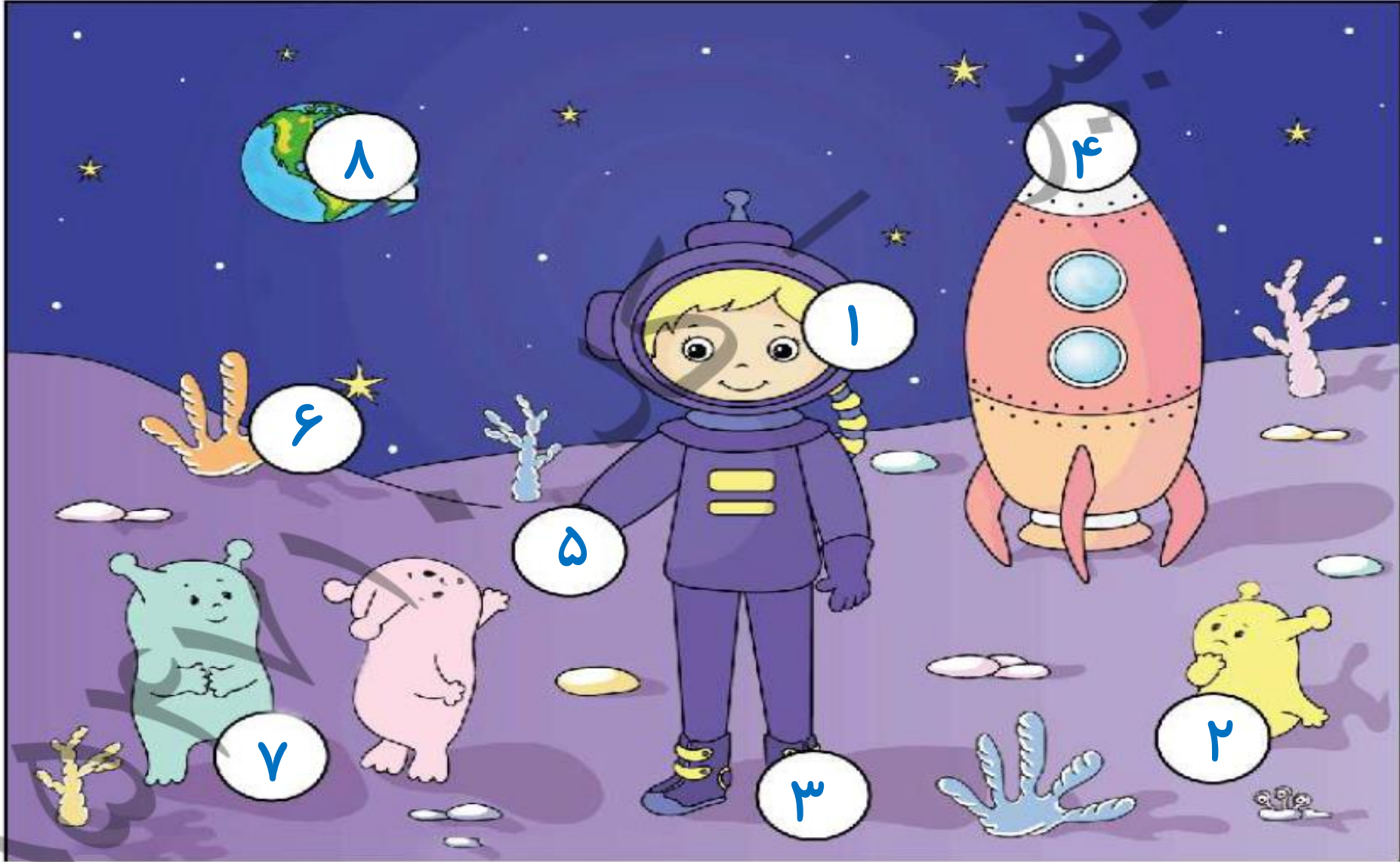
۴. هر قطعه در کدام جای خالی قرار می‌گیرد؟









صفحه ی ۴۱ کتاب چهار هوش

۴. هر قطعه در کدام جای خالی قرار می‌گیرد؟

صفحه ی ۴۱ کتاب چهار هوش



- ۱ 
- ۲ 
- ۳ 
- ۴ 
- ۵ 
- ۶ 
- ۷ 
- ۸ 

پسرهای باهوشم موفق باشید.

صدیقی