

جمع در جدول ارزش مکانی

فعالیت



۱- حمید ۴۷۳۵ ریال در قلکش داشت. او ۲۲۳۱ ریال دیگر هم در قلک ریخت. حالا چقدر پول دارد؟ اگر پول هایش به صورت سکه‌های ۱ و ۱۰ و ۱۰۰ و ۱۰۰۰ ریالی باشند،

ی	د	ص	ه
۵	۳	۷	۴
۱	۳	۲	+۲

6	6	9	6
---	---	---	---

چند سکه‌ی ۱ ریالی دارد؟

چند سکه‌ی ۱۰ ریالی دارد؟

چند سکه‌ی ۱۰۰ ریالی دارد؟

چند سکه‌ی ۱۰۰۰ ریالی دارد؟

۲- حمید ۶۹۶۶ ریال در قلکش دارد. او در این هفته ۱۲۲۱ ریال در قلک خود پس انداز کرده است.

ی	د	ص	ه
۶	۶	۹	۶
۱	۲	۲	+۱
۷	۸	۱۱	۷
۷	۸	۱	۸

چند سکه‌ی ۱ ریالی دارد؟

چند سکه‌ی ۱۰ ریالی دارد؟

چند سکه‌ی ۱۰۰ ریالی دارد؟



1 اگر حمید ۱۰ سکه‌ی ۱۰۰ ریالی را با یک سکه‌ی ۱۰۰۰ ریالی عوض کند، چند سکه‌ی ۱۰۰ ریالی برایش باقی می‌ماند؟


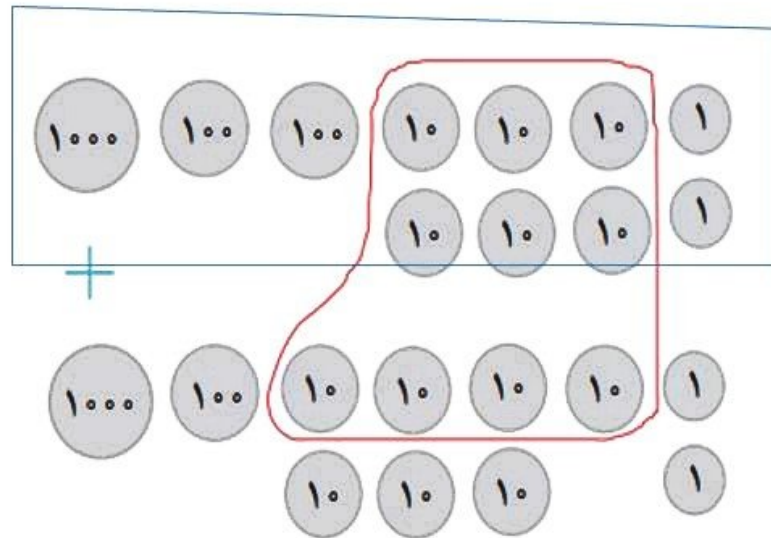
8 او با یک سکه‌ی ۱۰۰۰ ریالی که در مقابل سکه‌های ۱۰۰ ریالی اش گرفته است، روی هم چند سکه‌ی ۱۰۰۰ ریالی دارد؟

۳- جمعی را که شکل زیر نشان می‌دهد، در جدول ارزش مکانی بنویسید.
این ده سکه‌ی ۱۰ ریالی را با چه سکه‌ای عوض می‌کنید؟

1

ه	ص	د	ی
1	2	6	2
1	1	7	2
2	3	13	4

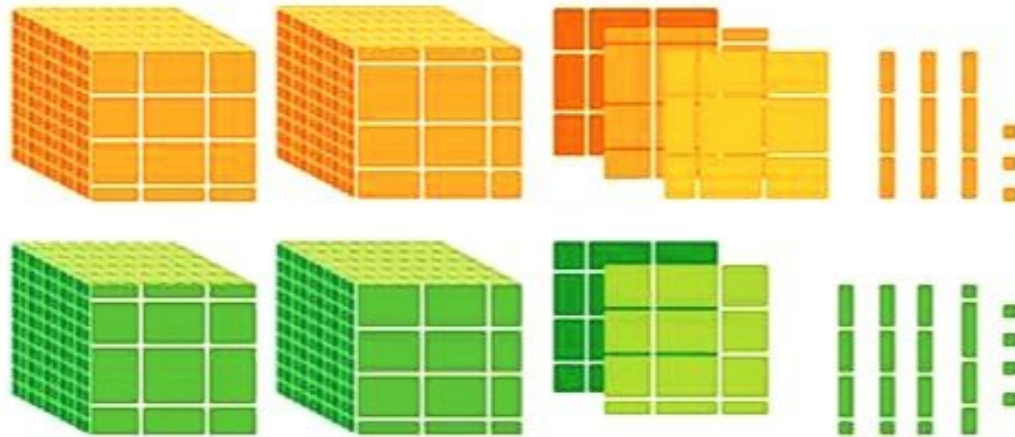
2 4 3 4



کار در کلاس



با توجه به شکل‌ها، جمع‌ها را انجام دهید یا برای جمع‌های داده شده شکل بکشید.



$$\begin{array}{r} 2333 \\ + 2244 \\ \hline \end{array}$$

4 5 7 7