

# ارمغان هفته - سوم دبستان

شماره‌ی

۲۲

نام و نام خانوادگی: ..... تاریخ: ..... نام آموزگار: .....

مطالعات اجتماعی < درس ۱۸: مدرسه‌ی دوست داشتنی ما  
هدیه‌های آسمان < درس ۱۴: خنکام را دوست دارم.  
قرآن < فصل ۳: انس با قرآن کریم (۱-۰)

ریاضی < فصل ۶: جمع و تفریق فرآیندی  
علوم < درس ۱۱: بکاربرد و ببینید  
فارسی < درس ۱۴: ایران آباد

## ریاضی

جمع و تفریق زیر را با روش فرآیندی محاسبه کنید.

$$\begin{array}{r} 6171 \\ + 1825 \\ \hline \end{array}$$

$$\begin{array}{r} 6452 \\ + 2786 \\ \hline \end{array}$$

$$\begin{array}{r} 8736 \\ - 2925 \\ \hline \end{array}$$

$$\begin{array}{r} 7496 \\ - 3286 \\ \hline \end{array}$$

برنا ۷۴۰ تومان پول دارد. پول برادرش ۲۳۱ تومان از او بیش‌تر است. آنها روی هم چند تومان پول دارند؟

حاصل جمع و تفریق‌های زیر را به صورت ذهنی به دست آورید.

$$6000 - 4000 = \dots\dots\dots$$

$$4100 + 900 = \dots\dots\dots$$

$$1700 + 300 = \dots\dots\dots$$

$$9000 - 700 = \dots\dots\dots$$

$$5000 + 2000 = \dots\dots\dots$$

$$4000 - 500 = \dots\dots\dots$$

# ارمغان هفته - سوم دبستان

شماره‌ی

۲۲

نام و نام خانوادگی: ..... تاریخ: ..... نام آموزگار: .....

ریاضی < فصل ۶: جمع و تفریق فرآیندی

علوم < درس ۱۱: یکارید و ببینید

فارسی < درس ۱۴: ایران آباد

مطالعات اجتماعی < درس ۱۸: مدرسه‌ی دوست داشتنی ما

هدیه‌های آسمان < درس ۱۴: خانه‌ام را دوست دارم.

قرآن < فصل ۳: انس با قرآن کریم (۱-۰)

$$\begin{array}{r} 6171 \\ + 1825 \\ \hline 7996 \\ + 25 \\ \hline 7991 \\ + 5 \\ \hline 7996 \\ + 740 \\ + 231 \\ \hline 971 \end{array}$$

$$\begin{array}{r} 6171 \\ + 1825 \\ \hline \end{array}$$

$$\begin{array}{r} 971 \\ + 740 \\ \hline \end{array}$$

۱۷۱۱

$$\begin{array}{r} 6452 \\ + 2786 \\ \hline 9238 \\ + 86 \\ \hline 9232 \\ + 6 \\ \hline 9238 \end{array}$$

$$\begin{array}{r} 6452 \\ + 2786 \\ \hline 9238 \\ 6736 \\ - 925 \\ \hline 5811 \\ 5836 \\ - 25 \\ \hline 5811 \\ - 5 \\ \hline 5811 \end{array}$$

ریاضی ۸۷۳۶

جمع و تفریق زیر را با روش فرآیندی محاسبه کنید.

$$\begin{array}{r} 8736 \\ - 2925 \\ \hline \end{array}$$

$$\begin{array}{r} 7496 \\ - 3286 \\ \hline \end{array}$$

$$\begin{array}{r} 7496 \\ - 3286 \\ \hline 4210 \\ 4496 \\ - 286 \\ \hline 4210 \\ - 86 \\ \hline 4210 \\ - 6 \\ \hline 4210 \end{array}$$

برنا ۷۴۰ تومان پول دارد. پول برادرش ۲۳۱ تومان از او بیش تر است. آنها روی هم چند تومان پول دارند؟

روی هم ۱۷۱۱ تومان پول دارند

پول برادرش

حاصل جمع و تفریق‌های زیر را به صورت ذهنی به دست آورید.

$$6000 - 4000 = 2000$$

$$4100 + 900 = 5000$$

$$1700 + 200 = 1900$$

$$9000 - 700 = 8300$$

$$5000 + 2000 = 7000$$

$$4000 - 500 = 3500$$



با حذف رقم یکان و دهگان و صدگان حاصل جمع و تفریق‌های زیر را از بین پاسخ‌ها پیدا کنید.

$$\begin{array}{r} 3562 \\ - 2487 \\ \hline \end{array} \rightarrow \begin{array}{r} \dots\dots\dots \\ \dots\dots\dots \\ \hline \dots\dots\dots \end{array}$$

$$\begin{array}{r} 1768 \\ + 4359 \\ \hline \end{array} \rightarrow \begin{array}{r} \dots\dots\dots \\ \dots\dots\dots \\ \hline \dots\dots\dots \end{array}$$

1100	6000	5000	6800	1000
------	------	------	------	------



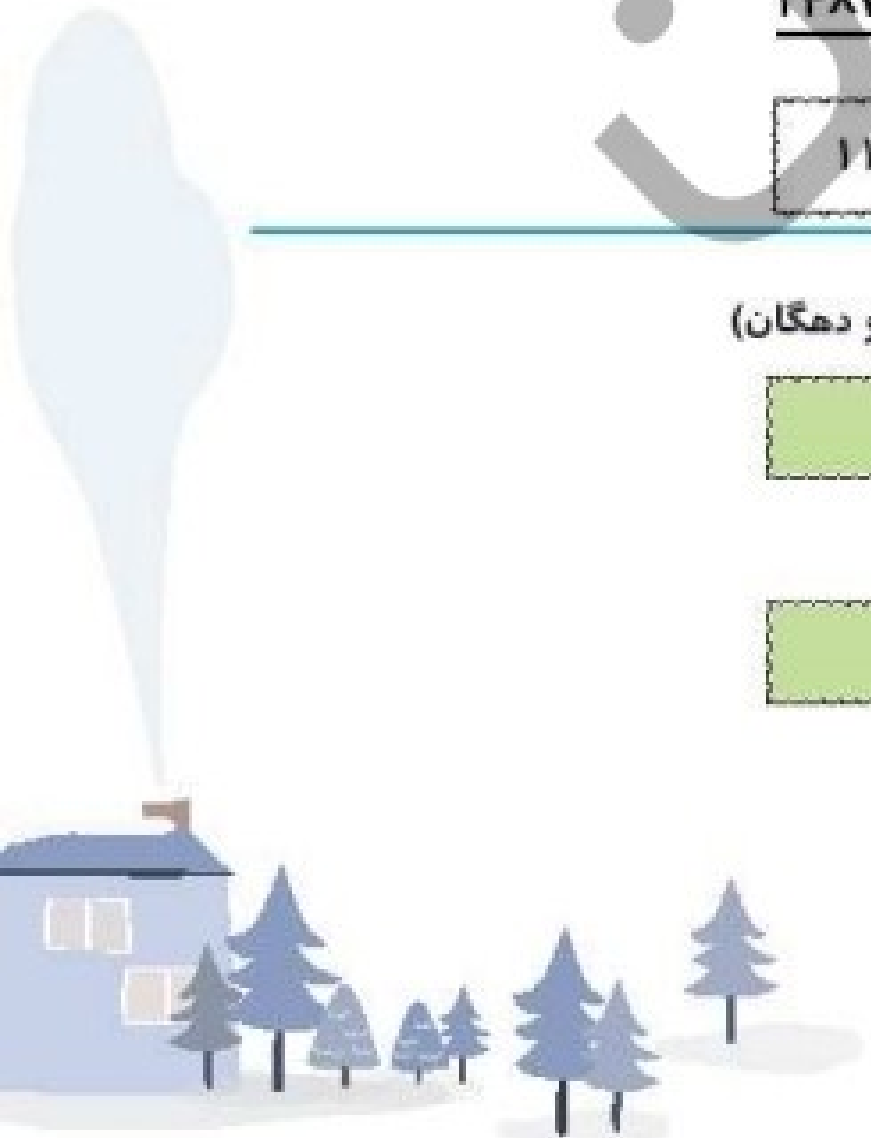
حاصل تقریبی هر عبارت بین کدام دو عدد هزارتایی قرار می‌گیرد؟ (با حذف رقم یکان و دهگان)

$$\boxed{\phantom{0000}} \leftarrow 6351 + 1482 \rightarrow \boxed{\phantom{0000}}$$

+ .....

$$\boxed{\phantom{0000}} \leftarrow 4458 - 2367 \rightarrow \boxed{\phantom{0000}}$$

- .....





با حذف رقم یکان و دهگان و صدگان حاصل جمع و تفریق‌های زیر را از بین پاسخ‌ها پیدا کنید.

$$\begin{array}{r} 3562 \\ - 2487 \\ \hline \end{array} \rightarrow \begin{array}{r} \dots 2000 \\ \dots 2000 \\ \hline \dots 1000 \end{array}$$

$$\begin{array}{r} 1768 \\ + 4359 \\ \hline \end{array} \rightarrow \begin{array}{r} \dots 1000 \\ \dots 4000 \\ \hline \dots 5000 \end{array}$$



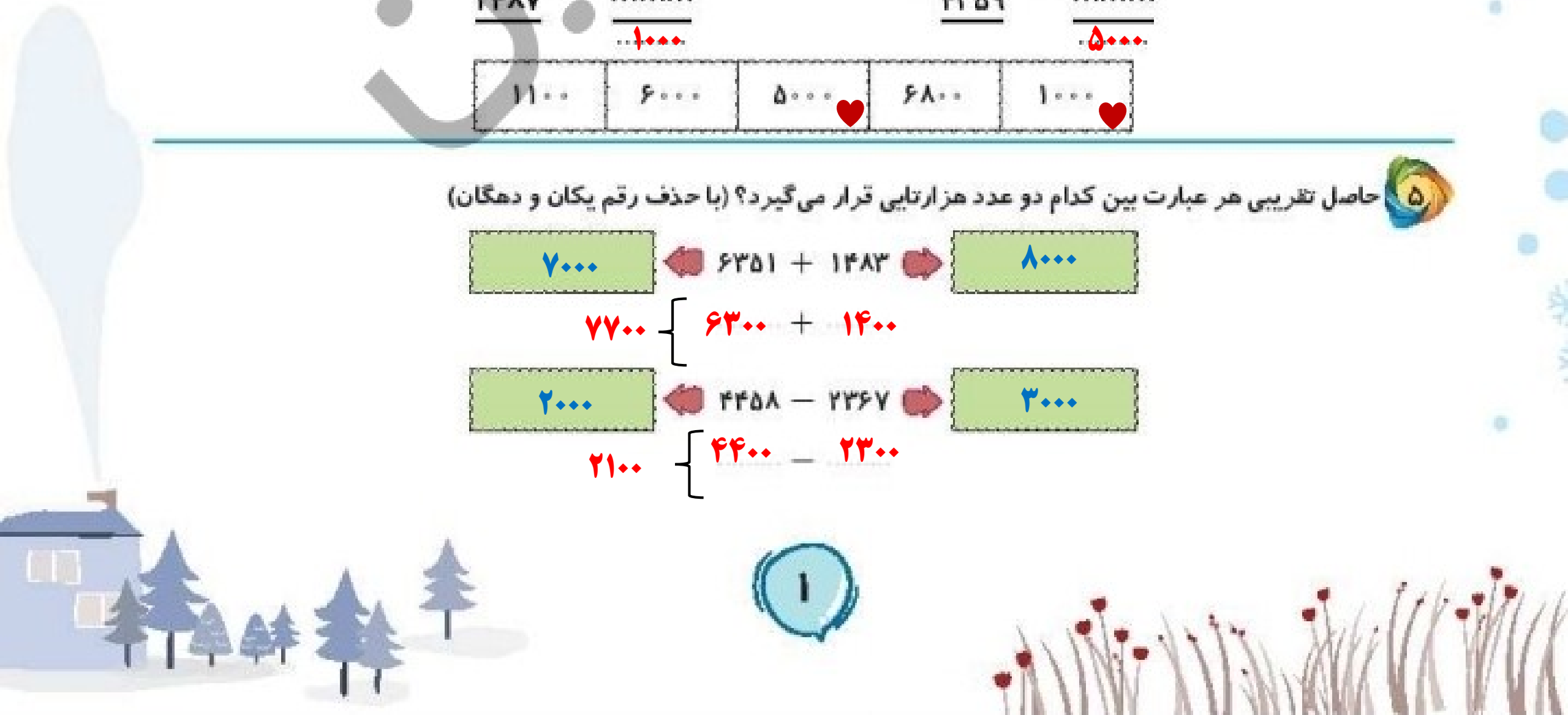
حاصل تقریبی هر عبارت بین کدام دو عدد هزارتایی قرار می‌گیرد؟ (با حذف رقم یکان و دهگان)

$$7000 \quad \leftarrow 6351 + 1482 \quad \rightarrow \quad 8000$$

$$7700 \quad \left\{ \begin{array}{l} 6300 + 1400 \end{array} \right.$$

$$2000 \quad \leftarrow 4458 - 2267 \quad \rightarrow \quad 3000$$

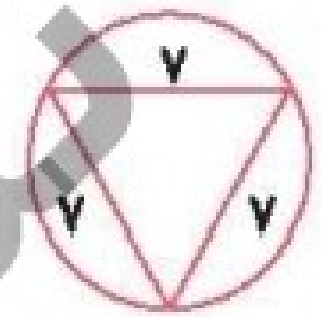
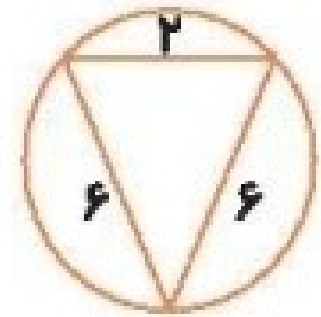
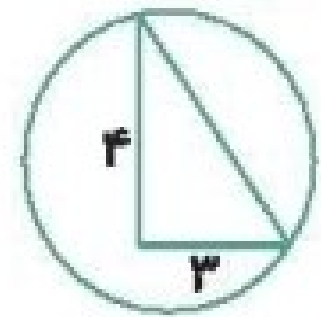
$$2100 \quad \left\{ \begin{array}{l} 4400 - 2300 \end{array} \right.$$





با توجه به شکل‌های زیر گزینه‌ی مناسب را رنگ کنید. 

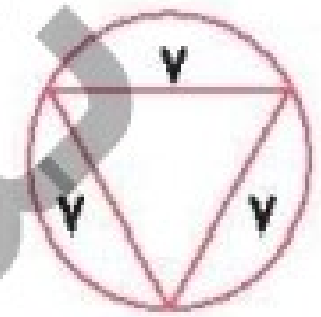
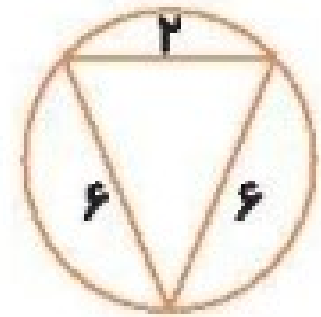
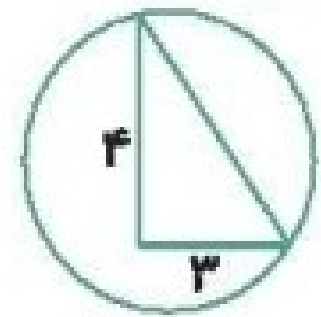
مثلث متساوی الساقین	مثلث قائم الزاویه	مثلث متساوی الاضلاع
مثلث متساوی الساقین	مثلث قائم الزاویه	مثلث متساوی الاضلاع
مثلث متساوی الساقین	مثلث قائم الزاویه	مثلث متساوی الاضلاع






با توجه به شکل‌های زیر گزینه‌ی مناسب را رنگ کنید.

مثلث متساوی‌الساقین	مثلث قائم‌الزاویه 	مثلث متساوی‌الاضلاع
مثلث متساوی‌الساقین 	مثلث قائم‌الزاویه	مثلث متساوی‌الاضلاع
مثلث متساوی‌الساقین	مثلث قائم‌الزاویه	مثلث متساوی‌الاضلاع 





۱ نوع ریشه‌ی هر کدام از تصاویر را بنویسید. (راست - افشان)



--	--	--	--	--

۲ گیاهانی را که ریشه‌ی آن‌ها خوراکی است با علامت ضربدر مشخص کنید.



۳ سه گیاه نام ببرید که مواد غذایی را در ریشه‌ی خود ذخیره می‌کنند.


.....

.....



نوع ریشه‌ی هر کدام از تصاویر را بنویسید. (راست - افشان)

۱



راست

راست



راست

افشان

افشان

گیاهانی را که ریشه‌ی آن‌ها خوراکی است با علامت ضربدر مشخص کنید.

۲



سه گیاه نام ببرید که مواد غذایی را در ریشه‌ی خود ذخیره می‌کند.

۳

ترب - هویج - سلغم - لپو

۴

از برگ چه گیاهی به عنوان خوراکی و غذا استفاده می‌شود؟ (سه مورد نام ببرید).

## فارسی

زیر کلمات نادرست خط بکشید و درست آن‌ها را بنویسید.

سنت ، بحس ، محلی ، وضعفه ، باعث ، حفظ ، برخواست

بیت زیر را کامل کنید.

دست در دست هم نهیم به مهر

در متن درس چهاردهم، واژه‌هایی که بی‌نقطه هستند پیدا کنید و بنویسید.

از برگ چه گیاهی به عنوان خوراکی و غذا استفاده می‌شود؟ (سه مورد نام ببرید).

کاهو - اسفناج - چغندر - نعناع

فارسی

زیر کلمات نادرست خط بکشید و درست آن‌ها را بنویسید.

سنت ، بحس ، محلی ، وضیفه ، باعث ، حفظ ، برخواست

صنعت - بحث - وظیفه - برخاست

بیت زیر را کامل کنید.

میهن خویش را کنیم آباد

دست در دست هم دهیم به مهر

در متن درس چهاردهم، واژه‌هایی که بی‌نقطه هستند پیدا کنید و بنویسید.

رسم - درس - اصلی - گروه - ولی - طول - سال - احمد - کلاس - مهم - عمل - همدلی - همکاری

در متن درس چهاردهم، واژه‌هایی که بی‌نقطه هستند پیدا کنید و بنویسید.



Handwriting practice lines consisting of a solid top line, a dashed middle line, and a solid bottom line.

برای این جدول پرسش‌های مناسب بنویسید.



			ب	آ	۱
		ر	ز	خ	۲
	ن	ط	ی	م	۳
	ن	ا	ر	ی	۴
ه	ا	ک	د	ا	۵

Five numbered horizontal lines for writing questions, corresponding to the rows of the crossword puzzle.

### مطالعات اجتماعی

کدام کارها در مدرسه انجام نمی‌شود؟ مشخص کنید.



رسم - درس - اصلی - گروه - ولی - طول - سال - احمد - کلاس - مهم - عمل - همدلی - همکاری

برای این جدول پرسش‌های مناسب بنویسید.

			ب	آ	۱
		ر	ز	خ	۲
	ن	ط	ی	م	۳
	ن	ا	ر	ی	۴
ه	ا	گ	د	ا	۵

۱- مایه ی حیات

۲- نام دریای شمال ایران

۳- نام دیگر وطن

۴- کشوری که از هر دو سو ( شمال و جنوب ) به دریا منتهی می شود

۵- محل تولد

### مطالعات اجتماعی

۱ کدام کارها در مدرسه انجام نمی‌شود؟ مشخص کنید.



۲ پنج مورد از کارهای مورد علاقه‌ی خود در مدرسه را بنویسید.

۳ هریک از کارهای سمت راست در کدام مکان از مدرسه انجام می‌گیرد؟ (وصل کنید).

سالن اجتماعات

آزمایشگاه

حیاط

نمازخانه

نماز خواندن

اجرای نمایش

انجام آزمایش‌های علمی

ورزش و بازی

### هدیه‌های آسمان - قرآن


۱ نام‌های حضرت زهرا (س) را از جدول زیر پیدا کنید. علاوه‌بر رنگ کردن آن‌ها در جدول، نام‌ها را بنویسید.

ط	ک	ر	ا	ب	م
م	ط	م	ط	ا	ف
ر	ط	ق	ی	ر	ص
ن	ط	ر	ط	ا	ط
ی	ط	ن	ر	ح	م
ط	ن	ا	ح	ی	ر

پنج مورد از کارهای مورد علاقه‌ی خود در مدرسه را بنویسید.

هنر، ورزش، موسیقی و ...

هر یک از کارهای سمت راست در کدام مکان از مدرسه انجام می‌گیرد؟ (وصل کنید).



### هدیه‌های آسمان - قرآن

نام‌های حضرت زهرا (س) را از جدول زیر پیدا کنید. علاوه‌بر رنگ کردن آن‌ها در جدول، نام‌ها را بنویسید.

ه	ک	ر	ا	ب	م
م	ط	م	ط	ا	ف
ر	ط	ق	ی	د	ص
ضی	ط	ر	ط	ا	ط
ی	ط	ث	د	ح	م
ط	ن	ا	ح	ی	ر

مبارکه  
فاطمه  
صدیقه  
طاهره  
محدثه  
ریحانه  
مرضیه