




موضوع: کاربردگ عیدانه (۳)

تاریخ

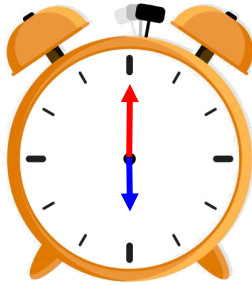
نام و نام خانوادگی

درس: ریاضی

۱- زمانی را که هر ساعت نشان می دهد، بنویس.



زمان بین ..... و ..... است.



ساعت ..... است.



زمان بین ..... و ..... است.

۲- حاصل جمع های زیر را به صورت ذهنی پیدا کن.

$$10 + 30 + 10 + 20 + 5 = \dots\dots\dots$$

$$5 + 5 + 30 + 10 + 20 = \dots\dots\dots$$

$$50 + 10 + 20 + 5 = \dots\dots\dots$$

$$20 + 20 + 5 + 10 + 5 = \dots\dots\dots$$

۳- از عدد ۴۵ شروع کن و تا عدد ۶۳ بنویس.

۵۴ - .....

از عدد ۷۵ پنج تا پنج تا رو به عقب بشمار و بنویس.

۷۵ - .....



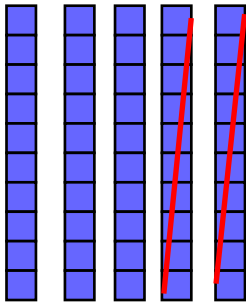
موضوع: کاربردگ عیدانه (۳)

تاریخ


نام و نام خانوادگی

درس: ریاضی

۴- برای هر شکل عبارت بنویس.



.....



.....

۵- زیبا از آموزگارش سه کارت ۵ امتیازی گرفته بود. او دیروز از کمد جایزه ها مداد ۶ امتیازی را برداشت. چند امتیاز برای زیبا باقی مانده است؟

