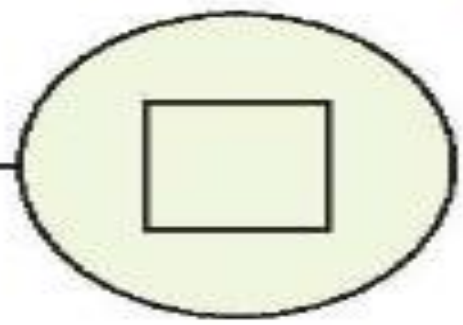
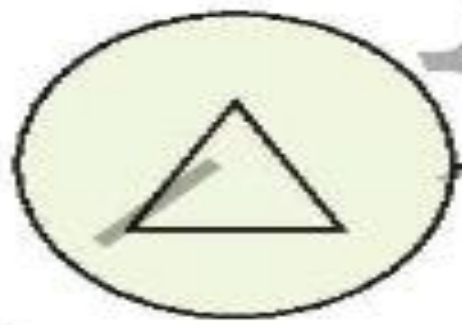
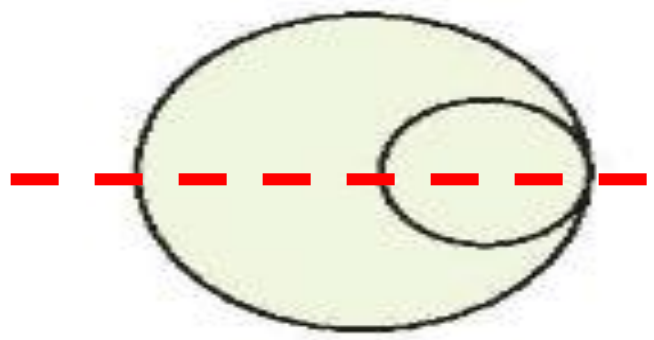
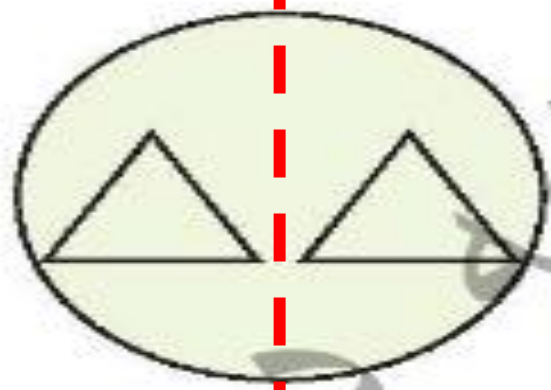
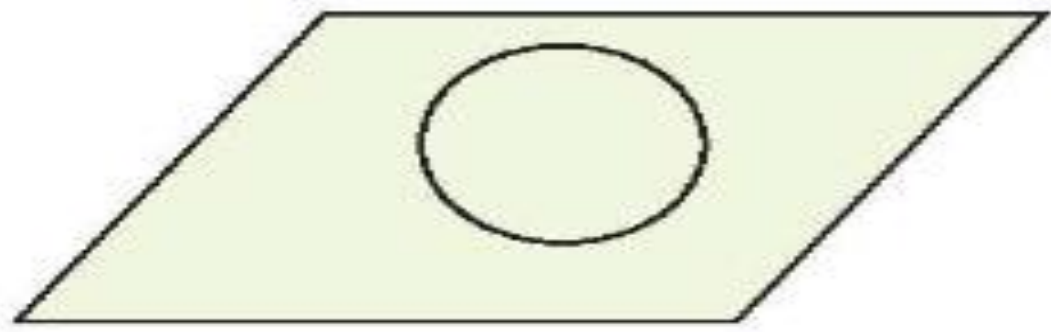


هفته آموزشی


یازدهم

| موضوع | شماره سوال |
|------------------|------------|
| هوش ریاضی- تقارن | ۱ |
| هوش کلامی | ۲ |
| هوش فضایی | ۳ |
| سرعت، دقت، تمرکز | ۴ |

۱. خط تقارن شکل‌های متقارن را رسم کن.



۲. الف) بهاره ساعت هفت، ورزش کردن را شروع کرد. کمی بعد خسته شد و نیاز به استراحت داشت. وقتی به ساعت نگاه کرد، ساعت هفت و نیم بود. مدت زمانی که او ورزش کرده را روی ساعت رنگ بزن.



ب) سه ساعت بعد از زمانی که او شروع به ورزش کرد، چه ساعتی می شود؟

ساعت ۱۰