

به ۵۵ شماره بود و نبود

چهار هوش ۲

نسخه

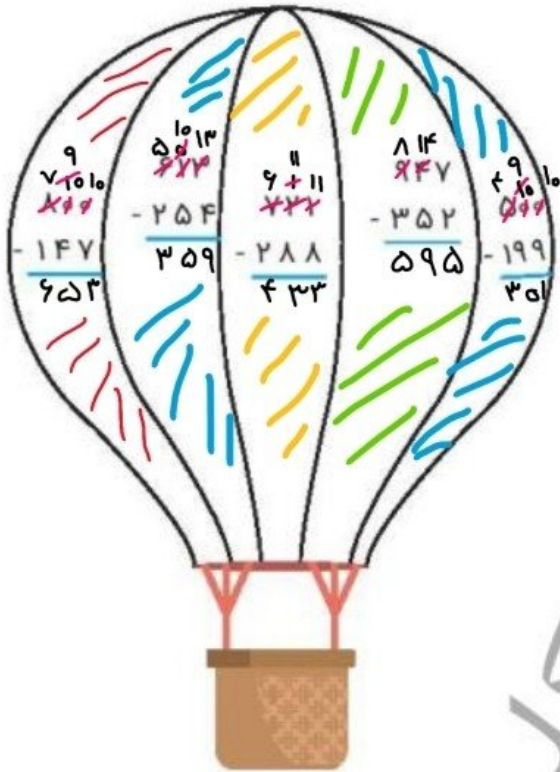


هوش و ریاضی

هفته های ۲۱ - ۲۹

موضوع	شماره سؤال	هفته آموزشی
هوش ریاضی- جمع و تفریق اعداد سه رقمی	۱	بیست و چهارم
هوش کلامی	۲	
هوش فضایی	۳	
سرعت، دقت، تمرکز	۴	

صفحه ی ۵۲ کتاب چهار هوش



۱. با توجه به راهنما، بالن را رنگ آمیزی کن.

عدد	رنگ
۳۰۰-۴۰۰	آبی
۴۰۰-۵۰۰	زرد
۵۰۰-۶۰۰	سبز
۶۰۰-۷۰۰	قرمز

۲. به پرسش‌ها پاسخ بده و رمز قفل را پیدا کن.

- ◆ نشانه‌ی اول و آخر کلمه‌ی «نان»: **ن**
- ◆ دومین نشانه در کلمه‌ی «خوشحال»: **و**
- ◆ اولین نشانه در کلمه‌ی «راست‌گو»: **ر**
- ◆ چهارمین نشانه در کلمه‌ی «ابرو»: **و**
- ◆ اولین نشانه در کلمه‌ی «زاگرس»: **ز**



نشانه‌های به‌دست آمده را به‌ترتیب کنار هم بگذار و رمز قفل را پیدا کن.

صفحه ی ۵۲ کتاب چهار هوش

چهار هوش دوم دبستان

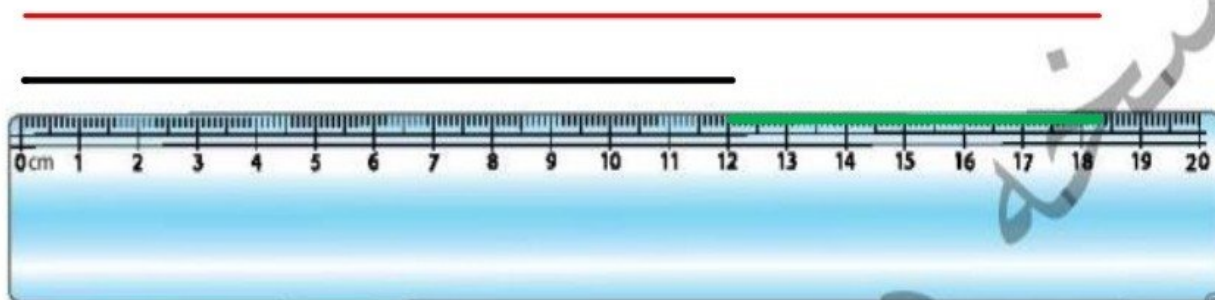


علوی

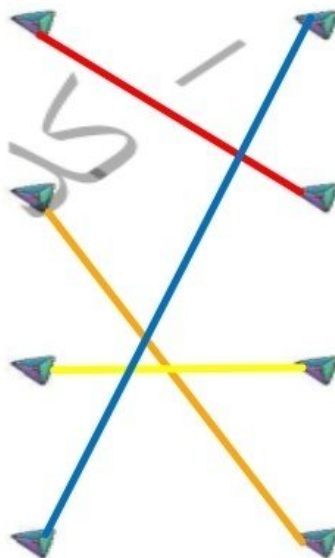

صفحه ی ۵۳ کتاب چهار هوش

۳. اندازه‌ی مداد مشکی و قرمز را روی خط‌کش زیر مشخص کن. سپس اختلاف طول آن‌ها را با مداد سبز روی خط‌کش نشان بده.

- ◆ مداد مشکی: ۱۲^۰ میلی‌متر
- ◆ مداد قرمز: ۱۸^۳ میلی‌متر



۴. با توجه به قسمت‌های رنگ شده، هر عبارت را به شکل مناسبش وصل کن.



۳ قسمت از ۴ قسمت مساوی

۴ قسمت از ۶ قسمت مساوی

۵ قسمت از ۸ قسمت مساوی

۳ قسمت از ۸ قسمت مساوی

صفحه ی ۵۳ کتاب چهار هوش
25/58

موضوع

شماره سؤال

هوش ریاضی

۱

هوش فضایی

۲

هوش کلامی

۳

سرعت، دقت، تمرکز

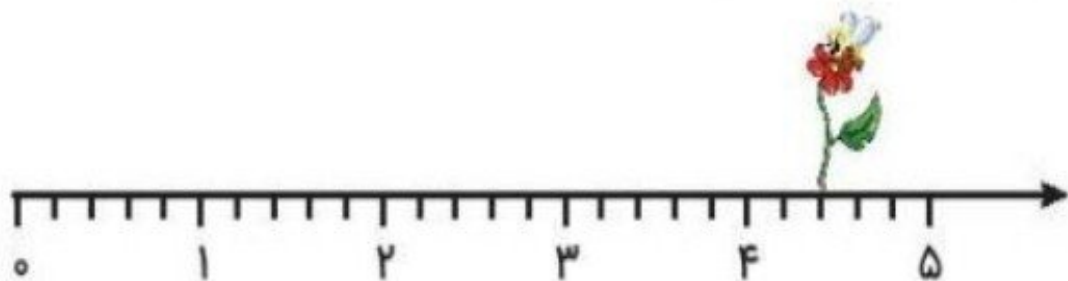
۴

هفته آموزشی


بیست و پنجم

صفحه ی ۵۴ کتاب چهار هوش

۱. در این محورها هر واحد به قسمت‌های مساوی تقسیم شده و زنبوری روی گل این قسمت نشسته است.

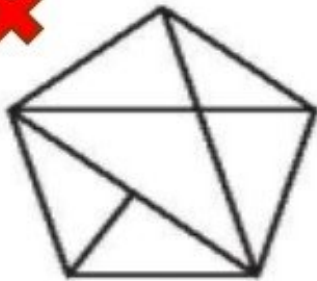
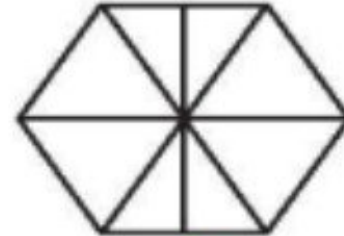
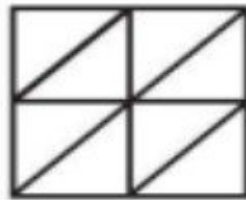
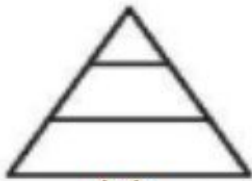


این زنبور روی۴..... واحد و۲..... قسمت از۵..... قسمت مساوی نشسته است.



این زنبور روی۳..... واحد و۳..... قسمت از۴..... قسمت مساوی نشسته است.

۲. شکل‌هایی که به قسمت‌های مساوی تقسیم نشده است را رنگ کن.



علوی

۳. دلک‌های یک سیرک به صف ایستاده‌اند. فیروز به نوروز که پشتش ایستاده است گفت: «چهار همکار پشت من هستند و نوروز گفت: فقط سه همکار از من جلوترند، چند دلک در صف ایستاده‌اند؟
۷ دلک در صف ایستاده‌اند.

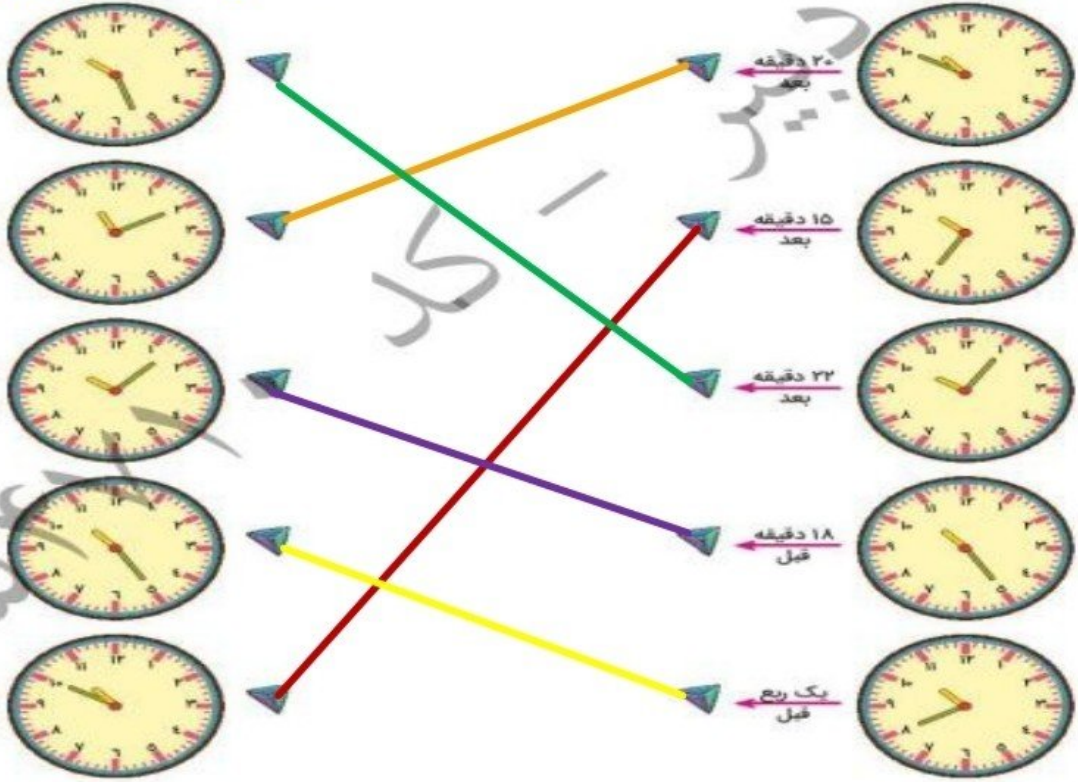


× × × نوروز فیروز × ×

ابتدای
صف

۴. هر ساعت را به زمان خواسته شده وصل کن.

صفحه ی ۵۵ کتاب چهار هوش



34/58

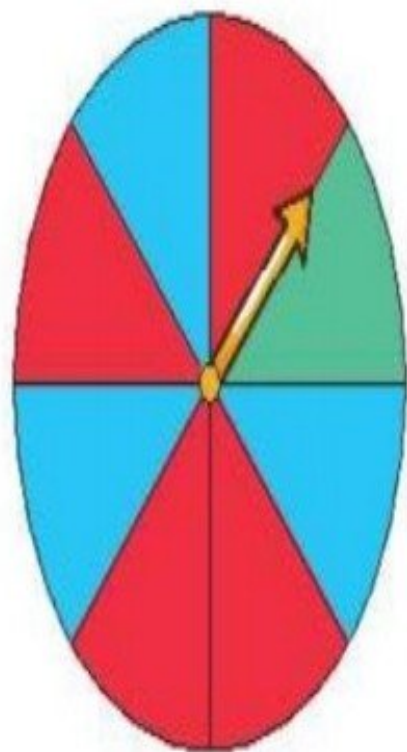
موضوع	شماره سؤال	هفته آموزشی بیست و ششم
هوش ریاضی- احتمال	۱	
سرعت، دقت، تمرکز	۲	
هوش فضایی	۳	
هوش کلامی	۴	

35/58

صفحه ی ۵۶ کتاب چهار هوش

۱. اگر دیبا صفحه ی چرخنده را بچرخاند و ۷۰ امتیاز به دست بیاورد می تواند در یک مسابقه شرکت کند.

برای به دست آوردن این امتیاز، فلش باید روی چه رنگ هایی و چند بار بایستد؟



سبز + قرمز + قرمز

$$۳۰ + ۳۰ + ۱۰ = ۷۰$$

قرمز: ۳۰ امتیاز

آبی: ۲۰ امتیاز

سبز: ۱۰ امتیاز