

موضوع	شماره سؤال
هوش ریاضی- جمع و تفریق اعداد سه رقمی	۱
هوش کلامی	۲
سرعت، دقت، تمرکز	۳
هوش فضایی	۴

۱. صبا یک دفتر و یک کتاب از فروشگاه لوازم التحریر خرید. او چقدر پول خرج کرده است؟ (با سکه بکش.)




۲۰۴ ریال



۶۵۳ ریال

۲. پرسا تصمیم گرفت به مناسبت تولد دوستش یک درخت بکارد و با این کار او را خوشحال کند. بعد از بررسی متوجه شد که می‌تواند به یک مجموعه این سفارش را بدهد. آن‌ها در مناطق مختلف با توجه به پوشش گیاهی، نهال می‌کارند و آن را آبیاری می‌کنند تا به خوبی رشد کرده و به طبیعت آن منطقه کمک کند. این هدیه هم به زمین کمک کرده و هم دیگران را شاد می‌کند، چون نهال به نام آن‌هاست. در روز درخت‌کاری (۱۵ اسفند) می‌توانی به کمک بزرگ‌ترها برای عزیزانتان این هدیه را تهیه کنی.

حال مراحل رشد دانه را توضیح بده.



چهار هوش دوم دبستان



علوی

۳. با توجه به بسته‌های صدتایی، ده‌تایی و یکی عدد شکل را پیدا کن و دور آن خط بکش.



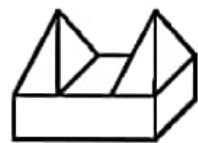
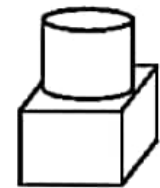
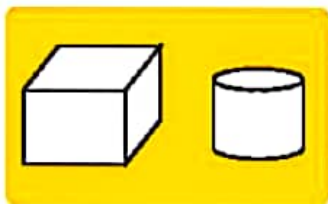
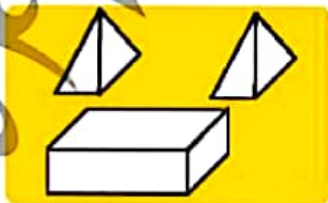

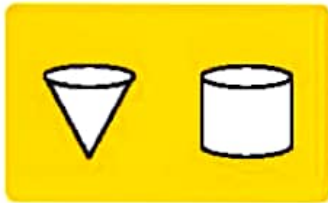
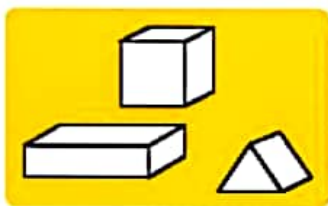
۴۳۲ (۴)

۵۰۲ (۳)

۵۲۲ (۲)

۴۲۲ (۱)

۴. هر یک از تصاویر سمت راست، از ترکیب کدام مجموعه شکل‌های سمت چپ تشکیل شده است؟ وصل کن.



موضوع	شماره سوال	هفته آموزشی
هوش ریاضی- جمع و تفریق اعداد سه رقمی	۱	بیست و سوم
هوش کلامی	۲	
سرعت، دقت، تمرکز	۳	
هوش فضایی	۴	

۱. صبا یک دفتر و یک کتاب از فروشگاه لوازم التحریر خرید. او چقدر پول خرج کرده است؟ (با سکه بکش)



۲۰۴ ریال



۶۵۳ ریال



۲. پرسا تصمیم گرفت به مناسبت تولد دوستش یک درخت بکارد و با این کار او را خوشحال کند. بعد از بررسی متوجه شد که می‌تواند به یک مجموعه این سفارش را بدهد. آن‌ها در مناطق مختلف با توجه به پوشش گیاهی، نهال می‌کارند و آن را آبیاری می‌کنند تا به خوبی رشد کرده و به طبیعت آن منطقه کمک کند. این هدیه هم به زمین کمک کرده و هم دیگران را شاد می‌کند، چون نهال به نام آن‌هاست. در روز درخت‌کاری (۱۵ اسفند) می‌توانی به کمک بزرگ‌ترها برای عزیزانتان این هدیه را تهیه کنی.


حال مراحل رشد دانه را توضیح بده.

توضیح با توجه به برگ دانش آموز
از رشدش انجام می‌شود



علوی

۳. با توجه به بسته‌های صدتایی، ده‌تایی و یکی عدد شکل را پیدا کن و دور آن خط بکش.



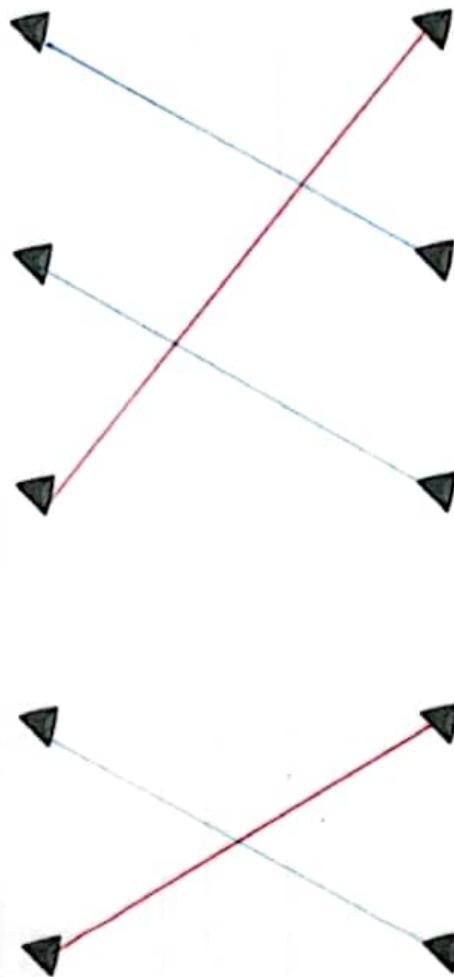
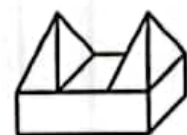
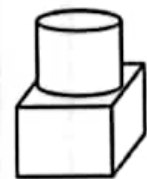
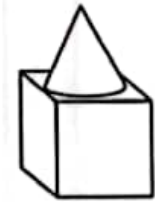
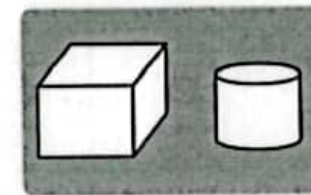
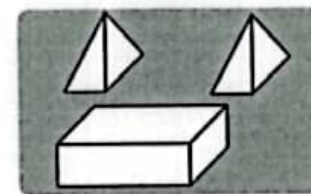
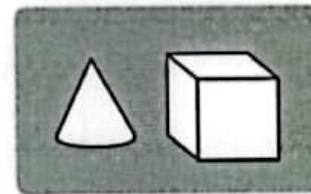
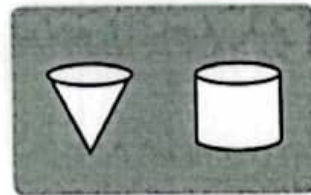
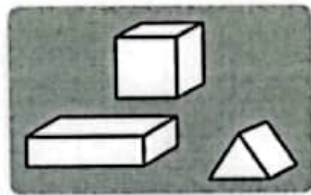
۴۳۲ (۴)

۵۰۲ (۳)

۵۲۲ (۲)

۴۳۲ (۱)

۴. هر یک از تصاویر سمت راست، از ترکیب کدام مجموعه شکل‌های سمت چپ تشکیل شده است؟ وصل کن.



۱. صبا یک دفتر و یک کتاب از فروشگاه لوازم التحریر خرید. او چقدر پول خرج کرده است؟ (با سکه بکش.)

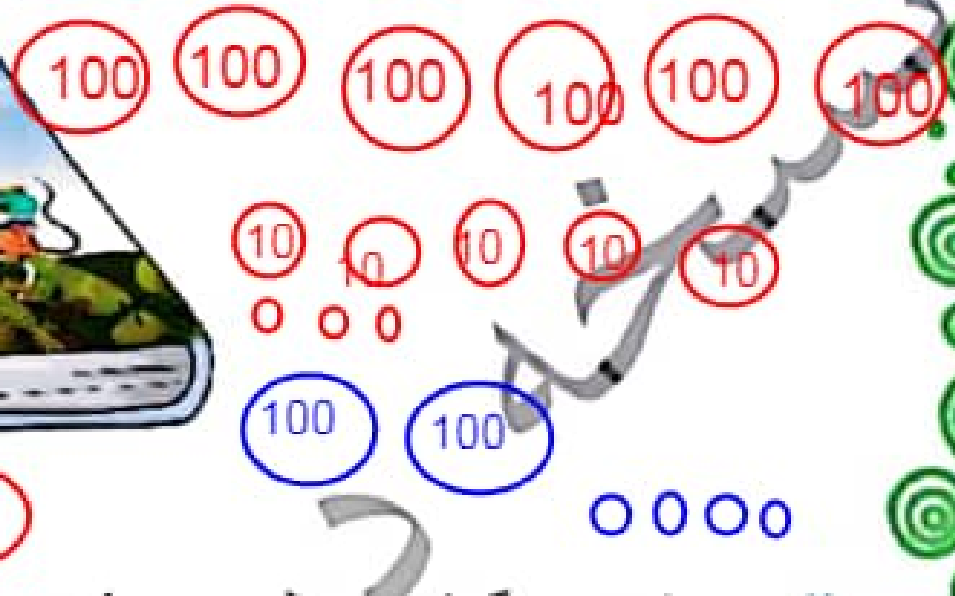


۲۰۴ ریال


$$\begin{array}{r} 653 \\ + 204 \\ \hline 857 \end{array}$$




۶۵۳ ریال



۳. با توجه به بسته‌های صدتایی، ده‌تایی و یکی عدد شکل را پیدا کن و دور آن خط بکش.



100



10

۴۳۲ (۴)

۵۰۲ (۳)

۵۲۲ (۲)

۴۲۲ (۱)

صدتایی	ده‌تایی	یکی
4	9	12
4	10	2
5	0	2

۴. هر رنگ از تصاویر راست راسته را ترکیب کدام مجموعه شکل‌های سمت چپ تشکیل شده است؟

انتخابی از زهرای

