



موضوع:

تاریخ:

نام و نام خانوادگی:

هدف:

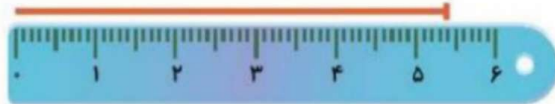
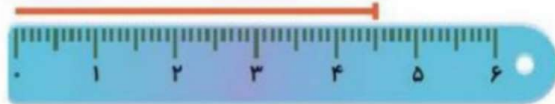
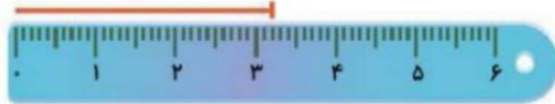
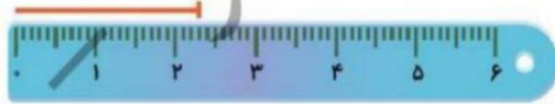
۴. اندازه‌ای که هر خطکش نشان می‌دهد، به عدد آن وصل کن.

۵۴ میلی‌متر

۲۳ میلی‌متر

۴۵ میلی‌متر

۳۲ میلی‌متر





موضوع:

تاریخ

نام و نام خانوادگی

هدف:

۲. ساجده ۷ سال داشت که برادرش به دنیا آمد. حالا از آن زمان ۵ سال گذشته است و هر دو بزرگ

شده‌اند. حالا این خواهر و برادر روی هم چند سال دارند؟



۱۲ سال ساجده

۵ سال برادرش

$$۱۲ + ۵ = ۱۷$$





موضوع:

تاریخ:

نام و نام خانوادگی:

هدف:



۲. به پرسش‌ها پاسخ بده و رمز قفل را پیدا کن.

- ◆ نشانه‌ی اول و آخر کلمه‌ی «نان»:
- ◆ دومین نشانه در کلمه‌ی «خوشحال»:
- ◆ اولین نشانه در کلمه‌ی «راست‌گو»:
- ◆ چهارمین نشانه در کلمه‌ی «ابرو»:
- ◆ اولین نشانه در کلمه‌ی «زاگرس»:

نشانه‌های به‌دست آمده را به‌ترتیب کنار هم بگذار و رمز قفل را پیدا کن.

نوروز

چهارهوش دوم دبستان






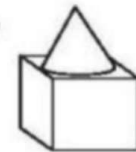
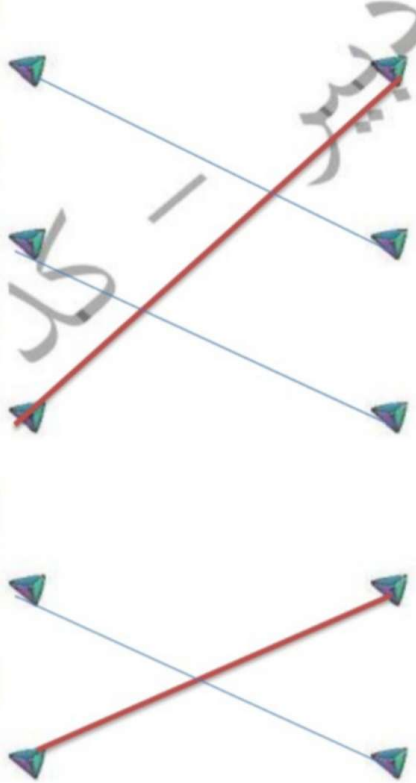
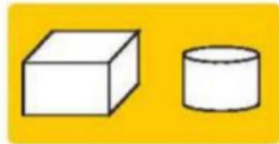
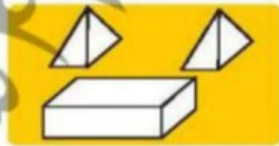
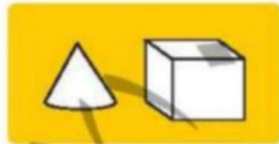

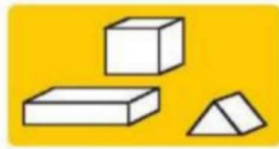
موضوع:

تاریخ:


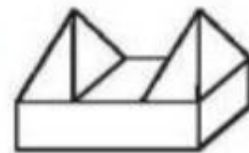
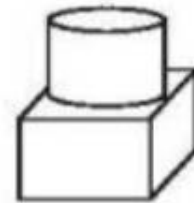
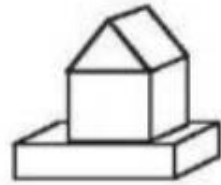
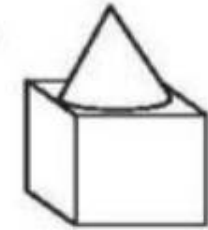
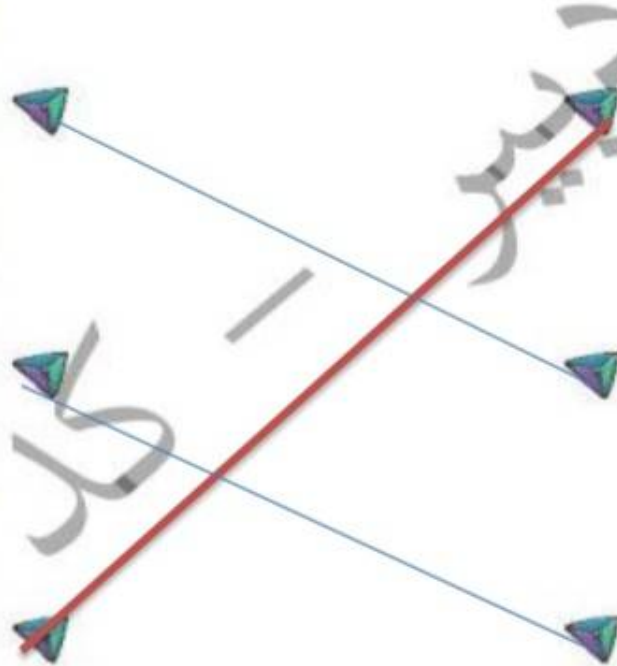
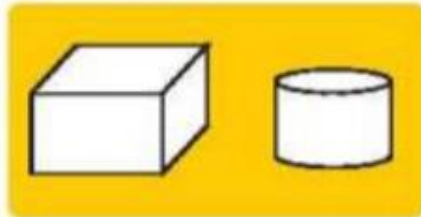
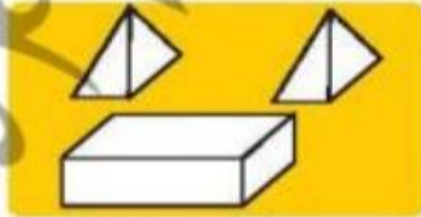
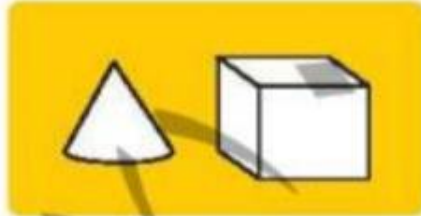
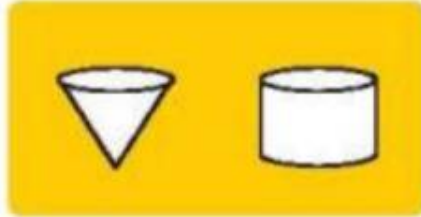
نام و نام خانوادگی:

هدف:

۴. هر یک از تصاویر سمت راست، از ترکیب کدام مجموعه شکل‌های سمت چپ تشکیل شده است؟ وصل کن.


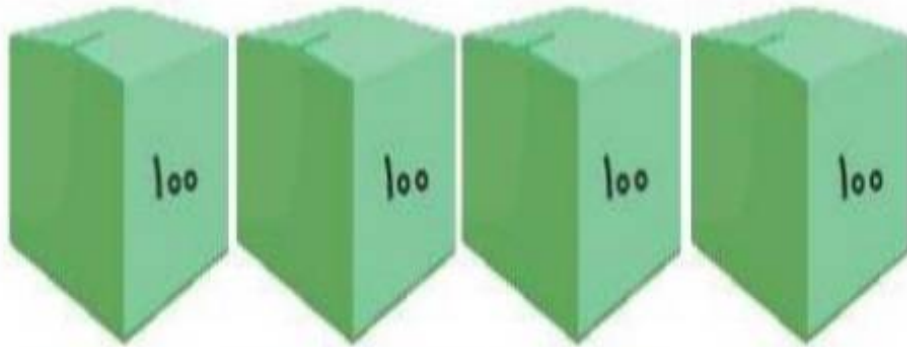


۴. هر یک از تصاویر سمت راست، از ترکیب کدام مجموعه شکل‌های سمت چپ تشکیل شده است؟ وصل کن.



علوی

۳. با توجه به بسته‌های صدتایی، ده‌تایی و یکی عدد شکل را پیدا کن و دور آن خط بکش.



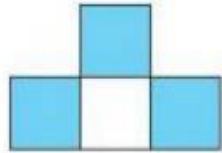
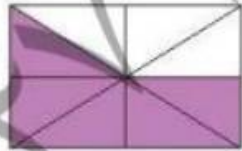
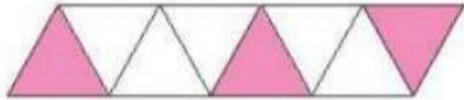
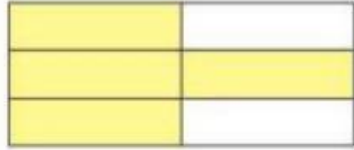
۴۳۲ (۴)

۵۰۲ (۳)

۵۲۲ (۲)

۴۲۲ (۱)

۴. با توجه به قسمت‌های رنگ شده، هر عبارت را به شکل مناسبش وصل کن.



۳ قسمت از ۴ قسمت مساوی



۴ قسمت از ۶ قسمت مساوی



۵ قسمت از ۸ قسمت مساوی



۳ قسمت از ۸ قسمت مساوی