

آپ کا چہرہ

بہ کلاس مجازی امر روز خوش آمدید

روز مبارک

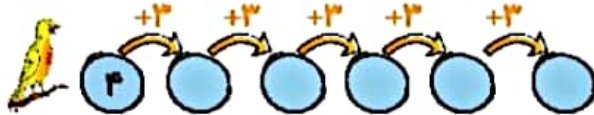
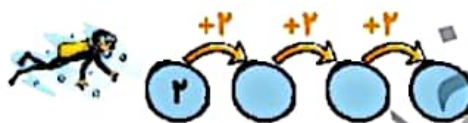
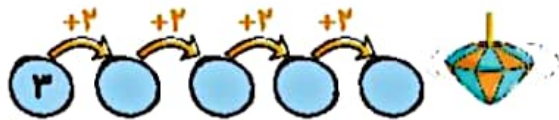
آپ کا پورا گھر

شروع کلاس

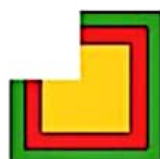
اپنی مبارک

موضوع	شماره سوال	هفته آموزشی
هوش ریاضی - الگوهای عددی	۱	هفدهم
هوش فضایی	۲	
هوش کلاسی	۳	
سرعت، دقت، تمرکز	۴	

۱. جاهای خالی را با عدد مناسب پر کن.


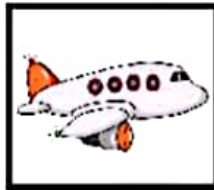
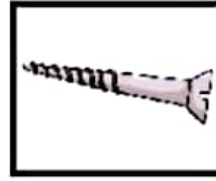


۲. گوشه‌های جدا شده از هر شکل را پیدا و به آن وصل کن.

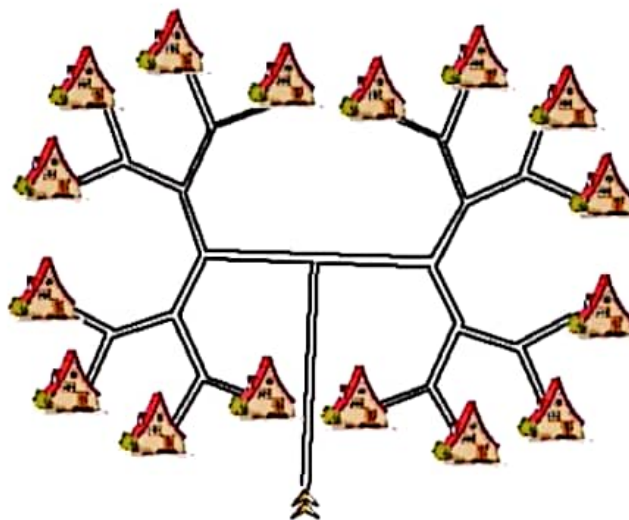


علوی

۳. اسم تصویرهای زیر را بنویس، کدام یک از آن‌ها بیش‌ترین نقطه را دارد؟ دور آن خط بکش.



۴. دو مسیر قرمز و آبی را از بین راه‌ها پیدا کن و رنگ بزن.



عزرا، اقربین
پسرای گلم

آپ کا پیغام

خدا قوت

روزگار کی
سازش



والدین گرامی از همکاری شما